

بِسْمِ اللّٰهِ الرَّحْمٰنِ الرَّحِیْمِ

اللّٰهُمَّ صَلِّ عَلٰی مُحَمَّدٍ وَآلِ مُحَمَّدٍ وَعَجِّلْ فَرَجَهُمْ

زمین شناسی

رشته های علوم تجربی - ریاضی و فیزیک

پایه یازدهم

دوره دوم متوسطه



وزارت آموزش و پرورش سازمان پژوهش و برنامه‌ریزی آموزشی

زمین‌شناسی - پایه یازدهم دوره دوم متوسطه - ۱۱۱۲۳۷	نام کتاب:
سازمان پژوهش و برنامه‌ریزی آموزشی	پدیدآورنده:
دفتر تألیف کتاب‌های درسی عمومی و متوسطه نظری	مدیریت برنامه‌ریزی درسی و تألیف:
محمدحسن بازوبندی، هاله تیمورزاده، فرزانه رجایی، مریم عابدینی و حمیدرضا ملک محمدی (اعضای شورای برنامه‌ریزی)	شناسه افزوده برنامه‌ریزی و تألیف:
محمدحسن بازوبندی، بهروز صاحب‌زاده، مریم عابدینی، ناهید کرباسیان، سروش مدبری، حمیدرضا ناصری و با همکاری احمد حسینی (اعضای گروه تألیف) - محمدحسن بازوبندی (ویراستار علمی) - علی‌اکبر میرجعفری (ویراستار ادبی)	مدیریت آماده‌سازی هنری:
اداره کل نظارت بر نشر و توزیع مواد آموزشی	شناسه افزوده آماده‌سازی:
احمدرضا امینی (مدیر امور فنی و چاپ) - جواد صفری (مدیر هنری، طراح گرافیک) - مریم وثوقی انباردان (صفحه‌آرا) - علیرضا امری کاظمی (عکاس) - الهام محبوب (رسام) - فاطمه باقری مهر، شاداب ارشادی، علیرضا ملکان، فاطمه پزشکی، ناهید خیام‌پاشی (امور آماده‌سازی)	نشانی سازمان:
تهران: خیابان ایرانشهر شمالی - ساختمان شماره ۴ آموزش و پرورش (شهید موسوی)	ناشر:
تلفن: ۸۸۸۳۱۱۶۱-۹، دورنگار: ۸۸۳۰۹۲۶۶، کد پستی: ۱۵۸۴۷۴۷۳۵۹	چاپخانه:
وبگاه: www.irtextbook.ir و www.chap.sch.ir	سال انتشار و نوبت چاپ:
شرکت چاپ و نشر کتاب‌های درسی ایران تهران: کیلومتر ۱۷ جاده مخصوص کرج - خیابان ۶۱ (داروپخش) تلفن: ۴۴۹۸۵۱۶۱-۵، دورنگار: ۴۴۹۸۵۱۶۰، صندوق پستی: ۳۷۵۱۵-۱۳۹	
شرکت چاپ و نشر کتاب‌های درسی ایران «سهامی خاص»	
چاپ سوم ۱۳۹۸	

شابک ۹۷۸-۹۶۴-۰۵-۲۸۰۵-۱

ISBN: 978.964.05.2805.1

هیاوا؛ تخصصی ترین سایت مشاوره کشور

جوان‌ها قدر جوانیشان را
بدانند و آن را در علم و
تقوی و سازندگی خودشان
صرف کنند که اشخاصی
امین و صالح بشوند.
مملکت ما با اشخاص امین
می‌تواند مستقل باشد.
امام خمینی «قَدَسَ سِرُّهُ»

هیاوا! تخصصی ترین سایت مشاوره کشور

کلیه حقوق مادی و معنوی این کتاب متعلق به سازمان پژوهش و برنامه ریزی آموزشی وزارت آموزش و پرورش است و هرگونه استفاده از کتاب و اجزای آن به صورت چاپی و الکترونیکی و ارائه در پایگاه های مجازی، نمایش، اقتباس، تلخیص، تبدیل، ترجمه، عکس برداری، نقاشی، تهیه فیلم و تکثیر به هر شکل و نوع، بدون کسب مجوز از این سازمان ممنوع است و متخلفان تحت پیگرد قانونی قرار می گیرند.

فهرست

۹	فصل اول: آفرینش کیهان و تکوین زمین
۱۰	■ آفرینش کیهان
۱۰	■ کهکشان راه شیری
۱۱	■ منظومه شمسی
۱۲	■ حرکات زمین
۱۴	■ تکوین زمین و آغاز زندگی در آن
۱۵	■ سن زمین
۱۷	■ زمان در زمین شناسی
۱۸	■ پیدایش اقیانوس ها
۲۳	فصل دوم: منابع معدنی و ذخایر انرژی، زیربنای تمدن و توسعه
۲۴	■ منابع معدنی در زندگی ما
۲۶	■ غلظت عناصر در پوسته زمین
۲۹	■ کانسنگ
۳۱	■ اکتشاف معدن
۳۱	■ استخراج معدن و فراوری ماده معدنی
۳۲	■ گوهرها، زیبایی شگفت انگیز دنیای کانی ها
۳۶	■ سوخت های فسیلی
۴۱	فصل سوم: منابع آب و خاک
۴۳	■ آب جاری
۴۴	■ آب زیرزمینی
۵۲	■ منابع خاک
۵۳	■ خاک و فرسایش
۵۹	فصل چهارم: زمین شناسی و سازه های مهندسی
۶۰	■ مکان یابی سازه ها
۶۰	■ تنش
۶۲	■ رفتار مواد در برابر تنش
۶۲	■ نفوذپذیری

۶۳	■ مکان مناسب برای ساخت سد
۶۵	■ مکان مناسب برای ساخت تونل و فضاهای زیرزمینی
۶۶	■ مکان مناسب برای ساخت سازه‌های دریایی
۶۷	■ پایداری سازه‌ها
۶۸	■ مصالح مورد نیاز برای احداث سازه‌ها
۶۹	■ رفتار خاک‌ها و سنگ‌ها در سازه‌ها
۷۰	■ کاربرد مصالح خاک و خرده سنگی در راه‌سازی
۷۳	فصل پنجم: زمین‌شناسی و سلامت
۷۴	■ زمین‌شناسی پزشکی
۷۵	■ پراکندگی و تمرکز عناصر
۷۹	■ منشأ بیماری‌های زمین‌زاد
۸۶	■ کاربرد کانی‌ها در داروسازی
۸۹	فصل ششم: پویایی زمین
۹۰	■ شکستگی‌ها
۹۲	■ زمین لرزه
۹۳	■ امواج لرزه‌ای
۹۵	■ مقیاس اندازه‌گیری زمین لرزه
۹۶	■ پیش‌بینی زمین لرزه
۹۷	■ ایمنی در برابر زمین لرزه
۹۸	■ چین خوردگی
۹۹	■ آتشفشان
۱۰۰	■ فواید آتشفشان‌ها
۱۰۳	فصل هفتم: زمین‌شناسی ایران
۱۰۴	■ تاریخچه زمین‌شناسی ایران
۱۰۶	■ نقشه‌های زمین‌شناسی
۱۰۷	■ پهنه‌های زمین‌شناسی ایران
۱۰۹	■ منابع معدنی ایران
۱۱۲	■ ذخایر نفت و گاز ایران
۱۱۴	■ گسل‌های اصلی ایران
۱۱۴	■ آتشفشان‌های ایران
۱۱۵	■ زمین‌گردشگری
۱۱۵	■ ژئوپارک
۱۱۹	فهرست منابع

پیشگفتار

در دهه‌های اخیر همگام با توسعه فناوری، فرایند آموزش، دچار تغییرات و تحولات فراوانی شده است. پیش از این بیشتر کتاب‌های درسی با رویکرد موضوعی و دانش محور به رشته تحریر در می‌آمد، اما امروزه رویکرد حاکم بر تألیف کتاب‌های درسی، رویکرد پیامد محور و مبتنی بر کاربردی بودن محتوای آنها است. از این رو مؤلفین این کتاب تلاش کرده‌اند که با نگاه تلفیقی از پرداختن به مطالب غیر کاربردی پرهیز کنند. آموزش زمین‌شناسی در این کتاب بیشتر با نگاه تصویر محور و با استفاده از فعالیت‌هایی با عناوین: فکر کنید، جمع‌آوری اطلاعات، با هم بیندیشید، بیشتر بدانید، یادآوری و... مطرح شده است.

از آنجایی که بسیاری از مطالب زمین‌شناسی مانند چرخه آب و سنگ، نظریه زمین ساخت ورقه‌ای، نجوم و ساختمان درونی زمین در دوره ابتدایی و متوسطه اول مطرح شده‌اند، از تکرار آنها پرهیز شده و با عنوان **فعالیت یادآوری** به آنها اشاره شده است. بنابراین از شما همکاران گرامی خواهشمند است قبل از تدریس این کتاب، مطالب زمین‌شناسی که دانش‌آموزان در کتاب‌های علوم تجربی پایه‌های تحصیلی قبلی خوانده‌اند را مورد مطالعه قرار دهید.

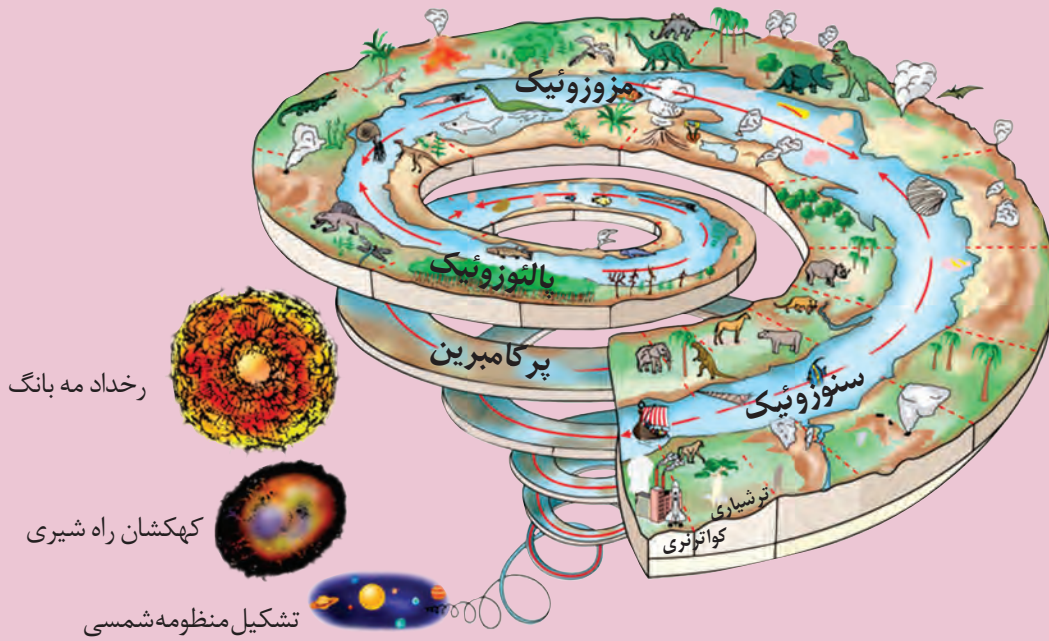
منظور از فعالیت یادآوری این است که دانش‌آموزان در سال‌های قبل با مفهوم مورد بحث آشنا شده‌اند، بنابراین مطالب با توجه به آموخته‌های قبلی آنها تدریس می‌شود.

در فعالیت فکر کنید، دانش‌آموز با توجه به مطالب موجود در کتاب قادر به پاسخگویی آن می‌باشد. در فعالیت جمع‌آوری اطلاعات، دانش‌آموزان با مراجعه به منابع مختلف، مطالب بیشتری راجع به آن موضوع درسی جمع‌آوری کرده و به اشکال مختلف (گزارش، پوستر، روزنامه دیواری و پرده‌نگار) در کلاس ارائه می‌دهند.

در فعالیت با هم بیندیشید، دانش‌آموزان به صورت فعال و مشارکتی با طرح پرسش‌هایی، هم‌افزایی کرده و پاسخ آن را می‌دهند.

در بیشتر بدانید، دانش‌آموز به فعالیت‌های تکمیلی، جمع‌آوری اطلاعات و آشنایی با مفاخر علوم زمین در ایران و جهان می‌پردازد. این بخش‌ها در ارزشیابی دانش‌آموزان قرار نمی‌گیرند. حفظ اعداد نیز جزء اهداف آموزشی کتاب نیست.

هیاوا! تخصصی ترین سایت مشاوره کشور



فصل ۱

آفرینش کیهان و تکوین زمین

ذهن کنجکاو بشر، همواره به دنبال کشف اسرار شگفت‌انگیز جهان هستی است. مشاهده منظره زیبای آسمان شب یا رصد آن، توجه آدمی را به مطالعه و شناخت اجرام و پدیده‌های آسمانی جلب می‌کند. در کیهان، پدیده‌های متنوعی مانند کهکشان‌ها، منظومه‌ها، ستاره‌ها، سیاره‌ها و ... وجود دارد. ستاره‌ها و سیاره‌هایی که در آسمان شب می‌توان دید، تنها، تعداد اندکی از میلیاردها جرم آسمانی در کهکشان راه شیری هستند.

برخی از اجرام و پدیده‌های آسمانی به وسیله کاوشگران شناسایی شده‌اند و برخی دیگر، تاکنون حتی رصد هم نشده‌اند و اطلاعی از آنها در دست نیست. اندازه‌گیری‌های نجومی نشان می‌دهند که کیهان در حال گسترش است و کهکشان‌ها در حال دور شدن از یکدیگر هستند. در این زمینه، پرسش‌هایی نظیر: گسترش کیهان از چه زمانی آغاز شده است؟ آینده کیهان، چگونه خواهد بود؟ سرنوشت منظومه شمسی و تکوین زمین چیست؟ ساز و کار تشکیل اقیانوس‌ها چگونه است؟ و ... مطرح می‌شود.



آفرینش کیهان

دانشمندان بر این باورند که خداوند، جهان هستی را بر اساس اصول و قوانین آفریده است. آنها با مطالعه و شناخت نظام حاکم بر آفرینش کیهان، به دنبال کشف رازهای خلقت هستند.

جمع آوری اطلاعات

● در سال گذشته خواندید که دانشمندان پیدایش جهان را با نظریه مه بانگ توضیح می دهند. در این باره، اطلاعات بیشتری جمع آوری و درباره پیدایش اجرام آسمانی با هم گفت و گو کنید.

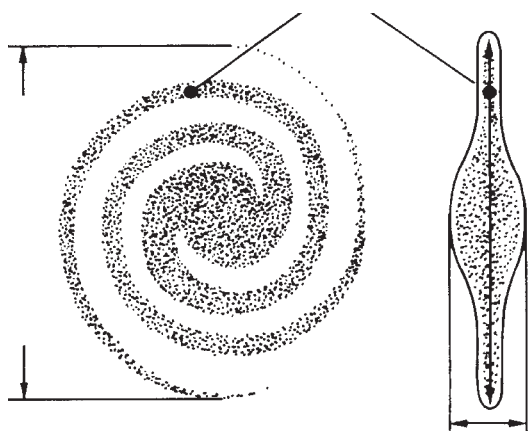
کهکشان راه شیری

در کیهان، صدها میلیارد کهکشان وجود دارد. کهکشان ها، از تعداد زیادی ستاره، سیاره و فضای بین ستاره ای (اغلب گاز و گرد و غبار) تشکیل شده اند که تحت تأثیر نیروی گرانش متقابل، یکدیگر را نگه داشته اند.


اگر در شب های صاف و بدون ابر، در مکانی که آلودگی نوری ندارد، به آسمان نگاه کنید، نواری مه مانند و کم نور، شامل انبوهی از اجرام می بینید. این نوار که، کهکشان راه شیری نام دارد، یکی از بزرگ ترین کهکشان های شناخته شده است. کهکشان راه شیری، شکلی مارپیچی دارد که منظومه شمسی ما، در لبه یکی از بازوهای آن قرار دارد.

پیوند با عکاسی

● عکس زیر بخشی از کهکشان راه شیری در آسمان شب است که از رصدگاه کویر خارا در اصفهان تهیه شده است. شما هم در مکانی مناسب، از کهکشان راه شیری و سایر اجرام آسمانی، عکس بگیرید و آن را به کلاس ارائه کنید.



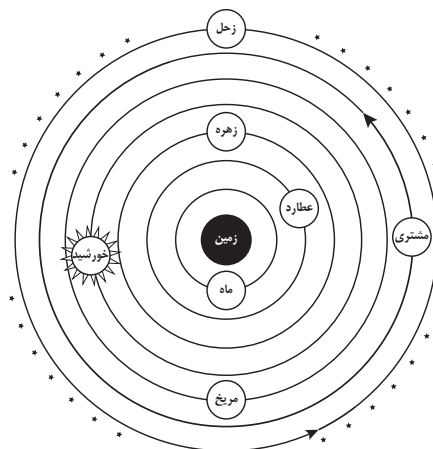
شکل ۱-۱- طرح شماتیک یک کهکشان مارپیچ مانند کهکشان راه شیری



در سال‌های گذشته با برخی از ویژگی‌های منظومه شمسی و اجزای آن آشنا شدید. حرکت ظاهری خورشید از شرق به غرب است؛ بنابراین آیا زمین، مرکز جهان است و سایر اجرام به دور آن می‌گردند؟ از هزاران سال قبل، بشر برای پاسخ به این پرسش و پرسش‌های مشابه آن، در جست‌وجو و کاوشگری بوده است. در این زمینه، دو نظریه زیر مطرح شده است:

نظریه زمین مرکزی: بطلمیوس، دانشمند یونانی بیش از دو هزار سال پیش، با مشاهده حرکت ظاهری ماه و خورشید، به این نتیجه رسید که زمین، در مرکز عالم قرار دارد و اجرام آسمانی دیگر به دور آن می‌گردند.

بر اساس این نظریه، که نظریه زمین مرکزی نام‌گذاری شد، زمین، ثابت است و ماه و خورشید و پنج سیاره شناخته شده آن روزگار، یعنی عطارد، زهره، مریخ، مشتری و زحل، در مدارهایی دایره‌ای به دور زمین می‌گردند.



شکل ۱-۲- نمایش نظریه زمین مرکزی

مفاخر ایرانی

● ابوسعید سجزی (۴۱۴-۳۳۰ هـ.ق)، ریاضی‌دان و ستاره‌شناس برجسته ایرانی در سیستان به دنیا آمد و در خراسان و شیراز به علم‌آموزی و مطالعه پرداخت. سجزی، نوعی اسطرلاب ساخت و کتاب «ترکیب الافلاک»، «رساله فی کیفیت صنع آلات النجومیه» و همچنین «رساله الاسطرلاب» از تألیفات او در ستاره‌شناسی و ریاضیات هستند که هر کدام دارای نوآوری‌ها و یافته‌های علمی فراوان می‌باشند.

برخی دانشمندان ایرانی مانند ابوسعید سجزی و خواجه نصیرالدین طوسی، با اندازه‌گیری‌های دقیق و تفسیر درست یافته‌های علمی، ایرادهایی بر نظریه زمین مرکزی وارد کردند. این نظریه در اروپا نیز مخالفانی داشت؛ ولی تا حدود قرن ۱۶ میلادی مطرح بود.

نظریه خورشید مرکزی: نیکولاس کوپرنیک، ستاره‌شناس لهستانی که با علم ریاضی نیز به خوبی آشنا بود، با مطالعه حرکت سیارات در زمان‌های مختلف، نظریه خورشید مرکزی را به شرح زیر بیان کرد:

- زمین همراه با ماه، مانند دیگر سیاره‌ها در مدار دایره‌ای و مخالف حرکت عقربه‌های ساعت به دور خورشید می‌گردد.

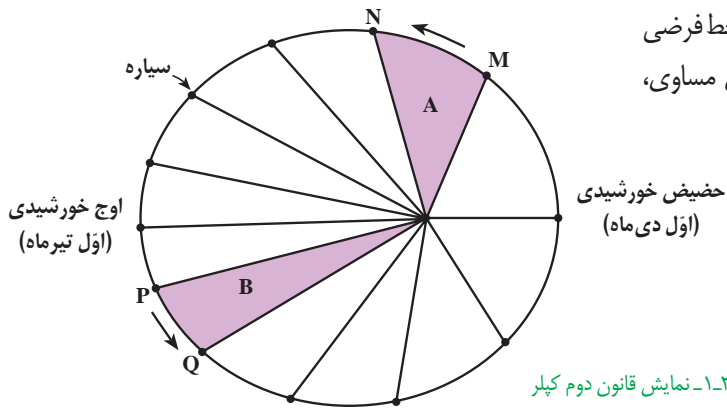
- حرکت روزانه خورشید در آسمان، ظاهری و نتیجه چرخش زمین به دور محور خود است. پس از آنکه کوپرنیک، نظریه خورشید مرکزی را مطرح کرد، یوهانس کپلر، به بررسی دقیق یادداشت‌های ستاره‌شناسان پرداخت و دریافت که سیارات در مدارهای بیضوی، به دور خورشید در حرکت می‌باشند. او با ارائه سه قانون زیر، نظریه خورشید مرکزی را اصلاح نمود.

قانون اول: هر سیاره در مداری بیضوی، چنان به دور خورشید می‌گردد که خورشید همواره، در یکی از دو کانون آن قرار دارد.

هیاوا! تخصصی ترین سایت مشاوره کشور

یادآوری

- با توجه به اینکه، نور خورشید حدود $8/3$ دقیقه نوری طول می کشد تا به زمین برسد. فاصله متوسط زمین تا خورشید چند کیلومتر است؟
- به این فاصله در اصطلاح ستاره شناسی چه گفته می شود؟



شکل ۳-۱- نمایش قانون دوم کپلر

قانون دوم: هر سیاره، چنان به دور خورشید می گردد که خط فرضی که سیاره را به خورشید وصل می کند، در مدت زمان های مساوی، مساحت های مساوی ایجاد می کند.

قانون سوم: زمان گردش یک دور سیاره به دور خورشید (p)، با افزایش فاصله از خورشید (d) افزایش می یابد، به طوری که مربع زمان گردش سیاره به دور خورشید، معادل مکعب فاصله آن سیاره تا خورشید است ($p^2 \propto d^3$). در این رابطه، p بر حسب سال زمینی و d بر حسب واحد نجومی است.

پیوند با ریاضی

- اگر مدار سیاره ای در فاصله 600×10^6 کیلومتری خورشید قرار داشته باشد. زمان گردش آن به دور خورشید، چند سال است؟

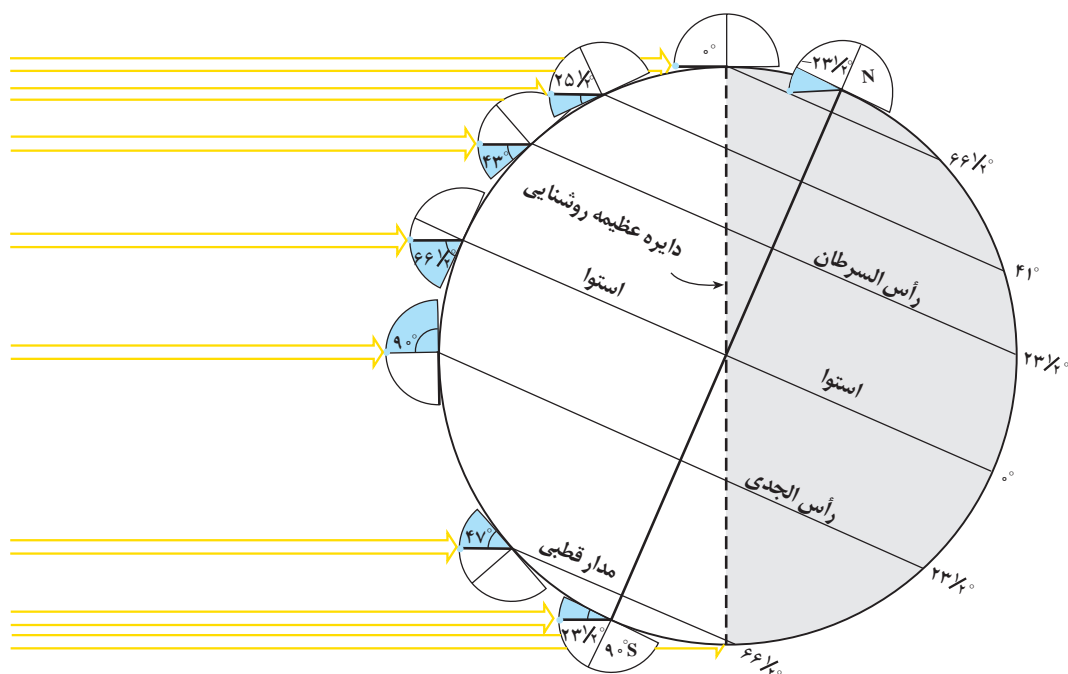
حرکات زمین

کره زمین دارای حرکت وضعی و انتقالی است. چرخش زمین به دور محورش را حرکت وضعی می گویند. این چرخش در جهت خلاف حرکت عقربه های ساعت است و در مدت زمان حدود ۲۴ ساعت انجام می شود.

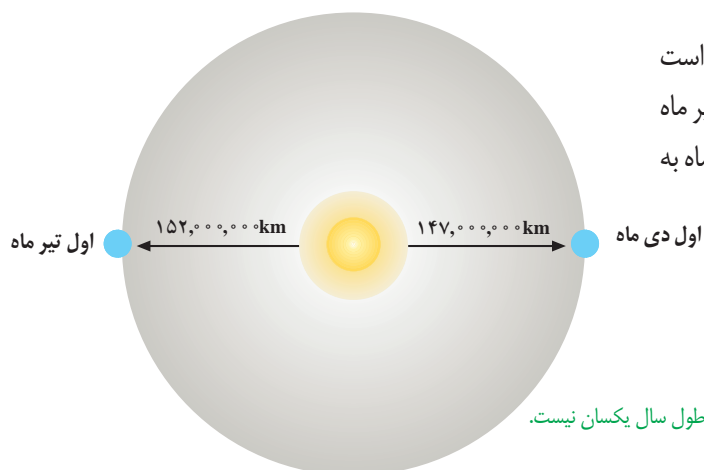
شب و روز بر اثر حرکت وضعی به وجود می آید. انحراف $23/5$ درجه ای محور زمین، نسبت به خط عمود بر سطح مدار گردش زمین به دور خورشید، سبب ایجاد اختلاف مدت زمان روز و شب در عرض های جغرافیایی مختلف می شود. به طوری که در مناطق استوایی عرض پایین طول مدت روز و شب با هم برابر (۱۲ ساعت روز و ۱۲ ساعت شب) است و با افزایش عرض جغرافیایی این اختلاف بیشتر می شود.

به گردش زمین بر روی مدار بیضوی به دور خورشید، حرکت انتقالی گفته می شود که در جهت خلاف حرکت عقربه های ساعت انجام می شود.

هیاوا! تخصصی ترین سایت مشاوره کشور



شکل ۴-۱. مقدار انحراف محور زمین و تأثیر آن در مقدار زاویه تابش خورشید در عرض های جغرافیایی مختلف



میانگین فاصله خورشید از زمین، حدود ۱۵۰ میلیون کیلومتر است که به آن، یک واحد نجومی می گویند. البته این مقدار در اول تیر ماه به حداکثر مقدار خود، یعنی ۱۵۲ میلیون کیلومتر و در اول دی ماه به حداقل خود، یعنی حدود ۱۴۷ میلیون کیلومتر می رسد.

شکل ۵-۱. فاصله زمین نسبت به خورشید در طول سال یکسان نیست.

● با توجه به فاصله حداکثر زمین تا خورشید در اول تیر و فاصله حداقلی در اول دی ماه، علت گرمای تیرماه و سرمای دی ماه چیست؟

تحقیق کنید

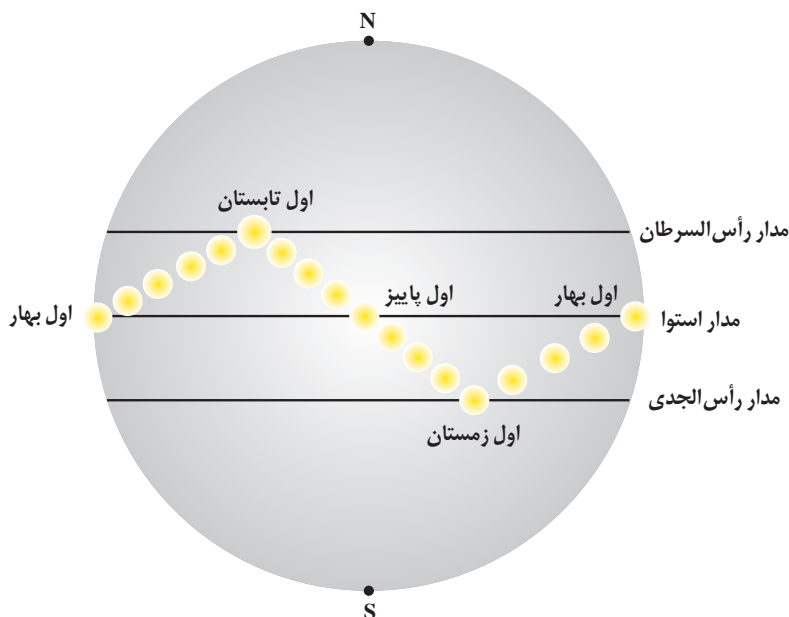
پیدایش فصل ها، حاصل حرکت انتقالی زمین و انحراف ۲۳/۵ درجه ای محور زمین است؛ به علت کروی بودن زمین، زاویه تابش خورشید در عرض های جغرافیایی مختلف، در یک زمان، متفاوت است. همچنین به علت انحراف محور زمین، زوایای تابش خورشید در یک عرض جغرافیایی نیز در طول سال تفاوت دارد. این تفاوت زاویه، سبب ایجاد فصل ها در نقاط مختلف کره زمین شده است (شکل ۶-۱).

هیاوا! تخصصی ترین سایت مشاوره کشور

حرکت زمین و زاویه انحراف محور آن به گونه‌ای است که می‌توان موقعیت خورشید را نسبت به زمین به صورت شکل ۱-۶ تصور کرد.

خود را
بیازمایید

- وضعیت فصل‌ها در نیمکره شمالی و جنوبی را مقایسه کنید.
- جهت تشکیل سایه، در نیمکره شمالی و جنوبی چه تفاوتی دارد؟
- در طول یک سال، خورشید در چه روزهایی بر استوا عمود می‌تابد؟



شکل ۱-۶. موقعیت فرضی تابش عمود نور خورشید نسبت به مدارهای مختلف زمین (براساس نیمکره شمالی)

براساس شکل بالا در ابتدای بهار، خورشید بر مدار استوا عمود می‌تابد و در طول بهار بر عرض‌های جغرافیایی بالاتر در نیمکره شمالی عمود می‌تابد به طوری که، در آخر خرداد و اول تیرماه حداکثر بر مدار رأس السرطان، تابش قائم دارد. سپس در طول تابستان بر مدارهای کمتر از $23/5$ درجه شمالی، قائم است و مجدداً اول پاییز بر استوا و در ادامه در شش ماهه دوم سال، بر عرض‌های جغرافیایی صفر تا $23/5$ درجه جنوبی قائم می‌تابد.

تکوین زمین و آغاز زندگی در آن

حدود ۶ میلیارد سال قبل، با نخستین تجمعات ذرات کیهانی، شکل‌گیری منظومه شمسی آغاز شد و در حدود $4/6$ میلیارد سال قبل، سیاره زمین به صورت کره‌ای مذاب، تشکیل و در مدار خود قرار گرفت. با گذشت زمان و سرد شدن این گوی مذاب، حدود ۴ میلیارد سال قبل، سنگ‌های آذرین به عنوان نخستین اجزای سنگ‌کره تشکیل شدند؛ سپس با فوران آتشفشان‌های متعدد، گازهایی که از داخل زمین خارج شدند، به تدریج گازهای مختلف مانند اکسیژن، هیدروژن، نیتروژن، هواکره را به وجود آوردند. در ادامه، کره زمین سردتر شد و بخار آب به صورت مایع در آمد و آب کره تشکیل شد. با تشکیل اقیانوس‌ها و تحت تأثیر انرژی خورشید، شرایط برای تشکیل زیست‌کره فراهم و زندگی انواع تک‌یاخته‌ها در دریاها، کم‌عمق آغاز شد.

به وجود آمدن چرخه آب، باعث فرسایش سنگ‌ها، تشکیل رسوبات و سنگ‌های رسوبی گردید. در ادامه، با حرکت ورقه‌های سنگ کره

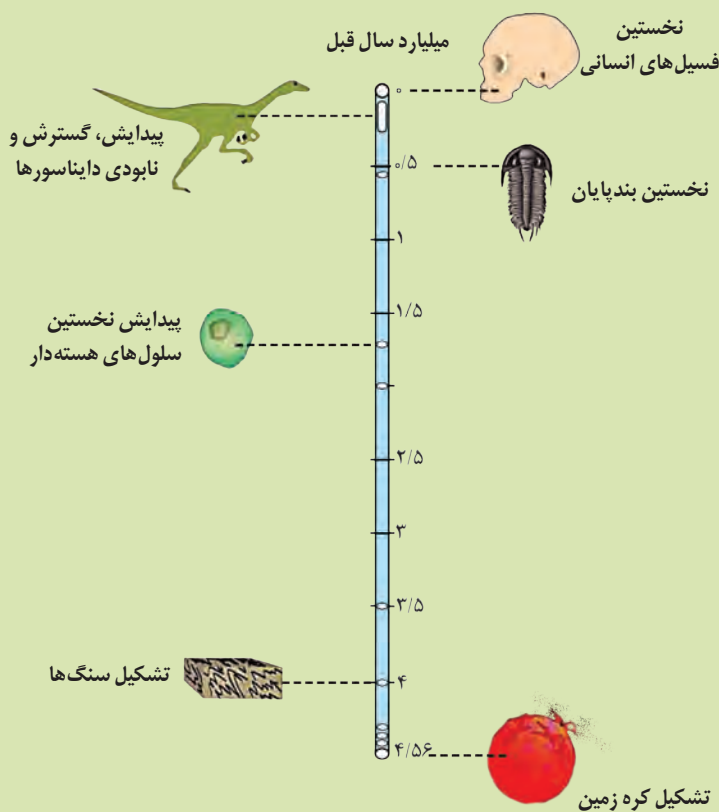
هیوا! تخصصی ترین سایت مشاوره کشور

و ایجاد فشار و گرمای زیاد در مناطق مختلف، سنگ‌های دگرگونی به وجود آمدند. دانشمندان معتقدند شرایط محیط زیست فعلی به تدریج و در طی صدها میلیون سال مهیا شده است.

با توجه به شواهد زمین‌شناسی، دانشمندان دریافتند که خداوند در آفرینش جهان، ابتدا شرایط محیط زیست را مهیا کرده و سپس جانداران را از ساده تا پیچیده آفریده است. در دوران‌های مختلف، شرایط آب و هوایی و محیط زیست تغییرات فراوانی داشته‌اند و بر این اساس، گونه‌های مختلف جانداران در سطح زمین ظاهر و منقرض شده‌اند. به عنوان مثال، خزندگان در اوایل دوره کربونیفر، ظاهر و در طی ۸۰-۷۰ میلیون سال، جثه آنها بزرگ شد و در کره زمین گسترش یافتند. با نامساعد شدن شرایط محیط زیست و عدم توانایی دایناسورها برای سازگاری با تغییرات محیطی، این موجودات حدود ۶۵ میلیون سال پیش منقرض شدند.

تفسیر کنید

● با توجه به شکل زیر، ترتیب تشکیل هوا کره، سنگ کره، زیست کره و آب کره را از قدیم به جدید ذکر کنید.



سن زمین

از آغاز پیدایش کره زمین تاکنون، مدت زمان بسیار زیادی می‌گذرد و در این مدت، حوادث و وقایع فراوانی در آن رخ داده است. آیا می‌دانید سن زمین و وقایع گذشته را چگونه تعیین می‌کنند؟ تعیین سن سنگ‌ها و پدیده‌های مختلف، از نظر بررسی تاریخیچه زمین، اکتشاف ذخایر و منابع موجود در زمین، پیش‌بینی حوادث احتمالی آینده و ... اهمیت زیادی دارد. در زمین‌شناسی، سن سنگ‌ها و پدیده‌ها را به دو روش نسبی و مطلق تعیین می‌کنند.

هیوا! تخصصی ترین سایت مشاوره کشور

یادآوری



- در کتاب علوم نهم با روش تعیین سن نسبی و اصول آن آشنا شدید. با توجه به آن، در شکل روبه‌رو، ترتیب وقایع را از قدیم به جدید شماره گذاری کنید.

در تعیین سن نسبی، ترتیب تقدم، تأخر و هم‌زمانی وقوع پدیده‌ها، نسبت به یکدیگر مشخص می‌شود. در تعیین سن مطلق (پرتوسنجی)، سن واقعی نمونه‌ها با استفاده از عناصر پرتوزا اندازه‌گیری می‌شود. عناصر پرتوزا به‌طور مداوم، با سرعت ثابت در حال واپاشی هستند. این عناصر پس از واپاشی به عنصر پایدار تبدیل می‌شوند. مدت زمانی که نیمی از یک عنصر پرتوزا به عنصر پایدار تبدیل می‌شود را، نیم‌عمر آن عنصر می‌گویند. در تعیین سن مطلق با استفاده از رابطه زیر می‌توان سن مطلق نمونه‌هایی مانند (سنگ، چوب، استخوان و...) را تعیین کرد.

$$\text{نیم‌عمر} \times \text{تعداد نیم‌عمر} = \text{سن نمونه}$$

پیوند با ریاضی

- در جدول زیر، نیم‌عمر برخی از عناصر پرتوزا و عنصر پایدار حاصل از آنها نشان داده شده است. با استفاده از اطلاعات موجود در آن، به پرسش‌های زیر پاسخ دهید:
- ۱- برای تعیین سن نخستین سنگ‌هایی که در کره زمین تشکیل شده‌اند، استفاده از کدام عنصر پرتوزا مناسب‌تر است؟ چرا؟
 - ۲- برای تعیین سن فسیل ماموت و یا جمجمه انسان اولیه، از کربن ۱۴ استفاده می‌شود. دلیل آن را توضیح دهید.
 - ۳- اگر مقدار کربن ۱۴ باقی مانده در یک نمونه استخوان قدیمی حدود $\frac{1}{8}$ مقدار اولیه آن باشد، سن استخوان را محاسبه کنید.

نیم‌عمر برخی از عناصر پرتوزا

عناصر پرتوزا	نیم‌عمر (تقریبی)	عنصر پایدار
اورانیوم ۲۳۸	۴/۵ میلیارد سال	سرب ۲۰۶ ←
اورانیوم ۲۳۵	۷۱۳ میلیون سال	سرب ۲۰۷ ←
توریم ۲۳۲	۱۴/۱ میلیارد سال	سرب ۲۰۸ ←
کربن ۱۴	۵۷۳۰ سال	نیتروژن ۱۴ ←
پتاسیم ۴۰	۱/۳ میلیارد سال	آرگون ۴۰ ←

هیاوا! تخصصی ترین سایت مشاوره کشور

زمان در زمین شناسی

مفهوم زمان در مقیاس‌های مختلفی به کار می‌رود. شما با واحدهای زمان مانند: ثانیه، دقیقه، ساعت، شبانه روز، هفته، ماه، سال، دهه، سده (قرن) و هزاره آشنا هستید؛ اما، واحدهای بزرگ‌تر زمان نیز وجود دارند که در زندگی روزمره ما، کاربرد زیادی ندارند، ولی در علوم زمین بسیار مهم‌اند. مانند عهد، دوره، دوران و ائون (آبردوران) که واحدهای زمانی مورد استفاده در زمین‌شناسی هستند. معیار تقسیم‌بندی این واحدهای زمانی مختلف، به حوادث مهمی همچون ظهور یا انقراض گونه خاصی از جانداران، حوادث کوهزایی، پیشروی یا پسروی جهانی دریاها، عصرهای یخبندان و... بستگی دارد (شکل ۷-۱).

ائون		دوران	دوره	رویدادهای زیستی	میلیون سال قبل	
فانروزویک	سئوزویک	کواترنری	انسان		۶۶	
		نئوژن	تنوع پستانداران			
		پالتوژن				
	مزوزویک	کرتاسه	انقراض دایناسورها	نخستین گیاهان گل‌دار		۲۵۱
		ژوراسیک	نخستین پرنده			
		تریاس	نخستین دایناسور	نخستین پستاندار		
	پالتوزویک	پرمین	انقراض گروهی			۵۴۱
		کربنیفر	نخستین خزنده			
		دوین	نخستین دوزیست			
		سیلورین	نخستین گیاهان آونددار			
		اردوویسین	نخستین ماهی‌ها			
		کامبرین	نخستین تریلوبیت			
	پروکامبرین	پروتروزویک				۲۵۰۰
آرکن					۴۰۰۰	
هادئن				۴۶۰۰		

شکل ۷-۱- مقیاس زمان زمین‌شناسی و رویدادهای مهم آن

پیدایش اقیانوس‌ها

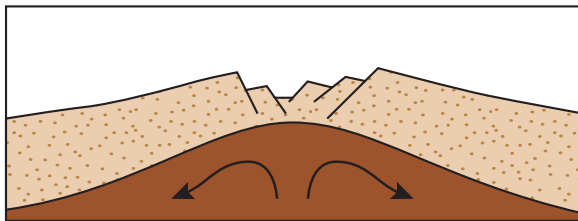
در سال‌های گذشته، با مفهوم سنگ کره و ساز و کار حرکت ورقه‌ها آشنا شدید. ورقه‌های سنگ کره، به دو نوع قاره‌ای و اقیانوسی تقسیم می‌شوند. البته گاهی ممکن است بخشی از یک ورقه، جنس قاره‌ای و در بخش دیگر از جنس اقیانوسی باشد (مانند ورقه هند) و یا در همه جا از آب پوشیده شده و از جنس اقیانوسی باشد (مانند ورقه اقیانوس آرام). سنگ کره قاره‌ای، نسبت به سنگ کره اقیانوسی ضخامت بیشتر و چگالی کمتری دارد. از طرفی سن ورقه‌های قاره‌ای زیاد و حدود ۳/۸ میلیارد سال بوده و در حالی که سنگ‌های بستر اقیانوس‌ها حداکثر ۲۰۰ میلیون سال قدمت دارند.

یادآوری

- در فصل زمین ساخت ورقه‌ای کتاب علوم نهم، در مورد حرکت ورقه‌های سنگ کره و پیامدهای آن مطالبی آموختید. در این باره به پرسش‌های زیر پاسخ دهید:
 - ۱- علت حرکت ورقه‌های سنگ کره چیست؟
 - ۲- انواع حرکت ورقه‌ها را بیان کنید.
 - ۳- پیامدهای حاصل از حرکت ورقه‌ها را ذکر کنید.

نخستین بار ساز و کار حرکت ورقه‌های سنگ کره توسط دانشمند کانادایی به نام توزو ویلسون در قالب چرخه‌ای به نام چرخه ویلسون مطرح شد. خلاصه مراحل چرخه ویلسون به شرح زیر می‌باشد:

۱- مرحله بازشدگی: تحت تأثیر جریان‌های همرفتی سست کره، بخشی از پوسته قاره‌ای شکافته می‌شود و مواد مذاب سست کره، صعود نموده و به سطح زمین می‌رسند. نمونه‌ای از آن در شرق آفریقا ایجاد شده است (شکل ۸-۱ الف).




شکل ۸-۱ الف) ایجاد شکاف در پوسته قاره‌ای

۲- مرحله گسترش: در این مرحله، در محل شکاف ایجاد شده، مواد مذاب سست کره به بستر اقیانوس رسیده و پشته‌های میان اقیانوسی تشکیل می‌شوند و پوسته جدید ایجاد شده به طرفین حرکت کرده و باعث گسترش بستر اقیانوس می‌شود مانند بستر اقیانوس اطلس (دور شدن آمریکای جنوبی از آفریقا) و دریای سرخ (دور شدن عربستان از آفریقا) (شکل ۸-۱ ب).

مفاخر جهان

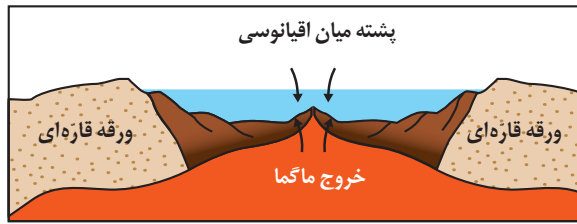
● در ادامه نظریه‌های جابه‌جایی قاره‌ها و گسترش بستر اقیانوس‌ها، توزو ویلسون زمین‌شناس کانادایی، نخستین بار، ایده وجود ورقه‌های تشکیل دهنده سنگ کره زمین و مرز آنها را عنوان کرد که منجر به ارائه نظریه زمین ساخت ورقه‌ای شد. مراحل تشکیل اقیانوس‌ها نیز، توسط وی ارائه و بعدها به چرخه ویلسون معروف شد. مطالعات علمی او، مورد تحسین جهان قرار گرفت.



توزو ویلسون

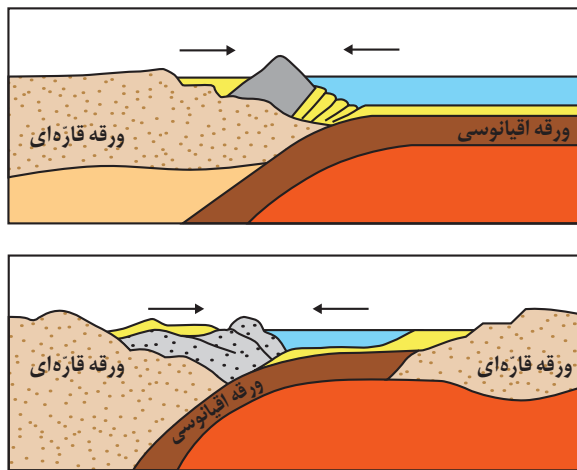
۱۵ آوریل ۱۹۹۳ - ۲۴ اکتبر ۱۹۰۸

هیاوا! تخصصی ترین سایت مشاوره کشور



شکل ۸-۱ (ب) ایجاد و گسترش پوسته اقیانوسی

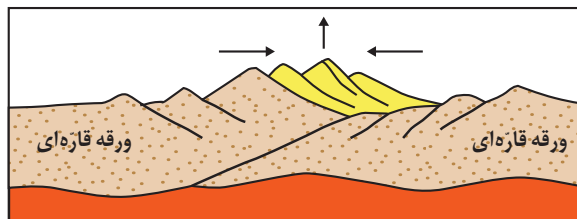
۳- مرحله بسته شدن: در این مرحله، ورقه اقیانوسی از حاشیه به زیر ورقه قاره‌ای مجاور خود فرو رانده می شود (دراز گودال اقیانوسی) و با ادامه فرورانش در نهایت اقیانوس بسته می شود (مانند بسته شدن اقیانوس تیتیس) (شکل ۸-۱-پ).



شکل ۸-۱ (پ) بسته شدن حوضه اقیانوسی ایجاد شده

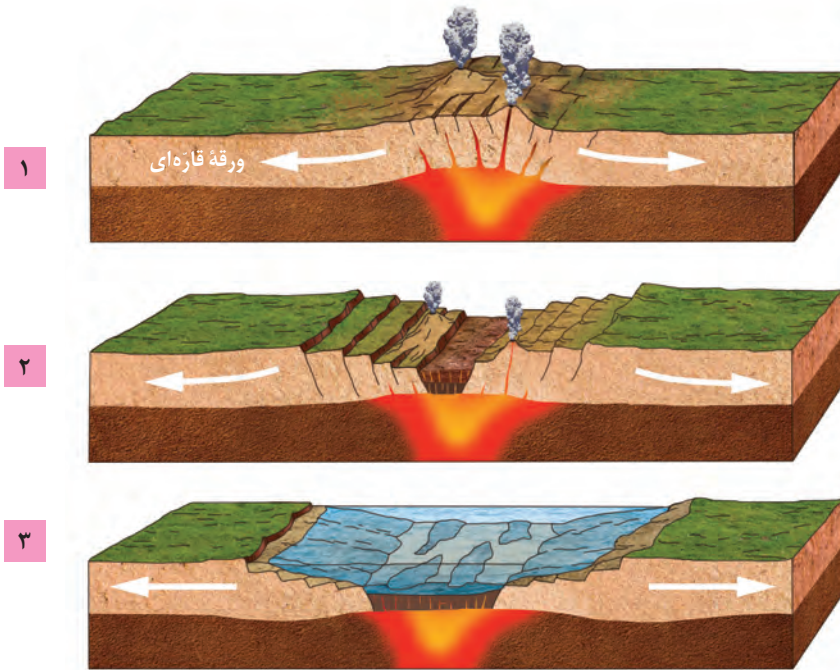
در برخی از اقیانوس ها مانند اقیانوس آرام در بخشی از آن، ورقه اقیانوسی به زیر ورقه اقیانوسی دیگر فرو رانده شده و منجر به تشکیل دراز گودال اقیانوسی و جزایر قوسی می شود.

۴- مرحله برخورد: با بسته شدن اقیانوس و برخورد ورقه ها، رسوبات فشرده شده و رشته کوه هایی مانند هیمالیا (برخورد هندوستان به آسیا)، زاگرس (برخورد عربستان به ایران) و ... را به وجود می آورند (شکل ۸-۱-ت).



شکل ۸-۱ (ت) برخورد ورقه ها و ایجاد رشته کوه

- ۱- عامل باز و بسته شدن اقیانوس‌ها چیست؟
- ۲- چرا با وجود گسترش بستر اقیانوس‌ها، وسعت سطح زمین افزایش نمی‌یابد؟
- ۳- نتیجه فرورانش ورقه اقیانوسی - قاره‌ای و اقیانوسی - اقیانوسی چیست؟




شکل ۹-۱- مراحل تشکیل اقیانوس جدید




● **دیرینه‌شناسی**: شاخه‌ای از علم زمین‌شناسی که به بررسی آثار و بقایای موجودات گذشته زمین در لایه‌های رسوبی می‌پردازد. بر پایه مطالعه فسیل‌ها، پیدایش و نابودی آنها می‌توان به سن نسبی لایه‌های زمین و محیط زندگی موجودات در گذشته پی برد.

• **سنجش از دور:** سنجش از دور، علم و فن جمع‌آوری اطلاعات از عوارض سطح زمین، بدون تماس فیزیکی با آنها است. سنجش از دور، شامل اندازه‌گیری و ثبت انرژی بازتابی از سطح زمین و جو پیرامون آن، از یک نقطه مناسب در بالاتر از سطح زمین است. پرتوهای بازتابی که از نوع امواج الکترومغناطیس هستند، می‌توانند دارای منابع گوناگونی مانند پرتوهای خورشیدی، پرتوهای حرارتی اجسام یا حتی پرتوهای مصنوعی باشند. به دست آوردن اطلاعات از سطح زمین و سطح دریاها، با استفاده از تصاویر اخذ شده از فراز آنها، از بخش‌هایی از طیف الکترومغناطیس که از سطح زمین تابیده یا بازتابیده شده‌اند، انجام می‌شود. سنجش از دور، از انرژی الکترومغناطیسی بهره می‌گیرد. قوی‌ترین منبع تولیدکننده این انرژی، خورشید است که انرژی الکترومغناطیس را در تمام طول موج‌ها، تابش می‌کند.

متخصصان این رشته‌ها، در مراکزی مانند سازمان زمین‌شناسی و اکتشافات معدنی کشور، شرکت ملی نفت ایران و... می‌توانند به کمک آن حوادثی مانند: وقوع سیل، تغییرات سطح زمین، پراکندگی ریزگردها و... را بررسی کنند و در کیفیت‌بخشی و بهبود اجرای پروژه‌های اکتشافی و آموزشی کمک شایانی داشته باشند.



هیاوا! تخصصی ترین سایت مشاوره کشور



معدن مس سونگون و رزقان (شهرستان اهر - استان آذربایجان شرقی)

فصل ۲

منابع معدنی و ذخایر انرژی، زیربنای تمدن و توسعه

زیربنای اقتصادی کشورهای مختلف، متنوع است. مبنای اقتصادی برخی از کشورها، صنعت، کشاورزی یا گردشگری است و برخی دیگر، اقتصاد خود را بر مبنای منابع و ذخایر معدنی بنا نهاده‌اند. مبنای اقتصاد کشور ما، کدام مورد است؟ بسیاری از کالاهایی که در زندگی روزمره از آنها استفاده می‌کنید، یا با آنها سروکار دارید، از منابع فلزی (آهن، آلومینیم، طلا و منیزیم)، غیر فلزی (رس‌ها، زغال سنگ و ...) و یا مواد نفتی و فراورده‌های پتروشیمی مانند پلاستیک، بنزین و ... به دست می‌آیند. در علم زمین‌شناسی با مواردی مانند نحوه تشکیل، ذخیره و اکتشاف منابع معدنی و سوخت‌های فسیلی مانند زغال سنگ، نفت و گاز آشنا می‌شوید.



کانی گارنت



کانی کوارتز



سکوی نفتی



مجتمع پتروشیمی

منابع معدنی در زندگی ما

بخش عمدهٔ مواد مورد نیاز برای زندگی ما، از منابع معدنی تأمین می‌شوند. مس موجود در کابل‌های برق، آهن مورد استفاده در ریل راه آهن، پلاستین استفاده شده در ساخت گوشی تلفن همراه، مدادی که با آن می‌نویسیم، از کانی گرافیت، خمیردندان از کانی فلوئوریت و... از منابع معدنی تهیه می‌شوند. منابع معدنی پس از شناسایی توسط زمین‌شناسان، از معادن استخراج و پس از فراوری، به کالاهای مورد نیاز تبدیل می‌شوند. تعدادی از کاربردهای مواد معدنی (فلزی - غیر فلزی) در جدول ۱-۲ آورده شده است.

جدول ۱-۲- فراوانی و کاربرد برخی از کانی‌ها و منابع معدنی

فراوانی	فناورها بر اساس فراوانی
فراوان: آهن، آلومینیم، منیزیم، منگنز، تیتانیم	
کمیاب: مس، سرب، روی، نیکل، کروم، طلا، نقره، قلع، تنگستن، مولیبدن، اورانیم، پلاتین و ...	
غیرفناورها بر اساس کاربرد	صنایع شیمیایی: هالیت، سدیم کلرید، فلوئوریت، (کلسیم فلوراید)
	کودهای شیمیایی: آپاتیت (کلسیم فسفات)، سیلویت (پتاسیم کلرید)، گوگرد، کلسیت و سنگ آهک (کلسیم کربنات)، شوره (سدیم نیترات)
	ساختمان‌سازی: ژئیس (گچ ساختمانی)، سنگ آهک (سیمان)، رس (آجر و کاشی و سرامیک)، شن و ماسه، سنگ‌های تزئینی و نما، فلدسپار (کاشی و سرامیک)، سیلیس (شیشه‌سازی)، پوزولان و پرلیت (مصالح سبک وزن)
	گوهرها و کانی‌های نیمه قیمتی: الماس، کربنوم (یاقوت)، گارنت (بیجاده)، آمیتیست (کوارتز بنفش)، بریل (زمرد)، فیروزه، آگات (عقیق)، الیون (زبرجد)، اسپینل (لعل)، لاجورد، یشم و ...
	پزشکی و داروسازی: باریت (عکس برداری رادیولوژی)، انواع کانی‌های رسی (آنتی‌بیوتیک‌ها، ضد اسید معده)، فلوئوریت (خمیر دندان)، تالک (پودر بچه، لوازم آرایشی، کرم‌های ضد آفتاب)
	کانی‌های صنعتی: بنتونیت (گل حفاری، خاک رنگ‌بر، جاذب آب و آلاینده‌ها، صنعت فولاد، سرامیک، صنایع رنگ، کاغذسازی، تصفیه آب و فاضلاب، داروسازی، تصفیه و رنگ‌بری روغن، قند، نوشیدنی‌ها و ...)، کائولن (سرامیک، کاغذسازی، پرکننده و لاستیک‌سازی)، کوارتز (ساعت‌سازی، شیشه‌سازی، قطعات الکترونیکی و ...)
	کشاورزی: کانی زئولیت در (سبک کردن و هوارسانی به خاک و جاذب رطوبت)، دامپروری (مکمل غذای دام و طیور)، پرورش ماهی، تصفیه آب و فاضلاب
	سایر موارد: تالک (کاغذسازی، رنگ)، باریت (گل حفاری)، گرافیت (نوک مداد، پیل الکتریکی، تایر خودروها)، ساینده (الماس، گارنت، کربنوم، کوارتز)

● افزون بر موارد ذکر شده در جدول، فهرستی از وسایل و موادی که در زندگی روزمره، به کار می‌برید یا با آن سروکار دارید، تهیه کنید و مشخص کنید کدام، به صورت مستقیم و کدام به صورت غیرمستقیم از زمین به دست می‌آید؟ کدام یک از این منابع، فلزی و کدام غیرفلزی است؟

در سال ۱۹۶۴ میلادی، دو زمین شناس به نام‌های کلارک^۱ و رینگ‌وود^۲ برای تعیین ترکیب شیمیایی پوسته زمین و بررسی پراکندگی عناصر در بخش‌های مختلف آن، تعداد بسیار زیادی از انواع سنگ‌های مناطق مختلف را نمونه برداری و ترکیب شیمیایی آنها را تعیین کردند. امروزه، فراوانی میانگین عناصر پوسته زمین با عنوان غلظت کلارک عناصر شناخته می‌شود (جدول ۲-۲).

جدول ۲-۲- غلظت کلارک عناصر فراوان در پوسته جامد زمین

عنصر	درصد براساس جرم
اکسیژن	۴۵/۲۰
سیلیسیم	۲۷/۲۰
آلومینیم	۸/۰۰
آهن	۵/۸۰
کلسیم	۵/۰۶
سدیم	۲/۳۲
منیزیم	۲/۷۷
پتاسیم	۱/۶۸
تیتانیوم	۰/۸۶
فسفر	۰/۱۰
منگنز	۰/۱۲
روی	۰/۰۱۳
مس	۰/۰۰۷
سرب	۰/۰۰۱۶

اندازه‌گیری و تعیین غلظت میانگین عناصر، کاربردهای زیادی دارد. پژوهشگران با اندازه‌گیری مقدار غلظت عناصر در سنگ‌ها و خاک‌های هر منطقه و مقایسه آن با مقادیر غلظت میانگین، به فرایندهای زمین‌شناسی مانند حرکت ورقه‌های سنگ کره، تاریخچه تکوین یک منطقه، آلودگی‌های زیست‌محیطی و ... پی می‌برند.

اگر در منطقه‌ای، غلظت عناصر از میانگین کلارک بالاتر باشد، بی‌هنجاری مثبت و اگر غلظت آنها از میانگین، پایین‌تر باشد، آن را بی‌هنجاری منفی می‌نامند. زمین‌شناسان در پی جویی‌های اکتشافی عناصر، به دنبال یافتن مناطقی با بی‌هنجاری مثبت آن عنصر هستند.

۱- Clark

۲- Ringwood

هیاوا! تخصصی ترین سایت مشاوره کشور

تفسیر کنید

● نتایج حاصل از تجزیه شیمیایی سنگ‌های یک منطقه، در جدول زیر ارائه شده است. در کدام عناصر، بی‌هنجاری مثبت و در کدام عناصر، بی‌هنجاری منفی دیده می‌شود؟

عنصر	درصد براساس جرم
Si	۱۷
Fe	۵
Ca	۵/۹
Na	۱
Cu	۰/۷
Pb	۲
Zn	۳
K	۱

یادآوری


● در کتاب‌های درسی علوم تجربی، با مفهوم ویژگی‌ها و کاربرد برخی از کانی‌ها آشنا شدید. تعیین کنید کدام یک از تصاویر زیر، کانی می‌باشند؟ چرا؟



ب) یخ



الف) نبات



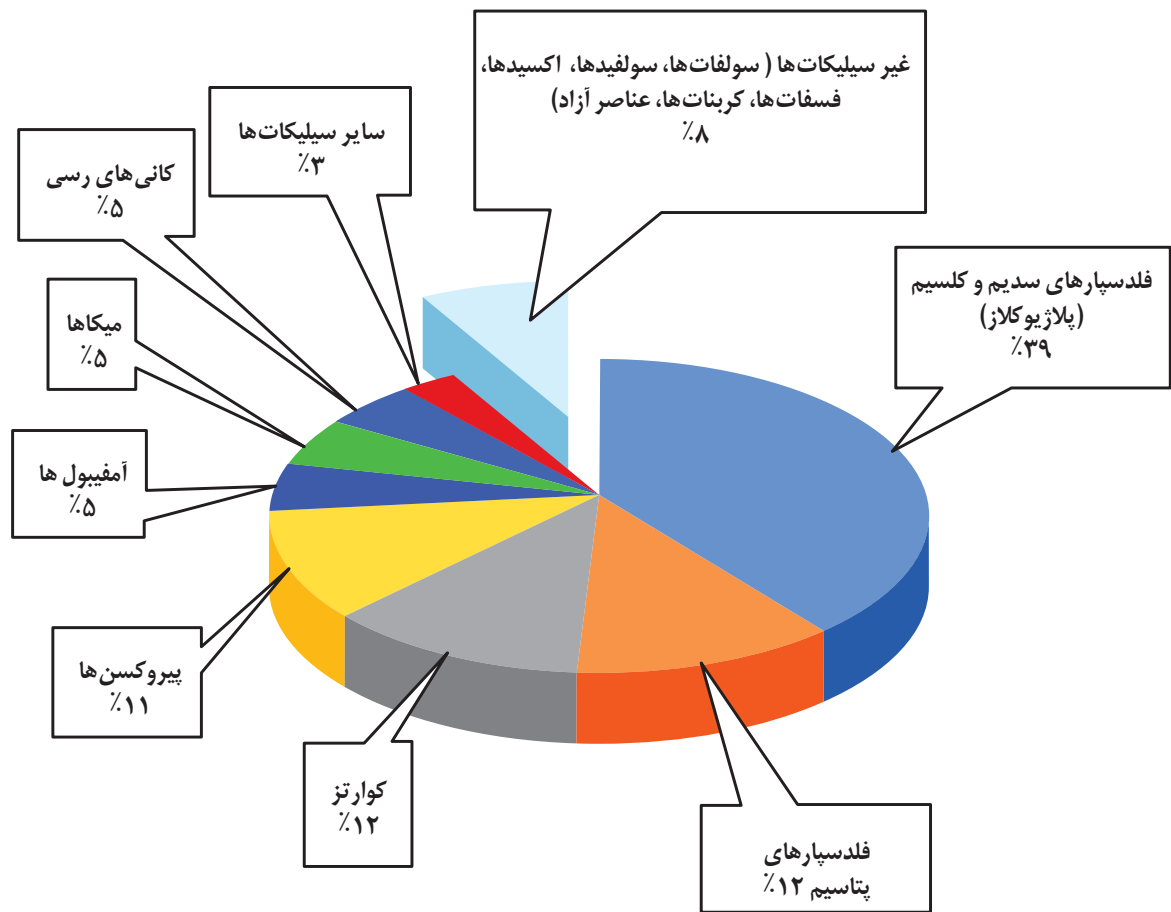
ت) گوگرد



پ) نفت

هیاوا! تخصصی ترین سایت مشاوره کشور

کانی‌ها، براساس ترکیب شیمیایی به دو گروه سیلیکات‌ها و غیرسیلیکات‌ها رده‌بندی می‌شوند. سیلیکات‌ها، کانی‌هایی هستند که بیش از ۹۰ درصد از پوسته زمین را تشکیل می‌دهند و در ترکیب شیمیایی خود، بنیان سیلیکاتی (SiO_4^{4-}) دارند. کانی‌های سیلیکاتی در سنگ‌های آذرین، رسوبی و یا دگرگونی یافت می‌شوند (شکل ۲-۱). کانی‌های غیرسیلیکاتی، گروهی از کانی‌ها هستند که در ترکیب خود، فاقد بنیان سیلیکاتی هستند. این کانی‌ها نیز در انواع سنگ‌ها یافت می‌شوند.



شکل ۲-۱- درصد وزنی کانی‌های سازنده پوسته زمین

جمع‌آوری اطلاعات

● در ساخت سرامیک و شیشه، از چه کانی‌هایی استفاده می‌شود؟ در این مورد، اطلاعات جمع‌آوری و در کلاس ارائه کنید.

به گروهی از کانی‌ها که در آن یک فلز ارزشمند اقتصادی وجود دارد، کانه اطلاق می‌شود. مانند مگنتیت که از آن آهن و یا گالن که از آن سرب استخراج می‌شود. برخی از کانه‌ها به صورت آزاد یافت می‌شوند: مانند طلا، نقره و مس.

• در مورد کانه‌های زیر، اطلاعات جمع آوری و جدول زیر را کامل کنید.

کانه	ترکیب شیمیایی	عنصر اقتصادی
هماتیت		
مگنتیت		
کالکوپیریت		
گالن		

کانسنگ

سنگ معدن یا کانسنگ، از دو بخش کانه، و باطله تشکیل شده است. کانه، بخش ارزشمند کانسنگ است و باطله، به موادی که ارزش اقتصادی قابل توجهی ندارند، گفته می‌شود.

برای مثال کالکوپیریت، به فرمول شیمیایی $CuFeS_2$ مهم‌ترین کانه کانسنگ فلز مس است. در معادن مس، این کانی همراه با کانی‌های باطله مختلفی مانند کوارتز، فلدسپار، میکا، کانی‌های رسی، پیریت و ... کانسنگ مس را تشکیل می‌دهند.



شکل ۲-۲- کالکوپیریت مهم‌ترین کانه مس (زمینه کانی کوارتز)

در بخش‌هایی از پوسته زمین، غلظت عناصر در یک منطقه نسبت به غلظت میانگین، افزایش می‌یابد و حجم زیادی از ماده معدنی در آنجا متمرکز می‌شود (بی‌هنجاری مثبت)، به طوری که استخراج آن از نظر اقتصادی، مقرون به صرفه است که به این مناطق، کانسار می‌گویند.

استخراج ماده معدنی یا کانسنگ، اغلب پرهزینه است و تنها در صورتی بهره‌برداری آغاز می‌شود که یک عنصر با حجم و غلظت کافی در ماده معدنی وجود داشته باشد. با شروع بهره‌برداری یا معدن کاری، یک معدن شکل می‌گیرد.



شکل ۲-۳- کاربرد کانی‌های صنعتی در سفالگری لالچین همدان، به دلیل وجود ذخایر مناسب خاک رس در آن منطقه

افزون بر کانسنگ‌ها، مواد معدنی دیگری هم برای کاربردهای صنعتی یا روزمره استخراج می‌شوند که فلزی نیستند. مانند: شن و ماسه در ساختمان‌سازی، خاک رس در ساخت آجر یا کاشی و سرامیک، سنگ‌های ساختمانی که در نمای ساختمان‌ها، کفپوش، پله و دیوارها به کار می‌روند. به این نوع از سنگ‌ها و کانی‌های غیرفلزی، سنگ‌ها و کانی‌های صنعتی نیز می‌گویند.

فکر کنید

● در مورد عوامل مؤثر بر مقرون به صرفه بودن یک معدن، اطلاعاتی جمع آوری و به پرسش زیر پاسخ دهید.
علاوه بر عوامل حجم و غلظت، چه عواملی در مقرون به صرفه شدن یک معدن دخالت دارند؟

در برخی موارد، بخش غیراقتصادی یا باطله یک کانسنگ، به عنوان شن و ماسه در زیرسازی جاده‌ها و... استفاده می‌شود.

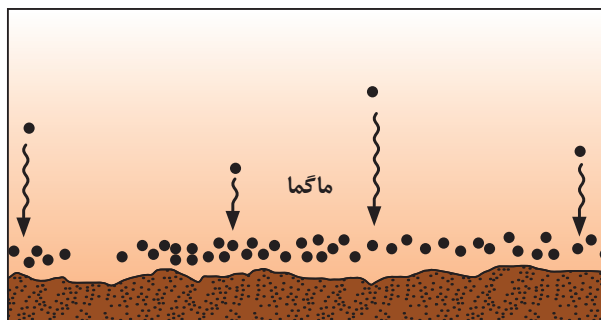
گفت‌وگو کنید

۱- در آب دریاها، مقداری عنصر طلا وجود دارد. به چه دلیل، طلا را از دریا استخراج نمی‌کنیم؟
۲- به چه دلیل برخی از معادن متروکه، پس از مدتی مورد بهره‌برداری مجدد قرار می‌گیرد؟

کانسنگ‌ها بر اساس منشأ و نحوه تشکیل، به سه دسته ماگمایی، گرمابی و رسوبی تقسیم‌بندی می‌شوند.
الف) کانسنگ‌های ماگمایی: کانسنگ‌های برخی عناصر فلزی مانند کروم، نیکل، پلاتین و آهن می‌توانند از یک ماگمای در حال سرد شدن، تشکیل شوند. با سرد شدن و تبلور یک ماگما، این عناصر که چگالی نسبتاً بالایی دارند، در بخش زیرین ماگما ته‌نشین می‌شوند و این کانسنگ‌ها را می‌سازند (شکل ۲-۴ الف).



ب) معدن آهن چُغارت - بافق یزد



الف) ته‌نشست کانسنگ کرومیت در کف مخزن ماگمایی

شکل ۲-۴



شکل ۲-۵ - سنگ پگماتیت

اگر پس از تبلور بخش اعظم ماگما، مقدار آب و مواد فرار مانند کربن‌دی‌اکسید و... فراوان باشد، شرایط برای رشد بلورهای تشکیل دهنده سنگ، فراهم و سنگ‌هایی با بلورهای بسیار درشت، به نام پگماتیت تشکیل می‌شود (شکل ۲-۵) که می‌تواند کانسار مهمی برای بعضی عناصر خاص مانند لیتیم و بعضی کانی‌های گوهری مانند زمرد یا کانی‌های صنعتی مانند مسکوویت تلقی نسوز باشد.

ب) کانسنگ‌های گرمابی: در پوسته زمین، به ازای هر ۱۰۰ متر افزایش عمق، ۳ درجه سانتی‌گراد دما افزایش می‌یابد. به این تغییرات

هیوا! تخصصی ترین سایت مشاوره کشور



شکل ۶-۲- رگه کانسنگ حاوی طلا

دما در پوسته زمین، شیب زمین گرمایی می گویند. در بخش های عمیق پوسته، به علت گرمای ناشی از شیب زمین گرمایی و یا توده های مذاب، دمای آب های موجود در این مناطق افزایش می یابد. منشأ این آب ها ممکن است از ماگما، آب های نفوذی بستر اقیانوس ها و یا آب های زیرزمینی راه یافته به اعماق زمین باشد که باعث انحلال برخی از عناصر می شوند. این آب ها، برخی عناصر را به شکل کانسنگ در داخل شکستگی های سنگ ته نشین می کنند و رگه های معدنی را می سازند (شکل ۶-۲). از آنجا که عامل تشکیل این کانسنگ ها، آب گرم است، کانسنگ های گرمابی نامیده می شوند. بسیاری از ذخایر مس، سرب، روی، مولیبدن، قلع و برخی فلزات دیگر، منشأ گرمابی دارند.

پ) کانسنگ های رسوبی: ذخایر سرب و روی موجود در سنگ های آهنی، مس و اورانیم موجود در ماسه سنگ ها، نمونه هایی از کانسنگ های رسوبی مهم هستند. گاهی هوازدگی سنگ ها، باعث می شود تا کانی های آن در رسوبات تخریبی رودخانه به علت چگالی زیاد ته نشین شده و به صورت خالص قابل بهره برداری شود، مانند پلاسرهای طلا، الماس، پلاتین و... از هزار سال پیش تاکنون در منطقه تخت سلیمان تکاب، از رودخانه زرشوران، طلا برداشت می شود.

اکتشاف معدن

تشکیل ذخایر فلزی و غیرفلزی در برخی از مناطق پوسته زمین رخ می دهد. با آگاهی از اصول تشکیل و عوامل کنترل کننده آنها، می توان ذخایر معدنی را پیدا کرد.

در اولین مرحله اکتشاف، زمین شناسان با بررسی نقشه های زمین شناسی و بازدید صحرایی، مناطقی را که احتمال تشکیل ذخایر معدنی در آن وجود دارد، شناسایی می کنند. برای مثال زمین شناسان می دانند که ذخایر زغال سنگی را همواره باید در سنگ های رسوبی جست و جو کرد و یا اینکه آب و هوای گرم و خشک، مستعد تشکیل سنگ رسوبی تبخیری مانند گچ و نمک و ژئوپس است. در مرحله بعد، آنها با آگاهی از ویژگی های فیزیکی کانسنگ ها، مانند خواص مغناطیسی کانسنگ، رسانایی الکتریکی سنگ ها، تغییرات میدان گرانش زمین و... با کمک روش های ژئوفیزیکی، ذخایر زیر سطحی و پنهان را شناسایی می کنند.

پس از مشخص شدن موقعیت تقریبی یک توده معدنی در زیر زمین، حفاری با دستگاه های پیشرفته و نمونه برداری از عمق، تا حدی که ماده معدنی وجود دارد، انجام می گیرد. این حفاری ها ممکن است تا صدها متر ادامه یابد. نمونه های تهیه شده از حفاری، برای شناسایی کانی های موجود در آنها و تعیین عیار فلز یا کیفیت ماده معدنی به آزمایشگاه حمل و در آنجا توسط میکروسکوپ و یا دستگاه های تجزیه شیمیایی مورد بررسی قرار می گیرند. در نهایت، زمین شناسان یا مهندسان اکتشاف، تمامی داده های به دست آمده را با نرم افزارها تحلیل و مقدار ذخیره معدن و عیار میانگین ماده معدنی را تعیین می کنند.

استخراج معدن و فراوری ماده معدنی

پس از پایان عملیات اکتشاف، با تعیین اقتصادی بودن ذخایر، عملیات استخراج آغاز می شود. روش استخراج، بر اساس شکل و چگونگی قرارگیری توده معدنی در پوسته، تعیین می شود. استخراج به

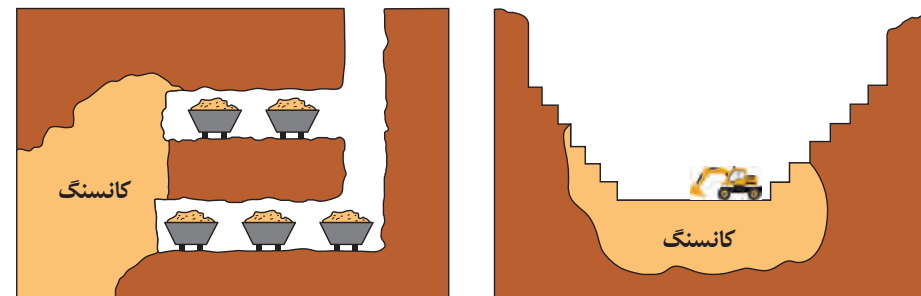
جمع آوری اطلاعات

- در مورد ذخایر پلاسر طلای ایران اطلاعات جمع آوری کنید و محل آنها را بر روی نقشه ایران نشان دهید.

هیوا! تخصصی ترین سایت مشاوره کشور

لذت زمین شناسی

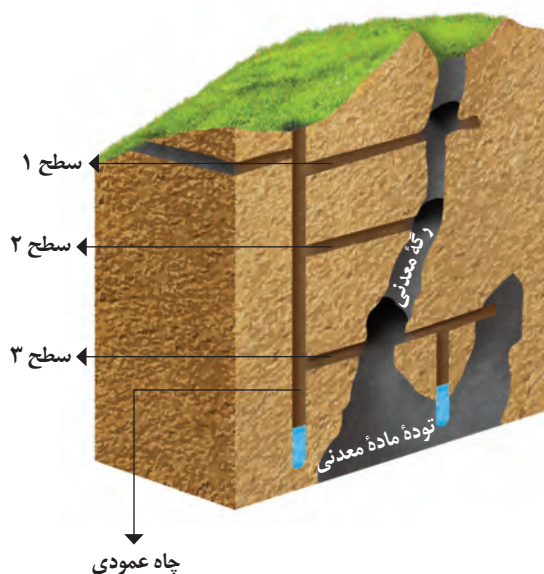
● بازدیدهای صحرایی در شرایط هیجان انگیز، در مناطق مختلف انجام می‌شود. دیدن مناطق جدید و بکر، کار کردن در روز و اقامت شبانه در صحرای (فیلد) و دور از هیاهوی شهرها و کشف رازهای زمین، از بخش‌های لذت بخش و جذاب زندگی زمین شناسان است. در واقع محل اصلی کار زمین شناس، طبیعت است.



(ب) روش زیرزمینی

(الف) روش روباز

شکل ۲-۷- روش‌های استخراج ماده معدنی



شکل ۲-۸- نحوه بهره‌برداری از معادن زیرزمینی

به فرایند جداسازی کانی‌های مفید اقتصادی از باطله، کانه‌آرایی (فراوری) ماده معدنی گفته می‌شود که در کارخانه‌های کنار معادن انجام می‌شود. محصول نهایی (کنسانتره) که همان کانه جدا شده از کانسنگ می‌باشد، برای جداسازی فلز به کارخانه ذوب، منتقل، یا به‌طور مستقیم یا با تغییر اندک در صنعت استفاده می‌شود.

گوهرها، زیبایی شگفت‌انگیز دنیای کانی‌ها

از روزگاران کهن، انسان از زیبایی

و ویژگی‌های خیره‌کننده کانی‌ها، برای زیباتر جلوه دادن خود استفاده می‌کرده است. این موضوع، به فطرت زیادوستی و زیبایی شناسی که خداوند متعال در نهاد انسان تعبیه کرده است، برمی‌گردد. شاید این یکی از مهم‌ترین دلایل ایجاد علم گوهرشناسی و پیشرفت‌های بعدی آن بوده است. لازم به ذکر است که تنها از میان حدود ۴۰۰۰ کانی شناخته شده، حدود ۱۰۰ کانی، ویژگی‌های لازم یک گوهر را دارند. گوهرها یا جواهر، شامل سنگ‌ها و کانی‌های قیمتی و نیمه‌قیمتی است که به دلیل زیبایی، درخشش، سختی زیاد، رنگ و کمیاب بودن، از سایر کانی‌ها و سنگ‌ها متمایز هستند و مورد توجه

پیوند با ریاضی

● عیار اقتصادی طلا در ذخایر آن، حدود ۲ ppm است. محاسبه کنید در یک معدن طلا، از ۳ تن سنگی که استخراج می‌شود، چند گرم طلا به دست می‌آید؟

جمع‌آوری اطلاعات

● در مورد فرایند فراوری طلا از کانسنگ، اطلاعات جمع‌آوری کرده و در کلاس ارائه دهید.

هیوا! تخصصی ترین سایت مشاوره کشور

خاص انسان‌ها قرار می‌گیرند. سختی کانی‌ها، براساس مقیاس سختی موهس توصیف می‌شود. در این مقیاس که بین عدد ۱ (نرم‌ترین در تالک) تا عدد ۱۰ (سخت‌ترین در الماس) تقسیم‌بندی می‌گردد زیبایی رنگ و درخشندگی گوهرهایی مانند یاقوت، زمرد، فیروزه، عقیق و آمیتیست (کوارتز بنفش)، توجه هر کسی را به خود جلب می‌کند. گوهرها، نمونه‌های بسیار زیبا و خاص و کمیاب دنیای کانی‌ها هستند که توسط فرایندهای ماگمایی، گرمایی و دگرگونی، اکثراً تحت شرایط خاصی مانند دما و فشار زیاد در اعماق زمین و گاهی با حضور مواد فرّار به وجود می‌آیند.

بیشتر بدانید

● استفاده از گوهرها به حدود ۹۰۰۰ سال پیش از میلاد برمی‌گردد. احتمالاً اولین بار هندی‌ها و ایرانیان و پس از آنها مصریان در ۷۰۰۰ سال قبل از میلاد مسیح، از گوهرها استفاده می‌کردند. وجود آویزها و مهره‌های آرایشی از جنس تالک، اسلیت، مرمر و صدف در آثار مربوط به ۱۰۶۵۰ سال پیش در بلندی‌های برادوست کردستان نشانگر این مطلب است. همچنین کشف مهره‌های زینتی از جنس فیروزه و سنگ لاجورد در تپه زاغه در جنوب قزوین، مربوط به ۸ تا ۹ هزار سال پیش و نیز پیدا شدن مهره‌های فیروزه‌ای در قبرهای دره محمد جعفر متعلق به ۶ هزار سال پیش، و داد و ستد تالک، سنگ چخماق، مرمر سفید، عقیق، فیروزه، صدف دریایی و سنگ لاجورد، بین عیلامیان و سومری‌ها در شهر تپه یحیی در ۵ تا ۶ هزار سال قبل، همگی نشان‌دهنده قدمت و تاریخ استفاده از گوهرها و سنگ‌های زینتی در ایران هستند.

● در ایران، از قرن دوم تا یازدهم هجری قمری، حدود ۳۵ کتاب در زمینه کانی‌شناسی و گوهرشناسی تألیف شده که معتبرترین آنها از لحاظ علمی، کتاب‌های الجماهر ابوریحان بیرونی و تنسوق نامه خواجه نصیرالدین توسی است.

● جواهرات، اغلب در ابعاد کوچک یافت می‌شوند و جرم آنها برحسب قیراط اندازه‌گیری می‌شود. هر قیراط معادل ۰/۲ گرم می‌باشد.


پاسخ دهید

● حداقل یک دلیل بیاورید که کانی کلسیت یا ژئیس نمی‌تواند یک کانی قیمتی باشد؟


اگر یک گوهر، سختی کافی نداشته باشد، در برابر خراشیدگی مقاوم نیست و از بین می‌رود. برخی خواص دیگر، مانند بازی رنگ، به کانی‌ها درخشندگی و زیبایی خاصی می‌دهد. مانند کانی کریزوبریل با درخشندگی چشم‌گره و نوعی گوهر سیلیسی به نام اپال (معروف به اپال گرانبها) که درخشش رنگین‌کمانی دارد (شکل ۲-۹).



پ) درخشش رنگین‌کمانی در گوهر اپال



ب) شباهت گوهر کریزوبریل با چشم‌گره



الف) درخشندگی در کانی کریزوبریل (گوهر چشم‌گره)

شکل ۲-۹

- در مورد ابزار و نحوه تراش گوهرها اطلاعات جمع آوری و در کلاس ارائه کنید.
- تفاوت الماس و برلیان در چیست؟



الماس: گوهری با ترکیب کربن خالص است که در دما و فشار بسیار زیاد، در گوشته زمین تشکیل می شود. این کانی، افزون بر استفاده گوهری، در ساینده ها نیز کاربرد دارد (شکل ۱۰-۲).

شکل ۱۰-۲- الماس

یاقوت: نام علمی آن کزندوم (اکسید آلومینیم) است. کانی کزندوم به رنگ آبی و سرخ دیده می شود، رنگ آبی آن یاقوت کبود و رنگ قرمز آن را یاقوت سرخ می گویند. این کانی بعد از الماس، سخت ترین کانی می باشد (شکل ۱۱-۲).



شکل ۱۱-۲- انواع کزندوم

زمرد: معروف ترین و گران ترین سیلیکات بریلیم که به رنگ سبز یافت می شود را «زمرد» می نامند (شکل ۱۲-۲).



شکل ۱۲-۲- زمرد

هیاوا! تخصصی ترین سایت مشاوره کشور

گارنت: از کانی‌های سیلیکاتی است که در سنگ‌های دگرگونی یافت می‌شود و معمولاً به رنگ سبز، قرمز، زرد، نارنجی و ... دیده می‌شود. فراوان‌ترین رنگ آن، قرمز تیره است (شکل ۱۳-۲).



شکل ۱۳-۲. گارنت



عقیق: کانی سیلیسی با رنگ‌های متنوع است که به نام‌ها و تراش‌های مختلف در بازار عرضه می‌شود. عقیق، یک نوع کوارتز نیمه قیمتی است که در بسیاری از نقاط ایران یافت می‌شود (شکل ۱۴-۲).



شکل ۱۴-۲. عقیق

زبرجد: به نوع شفاف و قیمتی کانی آلیوین، زبرجد می‌گویند. این کانی، سیلیکاتی و به رنگ سبز زیتونی است به همین دلیل به آن آلیوین گفته می‌شود (شکل ۱۵-۲).



شکل ۱۵-۲. زبرجد

هیوا! تخصصی ترین سایت مشاوره کشور

فیروزه: از گوهرهای قدیمی شناخته شده که دارای ترکیب فسفاتی است و برای اولین بار در سنگ‌های آتشفشانی اطراف نیشابور یافت شد و به دیگر نقاط جهان صادر گردید. (شکل ۱۶-۲).



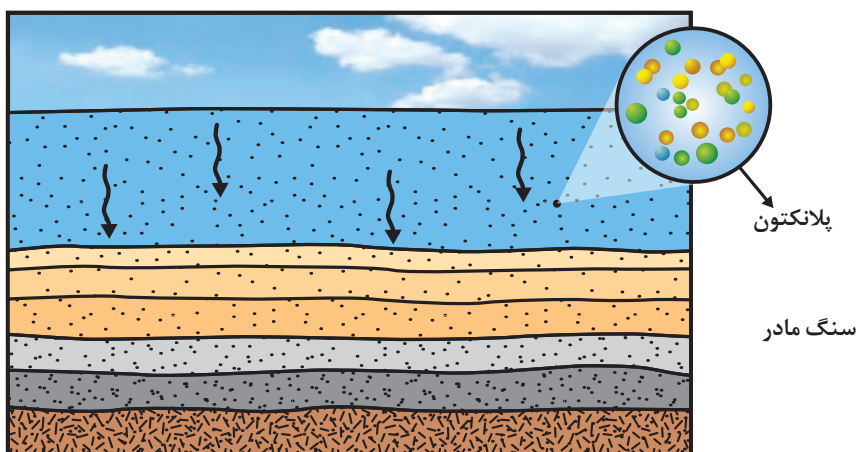
شکل ۱۶-۲. فیروزه (تورکوایز)

سوخت‌های فسیلی

انرژی، برای انجام تمامی فعالیت‌های انسان ضروری است. انسان از گذشته دور، از منابع طبیعی برای تولید انرژی استفاده کرده است. از میان منابع مختلف انرژی در دسترس، سوخت‌های فسیلی اهمیت زیادی دارند و در بیشتر کشورهای جهان، به عنوان منابع اصلی تولید انرژی به شمار می‌روند. سوخت‌های فسیلی از تجزیه مواد آلی گیاهی و جانوری به وجود می‌آیند که در رسوبات یا سنگ‌های رسوبی ذخیره شده‌اند.

نفت و گاز: هیدروکربن‌هایی هستند که به طور طبیعی، به صورت مایع، گاز و نیمه جامد در زمین وجود دارند. برخلاف زغال سنگ که در محیط‌های خشکی مانند محیط مردابی (اکسیژن اندک) تشکیل می‌شود، نفت خام در محیط دریایی کم عمق (کمتر از ۲۰۰ متر) به وجود می‌آید. در این محیط‌ها، جاندارانی مانند پلانکتون‌ها، مهم‌ترین منشأ مواد آلی هستند. بقایای این موجودات پس از مرگ، در رسوبات ریزدانه بستر دریا مدفون می‌شوند. ماده آلی باقیمانده که توسط لایه‌های بالایی پوشیده و حفظ شده، در لایه‌های رسوبات ریز یعنی

سنگ منشأ (سنگ مادر) نفت را تشکیل می‌دهد (شکل ۱۷-۲). مواد آلی در طی تبدیل رسوب ریزدانه به سنگ مادر، از طریق یک سری واکنش‌های شیمیایی به نفت خام تبدیل می‌شود. در فرایند تشکیل ذخایر نفتی، عواملی مانند دما، فشار، وجود باکتری‌ها، زمان و محیطی بدون اکسیژن اهمیت فراوانی دارند (شکل ۱۷-۲).



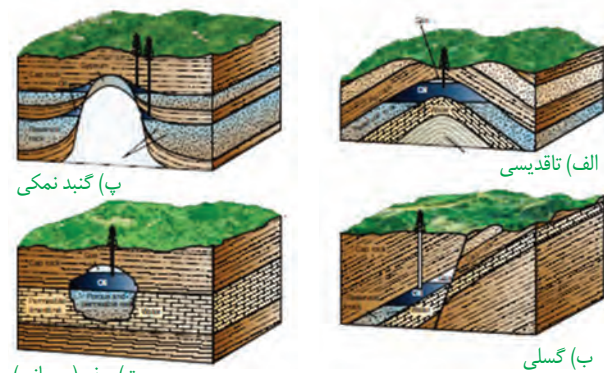
شکل ۱۷-۲. تشکیل ذخایر نفت و گاز در محیط‌های دریایی

• اگر در فرایند تشکیل نفت خام، فشار و دما از حد مورد نیاز برای تشکیل نفت، بیشتر یا کمتر شود، چه اتفاقی رخ می‌دهد؟

مهاجرت نفت: نفت و گازی که در سنگ مادر تشکیل می‌شود، همراه با آب دریا که از زمان رسوب گذاری در سنگ به دام افتاده، ناشی از فشار طبقات فوقانی، از طریق نفوذپذیری سنگ‌ها، به سمت بالا و اطراف حرکت می‌کند که به آن مهاجرت اولیه نفت می‌گویند. چنانچه در طی مهاجرت اولیه، مانعی در مسیر حرکت آب و نفت و گاز نباشد، به سطح زمین راه یافته و چشمه‌های نفتی را به وجود می‌آورد. در این صورت ممکن است نفت، در سطح زمین تبخیر و دچار اکسایش و غلیظ‌شدگی شده و ذخایر قیر طبیعی را به وجود آورد که نمونه‌ای از آنها در استان‌های خوزستان و ایلام دیده می‌شود.

اگر نفت و گاز در مسیر مهاجرت خود، به لایه‌ای از سنگ‌های نفوذناپذیر مانند سنگ گچ یا شیل برسند، دیگر قادر به ادامه مهاجرت نخواهند بود. این لایه نفوذناپذیر (پوش سنگ) جلوی حرکت نفت و گاز به سطح زمین را می‌گیرد و آنها را در سنگ مخزن که یکی از اجزای نفت گیر است، به دام می‌اندازد. ویژگی مهم سنگ مخزن وجود تخلخل و نفوذپذیری زیاد آن است. مانند: ماسه سنگ و سنگ آهک حفره دار (ریف‌های مرجانی).

مخازن نفتی (نفت گیرها و تله‌های نفتی)، دارای شکل (وضعیت) هندسی مناسب برای تجمع و ذخیره سازی نفت می‌باشند. در داخل سنگ مخزن، به دلیل اختلاف چگالی، آب شور، نفت و گاز از هم جدا می‌شوند که به این جدایش، مهاجرت ثانویه نفت گفته می‌شود. نفت گیرها انواع مختلفی دارند. مانند: تاقدیسی، گسلی، گنبد نمکی، ریف مرجانی و ...



شکل ۱۸-۲. انواع تله‌های نفتی

گفته می‌شود که ۹۹/۹ درصد نفتی که در طول تاریخ زمین تولید شده، به سطح زمین رسیده و از بین رفته و ۱/۰ درصد آن، همه ذخایر نفت موجود را تشکیل داده است.

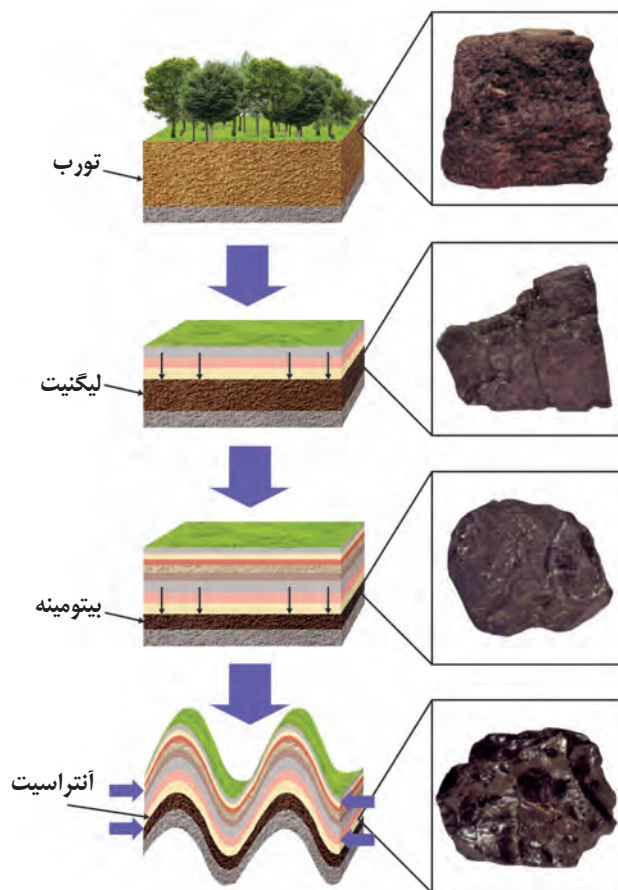
زغال سنگ: یک سوخت فسیلی جامد است که از مواد آلی در محیط‌های خشکی به وجود می‌آید. این مواد آلی، بیشتر از گیاهان جنگل حاصل می‌شوند. آنها، در باتلاق‌ها انباشته شده و توسط رسوبات پوشیده می‌شوند و بدون حضور اکسیژن به مرور زمان، به تورب که یک نوع زغال نارس است، تبدیل می‌شوند. در برخی کشورها مانند ایرلند، تورب به عنوان یک ماده سوختی بهره‌برداری می‌شود (شکل ۱۹-۲).



شکل ۱۹-۲. تورب (پوده)

هیاوا! تخصصی ترین سایت مشاوره کشور

در طی میلیون‌ها سال، تورب در زیر فشار رسوبات و وزن سنگ‌های بالایی، فشرده‌تر شده و آب و مواد فرّار مانند کربن‌دی‌اکسید و متان از آن خارج می‌شود. با خروج این مواد، در نهایت، ضخامت تورب که ماده‌ای پوک و متخلخل است، کاهش می‌یابد و به لیگنیت تبدیل می‌شود. با افزایش تراکم، لیگنیت به زغال سنگ‌های مرغوب‌تری به نام بیتومینه و سپس آنتراسیت تبدیل می‌شود (شکل ۲۰-۲). در فرایندهای زغال‌شدگی از تورب تا آنتراسیت، تغییرات زیادی رخ می‌دهد و سبب می‌شود با خروج تدریجی آب و مواد فرّار، درصد کربن در سنگ حاصل، افزایش یابد و کیفیت و توان تولید انرژی زغال سنگ بهتر شود.



شکل ۲۰-۲. مراحل تشکیل آنتراسیت (زغال رسیده)

فکر کنید

- وجود ذخایر زغال سنگ در سیبری که امروزه، سرزمینی سرد و بدون جنگل‌های انبوه می‌باشد را چگونه توجیه می‌کنید؟
- لایه‌های زغال دار طبس، نشان دهنده چه نوع آب‌وهوایی در گذشته این منطقه است؟
- چرا برخی از مناطق، با وجود جنگلی بودن، مکان مناسبی برای تشکیل زغال سنگ نیستند؟



● **سنگ شناسی (پترولوژی):** سنگ شناسی، شاخه‌ای از زمین شناسی است که در آن شیوه تشکیل، منشأ، رده بندی و ترکیب سنگ های آذرین و دگرگونی بررسی می شود. فرایندهای دگرگونی، آتش فشانی، نفوذ توده های آذرین در درون زمین و حتی در ماه و دیگر سیاره ها و مناطق زمین گرمایی، توسط پترولوژیست ها (سنگ شناسان) مورد مطالعه قرار می گیرد.



● **زمین شناسی اقتصادی:** زمین شناسانی که در موضوع زمین شناسی اقتصادی تخصص دارند، با بهره گیری از اصول زمین شناسی و پراکندگی عناصر در پوسته زمین، به دنبال مکان هایی هستند که در آن ذخایر معدنی ارزشمند مانند مس، آهن، طلا، نقره، الماس و دیگر گوهرها و ... قرار دارند.




● **زمین شناسی نفت:** زمین شناس نفت، از تخصص خود در شناخت، چگونگی تشکیل و مهاجرت نفت در اعماق چند کیلومتری زمین استفاده می کند. همچنین مکان هایی که نفت می تواند در آنجا انباشته شود، شناسایی و مکان هایی از یک میدان نفتی یا گازی که برای حفاری و استخراج نفت مناسب است را مشخص می کند.



● **ژئوشیمی:** کلارک و محققان دیگر، مطالعات زیادی درباره ترکیب سیارات به ویژه زمین انجام دادند و یافته های آنها، پایه علم ژئوشیمی امروزه را تشکیل داده است. مطالعات روی ترکیب سیارات که در واقع همان ترکیب تقریبی زمین است، تأثیر بسزایی در شناخت عناصر و چگونگی تشکیل آنها دارد و باعث می شود منابع ارزشمند شناخته شوند و بهره برداری بهتری از آنها در زندگی امروزی صورت گیرد.

متخصصین فوق، در سازمان زمین شناسی و اکتشافات معدنی کشور، صنایع و معادن، شرکت ملی نفت، گاز، پتروشیمی و جواهر سازی، کمک شایانی در بهبود اقتصاد کشور خواهند داشت.

هیاوا! تخصصی ترین سایت مشاوره کشور



جنوب استان لرستان



فصل ۳

منابع آب و خاک

فضانوردان، زمین را یک سیاره آبی و بسیار زیبا توصیف کرده‌اند. آب با حالت‌های جامد، مایع و گاز، باعث تغییرات وسیعی در لایه سطحی و پیرامون کره زمین می‌شود. آب، نماد زندگی است و در سفری پایان‌ناپذیر بین سنگ کره و هوا کره، سبب تغییر پوسته زمین، فرسایش، تغییرات اقلیمی و... می‌شود.

آیا می‌توان بدون آب به زندگی ادامه داد؟ سطح زمین بدون آب، چه منظره‌ای خواهد داشت؟ در آینده نزدیک، با افزایش روزافزون جمعیت و توسعه کشاورزی و صنعت، گرم شدن کره زمین و... بشر با چه چالش‌هایی برای تأمین آب شیرین روبه‌رو خواهد شد؟

آیا می‌توان بدون خاک به زندگی ادامه داد؟ خاک، چه نقشی در زندگی گیاهان و جانوران دارد؟ آیا می‌دانید خاک، چگونه و از چه موادی تشکیل می‌شود؟

هیاوا! تخصصی ترین سایت مشاوره کشور

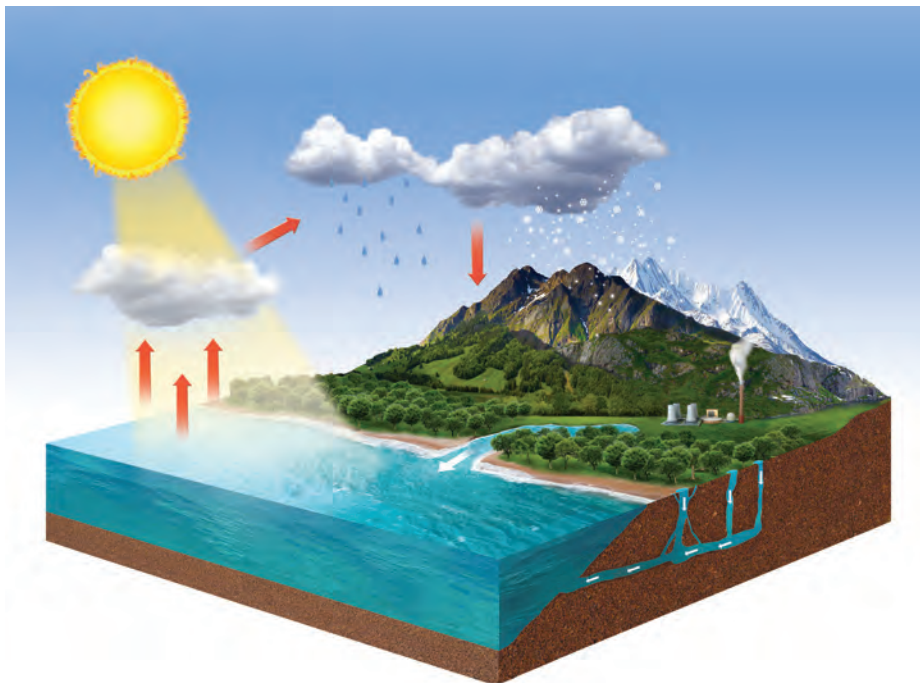


فرسایش



فرونشست زمین

زندگی انسان و سایر جانداران، بدون آب امکان پذیر نیست. آب مورد نیاز، از منابع آب‌های سطحی و زیرزمینی تأمین می‌شود. بارش‌های جوی در تأمین این منابع، نقش اساسی دارند. بخشی از بارش‌ها در یک حوضه آبریز، قبل از رسیدن به سطح زمین، توسط شاخ و برگ گیاهان گرفته می‌شود و برگاب را به وجود می‌آورد (شکل ۱-۳-الف) که مقداری از آن به صورت تبخیر، مجدداً به هوا کره برمی‌گردد. بخشی دیگر که به سطح زمین می‌رسد، یا تبخیر می‌شود، یا به صورت رواناب، به سوی مناطق پست‌تر حوضه آبریز جریان می‌یابد. بخشی از رواناب به داخل زمین، نفوذ و منابع آب زیرزمینی را تغذیه می‌کند. بخش عمده آب زیرزمینی، سرانجام از طریق چشمه، چاه یا قنات، مجدد به سطح زمین راه می‌یابد (شکل ۱-۳-ب).



ب) چرخه آب

شکل ۱-۳

با هم ببیندیشید

- چه عواملی بر مقدار برگاب و رواناب مؤثرند؟
- تبخیر در چه بخش‌هایی از چرخه آب صورت می‌گیرد؟



الف) نمایی از برگاب

آب جاری، با آنکه در مقایسه با حجم کل آب کره، بسیار ناچیز است اما، در تغییرات سطح زمین و تشکیل منابع آب مانند: آب آشامیدنی، کشاورزی، صنعت، تولید برق و ... اهمیت زیادی دارد.



● شکل روبه‌رو، شش حوضه آبریز اصلی ایران را نشان می‌دهد. با جستجو در منابع معتبر، یک یا دو رودخانه اصلی در هر حوضه را مشخص کنید.

جمع‌آوری اطلاعات



آبدهی: سرعت حرکت آب در نقاط مختلف یک رود، متغیر است. اندازه‌گیری سرعت آب و آبدهی رود، به صورت روزانه و یا در دوره‌های زمانی طولانی‌تر و به روش‌های مختلف انجام می‌شود. با تعیین سرعت آب در یک رود یا آبراهه و اندازه‌گیری سطح مقطع آن، می‌توان مقدار آبدهی (دبی) را با استفاده از رابطه زیر محاسبه کرد (شکل ۲-۳).

$$Q = A \times V$$



Q : دبی برحسب متر مکعب بر ثانیه
 A : مساحت سطح مقطع جریان آب برحسب متر مربع
 V : سرعت جریان آب برحسب متر بر ثانیه
 به بیان دیگر آبدهی (دبی) عبارت است از، حجم آبی که در واحد زمان (ثانیه) از مقطع عرضی رودخانه عبور می‌کند.

شکل ۲-۳- ایستگاه اندازه‌گیری آبدهی رود

● آب در رودی با سطح مقطع ۱۰۰ مترمربع، و با سرعت متوسط ۲ متر بر ثانیه در جریان است. آبدهی رود را محاسبه کنید.

● اگر این رود به یک تالاب منتهی شود، در طی یک هفته، چند متر مکعب آب را وارد تالاب می‌کند؟

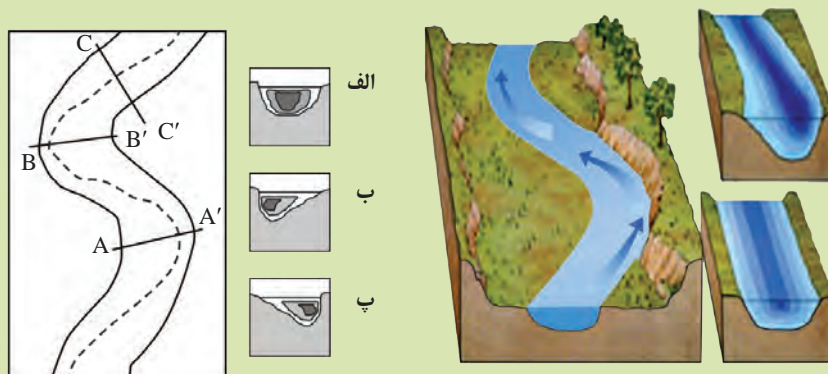
پیوند با ریاضی

هیوا! تخصصی ترین سایت مشاوره کشور

آبدهی رود، در بهار، به علت ذوب برف‌ها و افزایش بارندگی، افزایش می‌یابد. در ادامه در طول تابستان، معمولاً آبدهی رود کاهش می‌یابد. در مناطق مرطوب، که مقدار بارندگی زیاد و تبخیر، کم است، رودها از نوع دائمی هستند. در این رودها، بخشی از آب که همیشه جریان دارد، آبدهی پایه را تشکیل می‌دهد. آب این رودها، در زمانی که بارندگی نیست، از ذوب برف و یخ نواحی مرتفع و یا از ورود آب‌های زیرزمینی به داخل آنها تأمین می‌شود. در مناطق گرم و خشک که مقدار بارندگی کم و تبخیر زیاد است، بیشتر رودها، موقتی و فصلی هستند.

فکر کنید

- ۱- مقدار رسوب‌گذاری و فرسایش را در نقاط A و A' مقایسه کنید.
- ۲- هریک از نیم‌رخ‌های الف و ب و پ مربوط به کدام مقطع رود می‌باشد؟



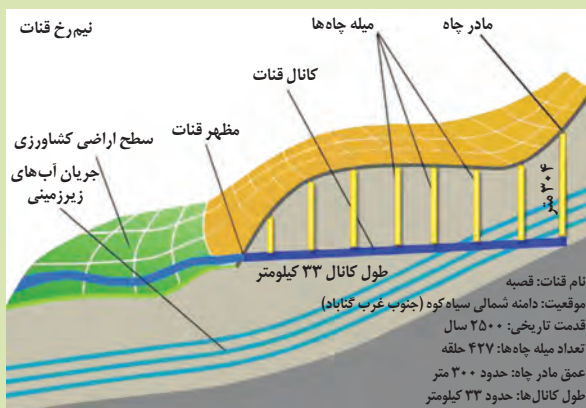
مقاطع مختلف رود

آب زیرزمینی

انسان‌های نخستین، از آب زیرزمینی برای آشامیدن و پختن غذا استفاده می‌کردند. به تدریج، با گذشت زمان از این آب، برای کشاورزی و گردش آسیاب‌ها نیز بهره می‌بردند. مردم ایران زمین، از قدیم، آب‌های زیرزمینی را با احداث قنات به سطح زمین می‌آوردند و به روستاها و شهرهای خود می‌رساندند. آب زیرزمینی، آبی است که در منافذ و فضاهای خالی لایه‌های نزدیک به سطح زمین جمع می‌شود و از طریق چاه، چشمه و قنات، قابل بهره‌برداری می‌گردد.

جمع‌آوری اطلاعات

- قدیمی‌ترین قنات جهان، در کدام استان کشور قرار دارد و نام آن چیست؟
- حدود ۴۰۰۰۰ رشته قنات در کشور ما وجود دارد. بیشترین تعداد قنات، در کدام یک از شش حوضه آبریز اصلی ایران حفر شده‌اند؟ دلیل آن چیست؟



هیاوا! تخصصی ترین سایت مشاوره کشور

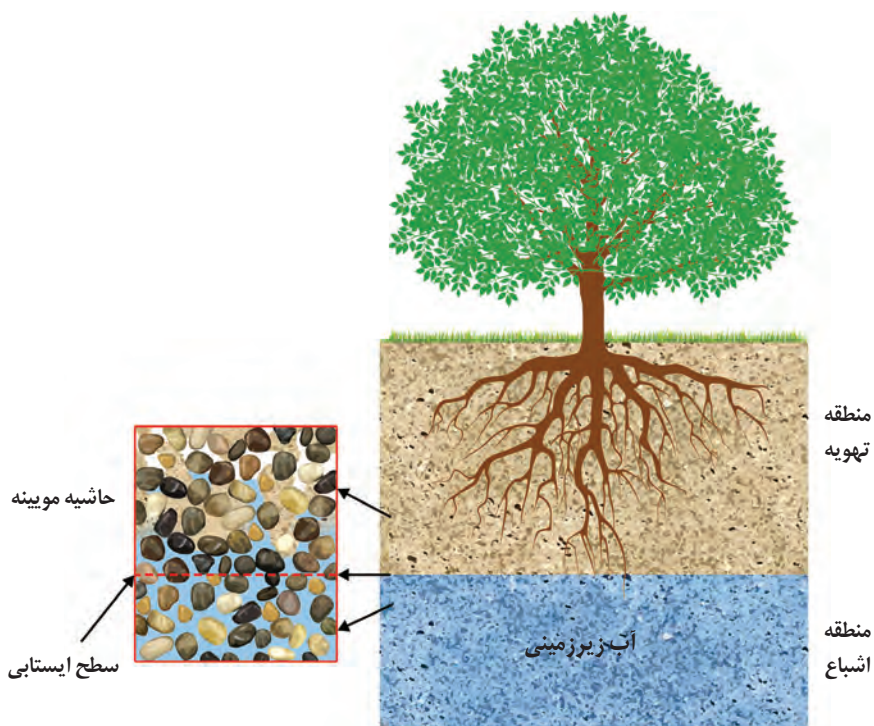
مفاخر ایرانی

● برخی از دانشمندان ایرانی در مورد آب‌های زیرزمینی، نظرات ارزنده‌ای ارائه کرده‌اند. ابوبکر محمد بن الحسن الحاسب کرجی (قرن چهارم و پنجم هـ.ق) کتابی با عنوان «استخراج آب‌های پنهانی» درباره منشأ و روش‌های استخراج آب زیرزمینی نوشته است. ابوریحان بیرونی (قرن چهارم و پنجم هـ.ق) در کتاب «آثار الباقیه» منشأ آب چشمه‌ها و علت تغییر مقدار آب آنها را ذکر کرده است. وی خروج آب از چاه‌های آرتزین را براساس قانون ظروف مرتبطه بیان کرده است. ابوحاتم مظفر اسفرازی (قرن پنجم و ششم هـ.ق) در «رساله آثار علوی» مطالبی درباره شکل‌گیری چشمه‌ها و رودها، نفوذ آب به داخل زمین، تغییر کیفیت آب به دلیل وجود کانی‌های قابل حل در مسیر آب، عنوان کرده است.



آب زیرزمینی قابل بهره‌برداری، گرچه فقط حجم کمی از آب کره را تشکیل می‌دهد، ولی همین مقدار، بزرگ‌ترین ذخیره آب شیرین قابل بهره‌برداری در خشکی‌ها است.

سطح ایستابی: در هنگام نفوذ آب به داخل زمین، بخشی از آب نفوذی به سطح ذرات خاک یا سنگ می‌چسبد، به طوری که منافذ و فضاهاى خالی، توسط آب و هوا پر می‌شود و منطقه تهویه شکل می‌گیرد. بخشی از آب نفوذی، به طرف عمق بیشتر حرکت می‌کند تا به سنگ بستر برسد، و منطقه اشباع را ایجاد می‌کند. تمام فضاهاى خالی منطقه اشباع، توسط آب پر شده است. سطح بالایی این منطقه، سطح ایستابی است (شکل ۳-۳).



شکل ۳-۳- توزیع عمقی آب زیرزمینی و تشکیل سطح ایستابی

پیوند با فیزیک

- چه نیرویی باعث تشکیل حاشیه مویینه می‌شود؟
- اندازه ذرات خاک، چه تأثیری بر ضخامت حاشیه مویینه دارد؟
- هنگامی که عمق سطح ایستابی کم باشد به طوری که حاشیه مویینه، به سطح زمین برسد، چه اتفاقی می‌افتد و چه مشکلاتی ایجاد می‌کند؟

عمق سطح ایستابی در مناطق مختلف، متفاوت است. در بعضی مناطق ممکن است تا صدها متر برسد. سطح ایستابی، تقریباً از توپوگرافی (عارضه‌نگاری*) سطح زمین تبعیت می‌کند. هنگامی که سطح ایستابی با سطح زمین برخورد کند، آب زیرزمینی به صورت چشمه و گاهی

هیاوا! تخصصی ترین سایت مشاوره کشور



به صورت برکه در سطح زمین ظاهر می شود و در صورتی که سطح ایستابی بر سطح زمین منطبق شود یا در نزدیک آن قرار گیرد، باتلاق یا شوره زار تشکیل می شود (شکل ۳-۴).

شکل ۳-۴. تشکیل برکه با آب زیرزمینی

یادآوری


- در سال های گذشته در مورد عمق سطح ایستابی خوانده بودید. چه عواملی بر تغییرات سطح ایستابی مؤثر است.
- در مورد عوامل مؤثر بر تغییرات عمق سطح ایستابی در یک منطقه، اطلاعاتی جمع آوری و در کلاس ارائه دهید.

تخلخل و نفوذپذیری: برای تشکیل آبخوان، لازم است رسوبات و سنگ ها، دارای فضاهای خالی باشند. این فضاهای خالی یا منافذ اولیه هستند که از ابتدای تشکیل در آنها وجود داشته اند، یا پس از تشکیل سنگ به صورت ثانویه بر اثر شکستگی، هوازدگی، انحلال یا عوامل دیگر در آن به وجود آمده اند. درصد فضاهای خالی (تخلخل) رسوب یا سنگ، طبق رابطه زیر، محاسبه می شود.

$$\text{درصد تخلخل} = \frac{\text{حجم فضاهای خالی (m}^3\text{)}}{\text{حجم کل (m}^3\text{)}} \times 100$$

پیوند با ریاضی

- بر اثر بهره برداری از یک آبخوان در یک دشت به مساحت $10^6 \times 200$ متر مربع و تخلخل 30% ، سطح ایستابی 10 متر افت کرده است. چه حجمی از آب تخلیه شده است؟
- چنانچه این حجم آب در طی 30 روز پمپاژ شده باشد، میانگین آبدهی چاه ها چقدر بوده است؟

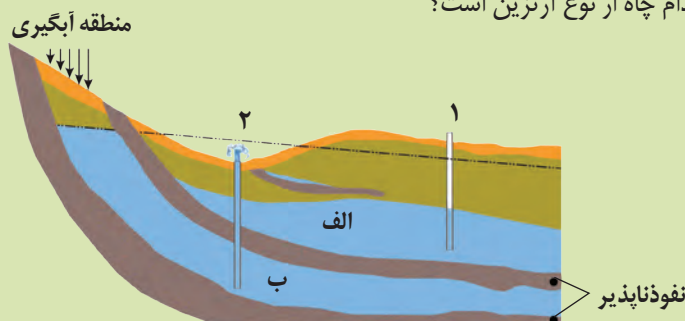


شکل ۳-۵. تخلخل و نفوذپذیری

هر چه درصد تخلخل خاک یا سنگ بیشتر باشد، آب بیشتری را می تواند در خود نگه دارد. اما لزوماً باعث عبور آب نمی شود. مثلاً سنگ پاه بسیار متخلخل است اما، آب از آن عبور نمی کند. رس ها بسیار متخلخل اند، ولی به علت ریز بودن ذرات، نفوذپذیری بسیار اندکی دارند. میزان نفوذپذیری خاک به میزان ارتباط و اندازه منافذ بستگی دارد. برخی خاک ها، دارای تخلخل زیاد و نفوذپذیری کم هستند و عبور آب از درون آنها، به دشواری صورت می گیرد. درصد تخلخل آبخوان، بیانگر مقدار آبی است که می تواند در آن ذخیره شود و نفوذپذیری، نشانگر توانایی آبخوان در انتقال و هدایت آب می باشد.

• در سال‌های گذشته، با آبخوان و انواع آن آشنا شدید. در این باره به پرسش‌های زیر پاسخ دهید:

- ۱- آبخوان چیست؟
- ۲- در شکل زیر، نوع آبخوان‌های الف و ب را مشخص کنید.
- ۳- چاه‌های شماره ۱ و ۲ چه تفاوتی با یکدیگر دارند؟
- ۴- کدام چاه از نوع آرتزین است؟



آبخوان: سنگ‌ها و رسوبات مختلف از نظر تشکیل آبخوان و میزان آبدهی، ویژگی‌های متفاوتی دارند. آبرفت‌ها و سنگ‌های آهکی حفره‌دار (آهک کارستی) قابلیت تشکیل آبخوان را دارند ولی، شیل‌ها، سنگ‌های دگرگونی و آذرین، آبخوان خوبی تشکیل نمی‌دهند به طوری که، معمولاً یا چشمه‌ای در آنها به وجود نمی‌آید یا در صورت تشکیل، چشمه‌هایی با آبدهی بسیار کم و فصلی دارند. در حالی که در سنگ‌های آهکی حفره‌دار، معمولاً چشمه‌های پر آب و دائمی ایجاد می‌شود (شکل ۳-۶). افزون بر آن، عواملی مانند شرایط آب و هوایی، میزان نفوذپذیری، تخلخل، شیب زمین و ساختمان زمین‌شناسی محل بر نوع آبخوان تأثیر دارد. اگر چاهی در یک لایه آبدار آزاد حفر شود، تراز آب در چاه، نمایانگر سطح ایستابی و در لایه آبدار تحت فشار، سطح پیزومتریک است.



ب) چشمه کارستی گاماسیاب نهبوند



الف) چشمه کارستی طاق بستان کرمانشاه

شکل ۳-۶

حرکت آب زیرزمینی: آب برای حرکت در داخل زمین، نیاز به انرژی دارد. آب زیرزمینی به طور کلی، از مکانی با انرژی بیشتر (سطح ایستابی بالاتر) به مکانی با انرژی کمتر در مسیری منحنی شکل حرکت می‌کند. این حرکت خیلی کندتر از حرکت آب در رودخانه است. حرکت آب در داخل آبخوان، از کمتر از یک متر تا صدها متر در روز تغییر می‌کند.

هیاوا! تخصصی ترین سایت مشاوره کشور

ترکیب آب زیرزمینی: ترکیب آب زیرزمینی از محلی به محل دیگر تغییر می کند. آب زیرزمینی، به طور عمده، حاوی کلریدها، سولفات ها و بی کربنات های کلسیم، منیزیم، سدیم، پتاسیم و آهن است. بسیاری از عناصر و مواد دیگر نیز به مقدار بسیار کم در آب زیرزمینی وجود دارد. غلظت نمک های حل شده در آب زیرزمینی به جنس کانی ها و سنگ ها، سرعت نفوذ آب، دما و مسافت طی شده توسط آب بستگی دارد. آب، ضمن حرکت آهسته در زیر زمین، فرصت زیادی برای انحلال کانی های مسیر خود دارد. مقدار نمک های محلول در آب زیرزمینی موجود در سنگ های آذرین و دگرگونی، به طور معمول کم و برای آشامیدن مطلوب است. سنگ های تبخیری مانند سنگ نمک و سنگ گچ، انحلال پذیری زیادی دارند و از این رو، آب این گونه آبخوان ها، عموماً دارای املاح فراوان هستند. آب موجود در سنگ های کربناتی، معمولاً از نوع آب های سخت است، یعنی درصد یون های کلسیم و منیزیم بیشتری دارد. این گونه آب ها، به خوبی با صابون کف نمی کنند و رسوباتی را در لوله ها و ظرف ها ته نشین می کنند، به همین جهت، استفاده از آنها در صنعت و آشامیدن دارای محدودیت هایی است.

لایه های آبدار موجود در رسوبات رودخانه ای و آبرفتی به طور معمول، حاوی آب شیرین هستند. در نواحی خشک، مانند مناطق کویری ایران، در برخی نقاط، شوری آب چنان زیاد است که برای بسیاری از موارد، نامناسب است.

گفت و گو کنید

• در مناطق خشک، هر چقدر بهره برداری از آب های زیرزمینی بیشتر باشد، کیفیت آب، نامطلوب تر است. دلیل آن را توضیح دهید.

پیوند با شیمی

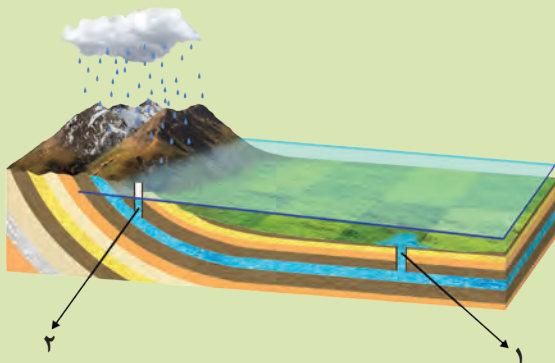
• سختی آب، به علت نمک های محلول در آن است. یون های کلسیم و منیزیم، به عنوان فراوان ترین یون های موجود در آب، ملاک تعیین سختی آب هستند.

$$TH = 2/5 Ca^{2+} + 4/1 Mg^{2+} \quad (TH: \text{سختی کل (میلی گرم در لیتر)})$$

• نمونه آبی دارای ۵۰ میلی گرم در لیتر، یون کلسیم و ۳۵ میلی گرم در لیتر، یون منیزیم است. سختی کل آب چقدر است؟ تحقیق کنید که آیا این آب برای شرب مناسب است؟

فکر کنید

• مقدار املاح موجود در آب دو چاه ۱ و ۲، در شکل زیر را با هم مقایسه کنید.



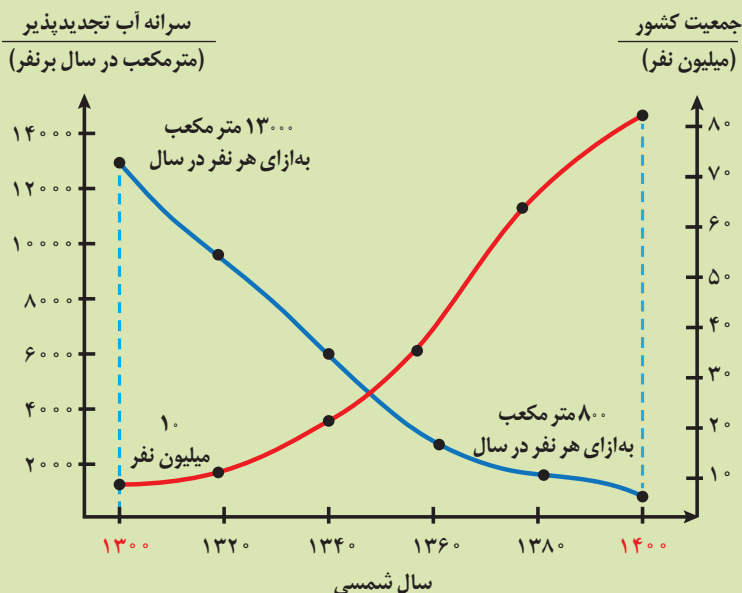
هیاوا! تخصصی ترین سایت مشاوره کشور

تجدیدپذیری آب: در مدیریت منابع آب، ذخایر آب به دو دسته تجدیدپذیر و تجدیدناپذیر تقسیم می شوند. آب تجدیدپذیر، آبی است که در مقیاس زمانی معین، پس از مصرف انسان، از طریق چرخه آب، جایگزین می شود. بخشی از ذخایر آب که پس از مصرف، جایگزین نمی شود، آب تجدیدناپذیر است. برای جلوگیری از ایجاد بحران آب، باید میزان بهره برداری از منابع آب، کمتر از میزان تغذیه آن منابع باشد. عدم رعایت این مورد، در طی سال های گذشته، منجر به کاهش شدید ذخایر آب زیرزمینی کشور ما شده است. بنابراین توجه به میزان مصرف منابع آبی کشور، بسیار مهم و حیاتی است. امروزه در برخی از کشورهای کم آب، بهره برداری از آب های فسیلی مطرح شده است.

آب های فسیلی: به آب هایی گفته می شود که در طی چند هزار سال گذشته در اعماق زیاد محبوس شده اند و در چرخه آب قرار ندارند.

تفسیر کنید

● نمودار زیر، تغییرات سرانه آب تجدیدپذیر و جمعیت کشور در صد سال اخیر را نشان می دهد. نمودار را تفسیر کنید.



بیان (ترازنامه) آب: محاسبه بیان آب یک لایه آبدار، از بسیاری جهات، مشابه بررسی بیان هزینه یک خانواده یا هر واحد اقتصادی است که کمک می کند تا میزان درآمد و هزینه ها با هم مقایسه شوند. در مدیریت و بهره برداری از منابع آب نیز، برای آنکه نوسانات حجم ذخیره منابع آب یک منطقه تعیین شود، بیان آب محاسبه می شود.

توازن آب بر اساس اصل بقای جرم است. بین مقدار آب ورودی (I) به آبخوان و آب خروجی از آن (O) و تغییراتی که در حجم ذخیره آب به وقوع می پیوندد (ΔS)، رابطه زیر برقرار است:

$$I - O = \Delta S$$

به عبارتی، تغییراتی که در حجم آب داخل آبخوان اتفاق می افتد، با اختلاف آب ورودی و خروجی از آن برابر است. اگر مقدار آب ورودی به آبخوان، بیشتر از مقدار آب خروجی باشد، بیان، مثبت و اگر کمتر از آن باشد، بیان، منفی است.

هیاوا! تخصصی ترین سایت مشاوره کشور

در طی سال های گذشته به علت بهره برداری زیاد از منابع آبی، بیلان منابع آب در کل کشور و در بیشتر ۶۰۹ دشت کشور، منفی بوده است. بر این اساس، بسیاری از دشت های کشور از نظر توسعه بهره برداری آب های زیرزمینی، به عنوان دشت ممنوعه اعلام شده است.

جمع آوری اطلاعات

در منابع معتبر جستجو کنید و به پرسش های زیر پاسخ دهید:

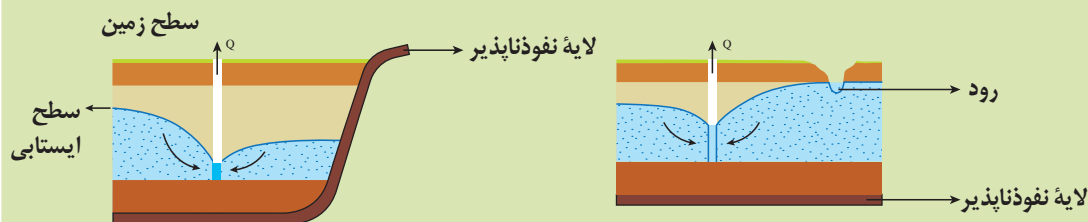
- پرمصرف ترین و کم مصرف ترین استان کشور از نظر مصرف آب تجدیدناپذیر، کدام استان ها هستند؟
- آیا محل سکونت شما در محدوده دشت های ممنوعه واقع شده است؟



گفت و گو کنید

۱- شکل های زیر، گسترش مخروط افت چاه در اثر بهره برداری و تلاقی آن با یک لایه نفوذناپذیر و یک رود را نشان می دهد. در مورد تأثیر آنها بر روی شکل مخروط افت و میزان آب ورودی به چاه گفت و گو کنید.

۲- اگر مخروط افت چاه با یک منبع آلاینده مانند یک چاه فاضلاب برخورد کند، چه اتفاقی می افتد؟



هیوا! تخصصی ترین سایت مشاوره کشور



الف) فرونشست ناگهانی



ب) فرونشست تدریجی

شکل ۳-۷

فرونشست زمین: یکی از پیامدهای برداشت بی‌رویه آب زیرزمینی، فرونشست زمین است. این وضعیت در بسیاری از دشت‌های کشور ما که با بیلان منفی آب زیرزمینی روبه‌رو هستند، مشاهده می‌شود.

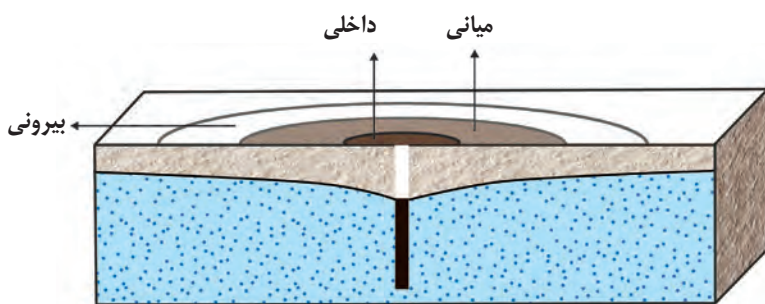
فرونشست زمین یا به صورت سریع، به شکل فروچاله ایجاد می‌شود (شکل ۳-۷ الف) و یا آرام و نامحسوس به صورت نشست سطح وسیعی از منطقه و ایجاد ترک و شکاف در سطح زمین نمایان می‌شود (شکل ۳-۷ ب). فرونشست زمین می‌تواند خسارت‌های فراوان به زیربناها و انواع سازه‌ها و زمین‌های کشاورزی وارد کند. برای کاهش میزان فرونشست زمین، باید بهره‌برداری از منابع آب زیرزمینی کاهش یابد و با تغذیه مصنوعی آبخوان‌ها تقویت شوند.

فکر کنید

- فرونشست دشت‌ها، چه پدیده‌های مخربی را می‌تواند به همراه داشته باشد؟
- تغذیه مصنوعی چیست و چگونه انجام می‌شود؟

آلودگی منابع آب زیرزمینی: کیفیت آب زیرزمینی، بستگی به مقدار املاح موجود در آن دارد. افزون بر املاح آب، برخی آلودگی‌ها توسط انسان به آن وارد می‌شود. منابع آلاینده آب زیرزمینی، به صورت نقطه‌ای و یا غیرنقطه‌ای هستند. در حالت نقطه‌ای، مواد آلوده کننده از یک نقطه مشخص، مانند یک چاه فاضلاب (چاه جذبی)، به طور مستقیم وارد آب زیرزمینی می‌شوند. در حالت غیر نقطه‌ای، مواد آلوده کننده به وسیله رواناب‌های آلوده از سطح مراتع، و یا زمین‌های کشاورزی به زمین نفوذ کرده و وارد آب زیرزمینی می‌شوند.

حریم منابع آب: کیفیت منابع آب زیرزمینی به وسیله کودهای کشاورزی، فاضلاب‌های صنعتی و شهری و همچنین کمیّت آنها از طریق بهره‌برداری زیاد، در معرض تهدید است. بنابراین حفاظت از این منابع، دارای اهمیت زیادی است. یکی از روش‌های حفاظت از منابع آب زیرزمینی، تعیین حریم برای آنها است. بر این اساس، حریم کمی و کیفی تعریف می‌شود. حریم کمی، براساس شعاع



شکل ۳-۸- پهنه‌های حریم چاه

تأثیر دو چاه در نظر گرفته می‌شود که حدود ۵۰۰ متر است. حریم کیفی چاه‌های تأمین کننده آب شرب، به صورت پهنه‌های حفاظتی تعریف می‌شود. منظور از پهنه‌های حفاظتی، محدوده‌ای در اطراف چاه است که آلاینده قبل از رسیدن به چاه از بین می‌رود. پهنه‌های حفاظتی، معمولاً شامل سه بخش داخلی، میانی و بیرونی است (شکل ۳-۸).

هیاوا! تخصصی ترین سایت مشاوره کشور

جدول زیر را کامل کنید.

فعالیت‌های ممنوع	حریم	ردیف
	بیرونی	۱
	میانی	۲
	داخلی	۳

منابع خاک

در کتاب‌های درسی علوم تجربی آموختید که خاک، حاصل هوازگی و خرد شدن سنگ‌ها است (شکل ۹-۳). خاک، محیط مناسبی برای کشت گیاهان و محلی برای زندگی برخی موجودات زنده است. خاک به‌عنوان سطحی‌ترین قشر زمین و بستر تولید محصول کشاورزی شناخته می‌شود که به‌طور دائمی در معرض تغییرات فیزیکی، شیمیایی و زیستی است.



شکل ۹-۳- خرد شدن سنگ‌ها

یادآوری

- در گذشته، با هوازگی و انواع آن آشنا شدید. در این باره به پرسش‌های زیر پاسخ دهید:
 - ۱- جنبه‌های مثبت و منفی هوازگی را بیان کنید.
 - ۲- عوامل مؤثر بر هوازگی فیزیکی و شیمیایی کدام‌اند؟
 - ۳- هر یک از تصاویر زیر، کدام نوع هوازگی را نشان می‌دهد؟



پ



ب




الف

خاک، از دو بخش آلی (هوموس) و معدنی تشکیل شده است. بخش معدنی، شامل برخی کانی‌ها مانند کانی‌های رسی و کوارتز که حاوی عناصری از قبیل نیتروژن، فسفر، کلسیم و... می‌باشد، البته عوامل تشکیل و ترکیب خاک‌ها، متغیر است و به عواملی مانند نوع سنگ مادر، شیب زمین، فعالیت جانداران و اقلیم منطقه بستگی دارد.

ذرات تشکیل دهنده خاک، برحسب اندازه، به سه دسته اصلی درشت دانه (خاک‌های شنی)، متوسط دانه (ماسه و لای) و ریزدانه (خاک‌های رسی) تقسیم می‌شوند. معمولاً خاک‌های طبیعی، ترکیبی از آنها است.

مقدار آبی که خاک‌ها می‌توانند از خود عبور دهند، بستگی به اندازه ذرات خاک دارد. هرچه ذرات خاک، ریزتر باشد، آب بیشتری را در خود نگه می‌دارد و مقدار کمتری را عبور می‌دهد. خاک رس، بسیار ریزدانه است، بنابراین فضای بین ذرات آن بسیار کوچک است به طوری که گردش آب و هوا به خوبی صورت نمی‌گیرد و برای رشد گیاهان مناسب نیست. در خاک‌های شنی، آب به راحتی از میان ذرات عبور می‌کند یعنی، زهکشی خوبی دارد، اما برای رشد گیاهان مناسب نمی‌باشد، چون آب و مواد مغذی را در خود نگه نمی‌دارد. مخلوط مناسب خاک ماسه‌ای و رسی و استفاده از کود مناسب یا گیاخاک، ترکیب مناسبی است که موجب حاصلخیزی خاک می‌شود. به طور کلی، خاک لوم که ترکیبی از ماسه، لای و رس است، خاک دلخواه کشاورزان و باغبان‌ها می‌باشد.

نیم رخ خاک: به مقطع عمودی خاک از سطح زمین تا سنگ بستر که افق‌های مختلف خاک در آن قابل مشاهده می‌باشد، نیم رخ خاک می‌گویند. معمولاً در نیم رخ خاک، افق‌های زیر وجود دارد (شکل ۱۰-۳).



شکل ۱۰-۳- افق‌های خاک و سنگ بستر

هیاوا! تخصصی ترین سایت مشاوره کشور

افق A، بالاترین لایه خاک است. ریشه گیاهان در آن رشد می کنند. این افق، معمولاً حاوی گیاخاک به همراه ماسه و رس است. وجود مواد آلی باعث رنگ خاکستری تا سیاه این افق می شود. در افق B یا خاک میانی، رس، ماسه، شن، املاح شسته شده از افق A و مقدار کمی گیاخاک وجود دارد. افق C، خاک زیرین است و در آن، مواد سنگی به میزان کم، تخریب و تجزیه شده اند، در نتیجه سنگ اولیه تغییر زیادی نکرده و به صورت قطعات خرد شده است. در زیر این افق، سنگ بستر قرار دارد که تخریب و یا تجزیه ای در آن صورت نگرفته است. اگرچه این افق ها در بسیاری از نیم رخ خاک ها مشاهده می شود ولی، خاک های مناطق مختلف از نظر رنگ، بافت، ضخامت و ترکیب شیمیایی متفاوت هستند. خاک حاصل از تخریب سیلیکات ها و سنگ های فسفاتی، از نظر کشاورزی و صنعتی ارزش زیادی دارد. در صورتی که خاک های حاصل از تخریب سنگ های دارای کانی های مقاوم (مانند کوارتز) که غالباً شنی و ماسه ای می باشند، فاقد ارزش کشاورزی هستند. در کشاورزی، خاکی را حاصلخیز می گویند که موجب رشد بیشتر گیاه شود. فرایند تشکیل خاک، بسیار کند است. در شرایط طبیعی، به طور میانگین ۳۰۰ سال زمان لازم است تا خاکی به ضخامت ۲۵ میلی متر تشکیل شود.

فکر کنید

• درباره خاک مناطق مختلف آب و هوایی، جدول زیر را با کلمات (کم، زیاد) کامل کنید.


ضخامت خاک	مقدار گیاخاک	خاک مناطق
	زیاد	معتدل
زیاد		استوایی
	کم	قطبی
کم		بیابانی

• بیشترین محصولات کشاورزی از مناطق معتدله به دست می آید. علت این امر چیست؟

فرسایش: فرسایش، فرایندی مداوم است که طی آن، ذرات خاک از بستر اصلی خود جدا و به کمک عوامل انتقال دهنده به مکان دیگری حمل می شود. فعالیت های انسانی آن را کاهش یا افزایش می دهد اما نمی تواند آن را کاملاً متوقف کند. مقدار فرسایش پذیری خاک، معمولاً در ایام مختلف سال، ثابت نیست.

فرسایش به طور طبیعی و توسط عواملی مانند آب های جاری، باد، یخچال، نیروی جاذبه و آب های زیرزمینی و بدون دخالت انسان و به آرامی، یا با سرعت زیاد انجام می شود. فعالیت های انسانی مانند کشاورزی، معدن کاری، جاده سازی و سایر فعالیت های عمرانی، فرسایش طبیعی را تشدید می کنند. افزون بر انسان، سایر جانداران نیز، در افزایش این فرسایش ها نقش دارند.

- در هر یک از تصاویر زیر، که نمونه‌هایی از فرسایش زمین را نشان می‌دهد، کدام عامل فرسایشی، دخالت بیشتری دارد؟



الف



ب

گفت و گو کنید

• درباره نقش فعالیت‌های انسان در افزایش و کاهش فرسایش خاک گفت و گو کنید.



شکل ۱۱-۳- فرسایش خندقی

فرسایش آبی: در نقاطی که آب بر روی خاک بدون پوشش، در جریان باشد، مقداری از ذرات خاک از بستر، جدا و با آب حمل می‌شوند. مهم‌ترین ویژگی بارندگی که در فرسایش زمین مؤثر می‌باشد، شدت و مدت بارش است. هنگامی که جریان آب، شدت پیدا کند، باعث فرسایش خندقی و از بین رفتن زمین‌های بارز کشاورزی می‌شود. پیدایش خندق‌ها، علاوه بر آنکه از ارزش زمین‌های کشاورزی می‌کاهد، باعث تخریب جاده‌ها، پل‌ها و ساختمان‌ها می‌شود. در اغلب شرایط می‌توان با ساخت کانال و ایجاد پوشش گیاهی، انرژی جریان آب را کاهش داد (شکل ۱۱-۳).

فکر کنید

• هر یک از پیامدهای زیر، در محل زندگی شما مربوط به کدام نوع بارندگی (آرام و کوتاه - آرام و طولانی - شدید و کوتاه - شدید و طولانی) است؟
نفوذ آب به آبخوان - فرسایش خاک - وقوع سیل - ایجاد رواناب

قدرت فرساینده‌ی رواناب، بستگی به سرعت و میزان مواد معلق موجود در رواناب دارد. هر چه سرعت رواناب و جرم و میزان مواد معلق بیشتر باشد، انرژی جنبشی آب، و در نتیجه، قدرت فرساینده‌ی آن بیشتر می‌شود. قدرت فرساینده‌ی آب خالص، کمتر از آب دارای مواد معلق است. وقتی میزان مواد معلق، بیشتر از توان حمل رواناب باشد و یا از سرعت آب جاری کاسته شود، رسوب‌گذاری رود شروع می‌گردد.

جمع‌آوری اطلاعات


در مورد فرسایش خاک و عوامل مؤثر بر آن، اطلاعاتی جمع‌آوری کنید و به پرسش‌های زیر پاسخ دهید.

- ۱- برای افزایش نفوذپذیری خاک، به منظور کاهش رواناب، چه اقدامی می‌توان انجام داد؟
- ۲- آتش‌زدن زمین‌های کشاورزی، پس از برداشت محصول، چه تأثیری بر فرسایش خاک دارد؟

فرسایش خاک، باعث کاهش سطح زیر کشت و کاهش حاصلخیزی زمین‌ها می‌شود. همچنین با ته‌نشینی مواد در آبراهه‌ها و مخازن سدها و کاهش ظرفیت آب‌گیری آنها، خسارت‌های فراوانی را ایجاد می‌کند.

● به علت بهره‌برداری غیر اصولی و نادرست بشر تاکنون، میلیون‌ها هکتار از جنگل‌ها، مراتع و زمین‌های کشاورزی به زمین‌های بایر تبدیل شده است، فرسایش انسانی، یکی از مشکلات جهانی است. طبق تخمین سازمان خواربار جهانی (فائو) هر سال بیش از ۷۵ میلیارد تن خاک از سطح خشکی‌ها فرسایش می‌یابد. در کشور ما، آثار و علائم فرسایش در اکثر نقاط دیده می‌شود.

حفاظت آب و خاک: آب و خاک برای هر کشور، به عنوان سرمایه‌های ارزشمند، اهمیت فراوان دارد زیرا، آب و خاک از عوامل ضروری برای رشد گیاه و افزایش محصولات کشاورزی، باغی و جنگلی است. حفاظت از منابع آب به منظور استفاده بهینه از این منابع و رسیدن به توسعه پایدار است. حفاظت آب و خاک در جلوگیری از آلودگی هوا و فرسایش خاک، تأثیر فراوانی دارد. هدف از حفاظت خاک، جلوگیری از تخریب تدریجی خاک است. زمانی این هدف تحقق می‌یابد که سرعت فرسایش خاک، کمتر از سرعت تشکیل آن باشد.



● **هیدروژئولوژی:** مطالعه در زمینه چگونگی حرکت آب در درون زمین، اکتشاف و شناخت ویژگی‌های آب‌های زیرزمینی، نحوه بهره‌برداری و فعالیت‌های عمرانی و معدنی مرتبط با آب‌های زیرزمینی در علم هیدروژئولوژی انجام می‌شود.

● **رسوب‌شناسی:** مواد حاصل از فرسایش کوه‌ها

توسط عوامل فرسایشی همچون آب، باد و یخ به مناطق پست یا حوضه رسوبی انتقال یافته و در آنجا بر روی هم انباشته می‌شوند. این مواد، پس از سخت شدن، به سنگ‌های رسوبی تبدیل می‌شوند. در رسوب‌شناسی و سنگ‌شناسی رسوبی، فرایندهای انتقال، ته‌نشینی و تبدیل رسوبات به سنگ‌های رسوبی مطالعه می‌شود.

متخصصین این رشته در سازمان‌ها و شرکت‌های تابعه وزارت نیرو، وزارت جهاد کشاورزی، صنعت، معدن و تجارت، سازمان محیط زیست، شرکت‌های مهندسی مشاور مرتبط با تأمین و انتقال



فرسایش زمین و تشکیل دره توسط آب و باد

آب، سدسازی و تونل‌سازی، وزارت راه و شهرسازی، شهرداری‌ها و... می‌توانند در هدایت پروژه‌های عمرانی و پژوهشی کمک شایانی داشته باشند.

علم،
زندگی،
کار آفرینی



دریاچه پشت سد کارون - ۳

۴ فصل

زمین شناسی و سازه‌های مهندسی

انسان از گذشته‌های دور، بناهایی ساخته است که هنوز هم پس از گذشت هزاران سال، باقی مانده‌اند. ستون‌های بزرگ تخت‌جمشید، بناهای چغازنبیل، اهرام مصر، دیوار چین و قنات‌های باستانی با وجود گذشت سال‌ها، هنوز هم پابرجا هستند و دانش مهندسی را در عهد باستان نشان می‌دهند. به‌راستی، چه عواملی باعث شده است تا این بناها همچنان پابرجا بمانند؟ در ساخت آنها، از چه مصالحی استفاده شده است؟ جاده‌ها، راه‌آهن، پل‌ها، تونل‌ها، خطوط انتقال نفت، گاز و آب، سدها، کارخانه‌ها، ساختمان‌های بلند، برج‌های مخابراتی مانند برج میلاد و همه سازه‌های مهندسی، از موادی ساخته می‌شوند که از زمین به دست می‌آیند.

بارها در رسانه‌ها، اخبار مربوط به انواع ریزش سنگ در جاده‌های کوهستانی، تخریب ساختمان‌ها و سازه‌های سنگین به دلیل گودبرداری، ریزش تونل‌ها، فرار آب از سدها و تخریب بدنه آنها، ریزش پل‌ها و ... را شنیده‌اید.

یکی از مسائل اصلی در ساخت و نگهداری سازه‌ها، پایداری زمین است. در ساخت سازه‌ها، مسائل مختلف زمین‌شناسی مطرح است که باید مورد مطالعه قرار گیرد. یکی از وظایف مهم زمین‌شناس، تشخیص احتمال وقوع فرایندهای مخرب و ارائه روش‌های مقابله با آنها است به نحوی که، آسیبی به تأسیسات و سازه‌های مهندسی وارد نشود.

هیاوا! تخصصی ترین سایت مشاوره کشور



سکوی نفتی - خلیج فارس



تونل نیایش - تهران

مکان یابی سازه‌ها

قبل از اجرای پروژه‌های عمرانی مانند سد، نیروگاه، بزرگراه، پل، مجتمع‌های تجاری و مسکونی، برج‌ها و ... که سازه نامیده می‌شوند، انجام مطالعات زمین‌شناسی سنگ بستر آنها، ضروری است. در این مطالعات، ناهمواری‌های سطح زمین، استحکام سنگ‌ها، نفوذپذیری، پایداری دامنه‌ها در برابر ریزش و جنس مصالح به کار رفته در سازه مورد بررسی قرار می‌گیرد. مورفولوژی (شکل‌شناسی) و پستی و بلندی‌های محل احداث سازه، در پایداری آن تأثیر قابل توجهی دارد.



● در شکل روبه‌رو، با توجه به مورفولوژی منطقه، کدام محل را برای ساخت یک پل بر روی دره پیشنهاد می‌کنید؟

بیشتر
بیندیشید

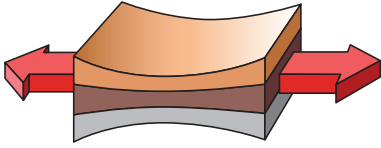
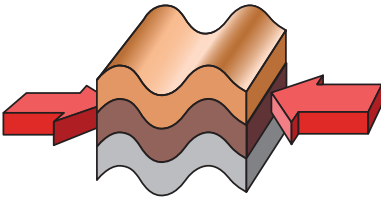

یکی از عوامل مهم در مکان‌یابی ساختگاه سازه‌ها، مقاومت زمین پی آنها در برابر نیروهای وارده است. به عنوان مثال، در پشت یک سد، فشار زیادی از طرف آب به لایه‌های زیرین، تکیه‌گاه و همچنین بدنه سد، وارد می‌شود. سد نیز، وزن زیادی دارد که گاه به چندین میلیون تن می‌رسد. بنابراین، سنگ‌های پی سد، باید در برابر تنش‌های ناشی از وزن سد، مقاوم باشند و دچار گسیختگی و نشست نشوند.

تنش

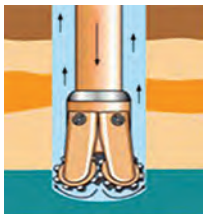
هرگاه سنگ، تحت تأثیر نیرویی از خارج قرار گیرد، در داخل سنگ نیز، نیرویی بر واحد سطح وارد می‌شود که تنش نامیده می‌شود. تنش‌های وارده بر یک سنگ یا خاک، ممکن است به صورت کششی، فشاری یا برشی یا ترکیبی از آنها باشند. تنش‌های وارده بر سنگ‌ها و خاک‌ها، باعث تغییر شکل آنها می‌شود.

$$\text{تنش} = \frac{\text{نیرو (N)}}{\text{سطح (m}^2\text{)}}$$

جدول ۱-۴- انواع تنش

تغییر شکل	اثر بر روی سنگ	نوع تنش
	گسستگی سنگ	کششی
	متراکم شدن سنگ	فشاری
	بریدن سنگ	برشی

مقاومت سنگ، عبارت است از حداکثر تنش یا ترکیبی از تنش ها که سنگ می تواند تحمل کند، بدون آنکه بشکند. هر چه مقاومت سنگ، در مقابل این تنش ها، کمتر باشد، سنگ ناپایدارتر است و سطوح شکست بیشتری در آن ایجاد می شود. از این رو، شکستگی سنگ ها و ایجاد درزه ها، باعث ناپایداری سنگ یا خاک در پی سازه ها می شوند. در مطالعات آغازین یک پروژه، به منظور نمونه برداری از خاک یا سنگ پی سازه، گمانه ها یا چال های باریک و عمیقی در نقاط مختلف محل احداث سازه حفر می شود. نمونه های سنگ یا خاک برداشت شده، به آزمایشگاه های تخصصی ارسال می شود و مقدار مقاومت سنگ و خاک در برابر تنش های وارده را مورد بررسی قرار می دهند (شکل ۱-۴).



پ) سرمته حفاری



ب) دستگاه حفاری گمانه



الف) مغزه گیری با گمانه های اکتشافی

شکل ۱-۴

مواد جامد بر اثر تنش، تغییر شکل می دهند. مقدار و نوع تغییر شکل ایجاد شده، به رفتار آنها در برابر تنش بستگی دارد (شکل ۲-۴).



پ) شکننده



ب) خمیرسان



الف) کش سان

شکل ۲-۴

برخی از اجسام، مانند سنگ‌ها از خود رفتار کش سان (الاستیک) نشان می دهند. بدین معنی که با اعمال تنش، سنگ‌ها دچار تغییر شکل می شوند و با رفع تنش، به حالت اولیه خود بازمی گردند. اما، اگر تنش از حد مقاومت سنگ بیشتر شود، سنگ دچار شکستگی می شود و درزه‌ها و گسل‌ها را به وجود می آورد. برخی از سنگ‌ها از خود رفتار خمیرسان (پلاستیک) نشان می دهند یعنی، پس از رفع تنش، سنگ‌های تغییر شکل یافته، به طور کامل به حالت اولیه خود بر نمی گردند.



ب) رفتار شکننده سنگ‌ها



الف) رفتار پلاستیک سنگ‌ها

شکل ۳-۴ انواع رفتار سنگ‌ها در برابر تنش

مقاومت انواع سنگ‌ها در برابر تنش وارده، متفاوت است. سنگ‌های آذرین، می توانند تکیه گاه مناسبی برای سازه‌ها باشند؛ مانند پی سنگ سد امیر کبیر که از جنس سنگ گابرو است. بعضی از سنگ‌های دگرگونی، مانند کوارتزیت و هورنفلس که مقاومت بیشتری دارند، می توانند تکیه گاه مناسبی برای سازه‌های سنگین باشند و برخی دیگر از آنها مانند شیست‌ها که سست و ضعیف هستند، برای پی‌سازه‌ها مناسب نیستند. برخی از سنگ‌های رسوبی، مانند ماسه سنگ‌ها، استحکام لازم برای ساخت سازه را دارند اما، سنگ‌های تبخیری مانند سنگ گچ، ژیس نمک (به دلیل انحلال پذیری) و شیل‌ها (به دلیل تورق و سست بودن) در برابر تنش مقاوم نیستند.

نفوذپذیری

یکی دیگر از عوامل مؤثر در مکان یابی سازه‌ها، نفوذپذیری خاک و سنگ است. سنگ‌های کربناتی، به سنگ‌های رسوبی گفته می شود که بیش از ۵۰ درصد آنها کانی‌های کربناتی (کلسیت و دولومیت) باشد. این سنگ‌ها، اغلب درزه دار هستند. با گذشت زمان و در جریان آب‌های نفوذی، بخش‌هایی از این سنگ‌ها در آب، حل و در آن حفره‌هایی تشکیل می دهند. پیشرفت عمل انحلال، ممکن است منجر به تشکیل حفره‌های انحلالی بزرگ در این سنگ‌ها و ایجاد غارها شود (شکل ۴-۴).

هیاوا! تخصصی ترین سایت مشاوره کشور



ب) تشکیل حفره‌های انحلالی



الف) کارستی شدن

شکل ۴-۴

سنگ آهک ضخیم لایه که فاقد حفرات انحلالی باشد، پی و تکیه‌گاه خوبی برای احداث سازه می‌باشد اما، در صورتی که سنگ آهک، دارای حفرات انحلالی باشد، می‌تواند مشکلات جدی از قبیل فرار آب یا نشست زمین را به همراه داشته باشد. انحلال پذیری سنگ‌های تبخیری (سنگ گچ و سنگ نمک)، بیش از سنگ‌های آهکی است. بنابراین حفره‌ها و غارهای انحلالی در این سنگ‌ها، سریع‌تر از دیگر سنگ‌ها ایجاد می‌شود. اگر سد بر روی لایه‌هایی از سنگ گچ احداث شود، ممکن است پس از چند سال، حفرات انحلالی در سنگ، ایجاد و باعث فرار آب از مخزن سد و همچنین ناپایداری بدنه سد شود.

مکان مناسب برای ساخت سد

سد، سازه‌ای است که به منظور ذخیره آب، مهار سیلاب، تأمین آب شرب و کشاورزی و همچنین تولید نیروی الکتریسیته احداث می‌شود. بعضی از سدها چند منظوره‌اند، یعنی به طور هم زمان چند هدف را تأمین می‌کنند. سدها، از نظر نوع مصالح ساختمانی به کار رفته، به دو دسته خاکی و بتنی تقسیم می‌شوند. مهم‌ترین عامل در تعیین نوع سد و محل احداث آن، شرایط زمین‌شناسی منطقه و مصالح مورد نیاز است.

● در مورد نزدیک‌ترین سد به محل سکونت خود، اطلاعاتی جمع‌آوری کنید و به موارد زیر

پاسخ دهید:

۱- هدف از احداث سد

۲- نوع سد

۳- جنس سنگ پی سد



جمع‌آوری اطلاعات

هیاوا! تخصصی ترین سایت مشاوره کشور

در مطالعات زمین شناسی سد، وضعیت مخزن، تکیه گاه ها و پی سد (شکل ۴-۵) از نظر پایداری و فرار آب مورد بررسی قرار می گیرد. برای آنکه فرار آب از مخزن سد صورت نگیرد باید دیواره ها و کف مخزن نفوذناپذیر باشند یا از نفوذپذیری بسیار کمی برخوردار باشند.



شکل ۴-۵- نمایی از بخش های مختلف یک سد

بیشتر بدانید

● سد کریت (کوریت)، یک سد تاریخی است که در شهرستان طیس و در کیلومتر ۵۶ جاده طیس-دیپوک واقع شده است. این سد که در سال ۷۲۹ شمسی احداث شده، با ارتفاع ۶۰ متر، تا اوایل قرن بیستم، بلندترین سد جهان بوده است.

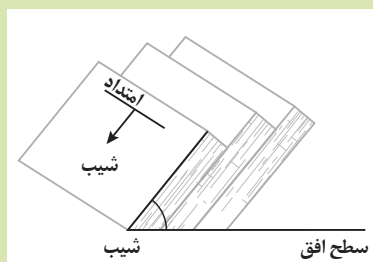
این سد، بزرگ ترین سد قوسی جهان به مدت ۵۵۰ سال بوده است. نکته جالب تر آنکه این سد، با عرض تاج یک متر، هنوز هم عنوان نازک ترین سد جهان را دارد.

آجرهای مربعی شکل، سنگ و ساروج، آهک و خاک رس، از عمده ترین مصالح به کار رفته در ساخت سد است.



با هم بیندیشید


● برای بررسی موقعیت لایه ها از مشخصات امتداد و شیب استفاده می شود.




امتداد لایه عبارت است از محل برخورد سطح لایه با سطح افق و با جهت جغرافیایی بیان می شود. شیب لایه، مقدار زاویه ای

است که سطح لایه با سطح افق می سازد.


● شرایط مختلفی از وضعیت شیب و امتداد لایه های سنگی و موقعیت انتخابی برای ساختگاه سد، در شکل زیر نمایش داده شده است. با در نظر گرفتن فرار آب و پایداری بدنه سد، حالت مطلوب و حالت نامطلوب را برای احداث سد مشخص کنید.




(پ)



(الف)



(ت)



(ب)

● قرار گرفتن سنگ های تبخیری مانند لایه های نمک در محدوده دریاچه سدها، معمولاً باعث تغییر نامطلوب کیفیت آب مخزن می شود. در سال های اخیر، وجود لایه های گچی و نمکی در محدوده مخزن چند سد، باعث مشکلاتی در کیفیت آب مخزن آنها شده است.

هیوا! تخصصی ترین سایت مشاوره کشور

جمع‌آوری اطلاعات

- در مورد علت فرار آب از مخزن سد لار اطلاعات جمع‌آوری کنید و در کلاس ارائه دهید.

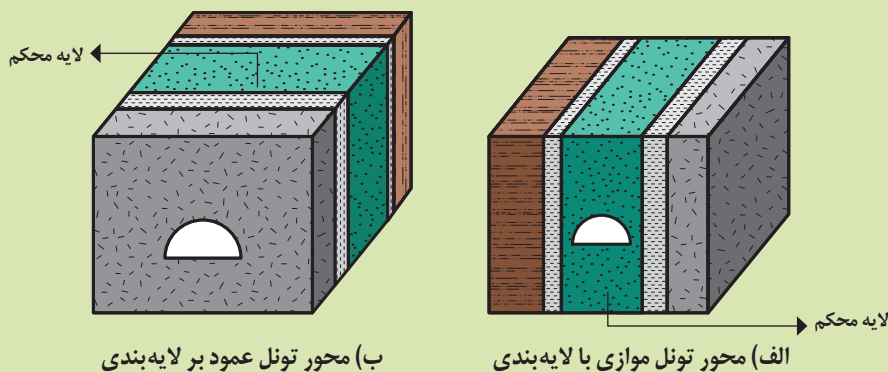
رسوباتی که از طریق رودها به مخزن سدها حمل می‌شوند، به تدریج از ظرفیت مخزن می‌کاهند. بعضی از سدهای کشور، بر اثر انباشته شدن از رسوبات، بخش قابل توجهی از کارایی خود را از دست داده‌اند. برای رفع این مشکل، در فواصل زمانی لازم عمل لایروبی صورت می‌گیرد.

مکان مناسب برای ساخت تونل و فضاهای زیرزمینی

برخی از فعالیت‌های عمرانی و معدنی در زیر زمین صورت می‌گیرد. این فعالیت‌ها، نیاز به فضای زیرزمینی دارد. حفاری‌های زیرزمینی به صورت تونل و مغار است. تونل‌ها، به منظور حمل و نقل، انتقال آب، انتقال فاضلاب یا استخراج مواد معدنی مورد استفاده قرار می‌گیرند. مگاره‌ها، فضاهای زیرزمینی بزرگ تری هستند که برای ایجاد تأسیسات زیرزمینی مانند نیروگاه‌ها، ایستگاه‌های مترو، ذخیره نفت و یا موارد دیگر استفاده می‌شوند.

این گونه سازه‌ها، باید در زمین‌هایی با مقاومت کافی احداث شوند. بنابراین زمین‌شناس، باید مطالعات خود را بر شناسایی مناطقی با کمترین خردشدگی، هوازدگی یا نشست آب، متمرکز کند.

- با توجه به شکل‌های زیر، احداث تونل در کدام مناسب‌تر است؟ دلیل خود را بیان کنید.



با هم
بندیشید

کاوش کنید

- دلیل ناپایداری تونل در زیر سطح ایستایی را بررسی کنید.

وجود آب‌های زیر زمینی، بر ایمنی و پایداری سازه‌های سطحی مانند سدها و سازه‌های زیرزمینی مانند تونل‌ها در زمان ساخت و بهره‌برداری مؤثرند. جریان و فشار آب زیرزمینی، از عوامل مهم ناپایداری تونل‌ها و فضاهای زیرزمینی است. بخش بزرگی از مشکلات و خسارت‌ها در پروژه‌های

هیوا! تخصصی ترین سایت مشاوره کشور

عمرانی و معدنی، ناشی از برخورد با آب‌های زیرزمینی بوده است، در برخی موارد، پروژه‌هایی به علت این مشکلات، تکمیل نشده و متوقف شده‌اند. بنابراین، برآورد میزان و کنترل جریان آب زیرزمینی در تونل‌ها، ترانشه‌ها (شکل ۴-۶ الف) و زمین زیر سازه و حتی درون سازه‌هایی مانند سدها، بسیار مهم است. به طور کلی، تونل‌هایی که در بالای سطح ایستابی قرار می‌گیرند، از پایداری بیشتری برخوردار هستند. در شرایطی که سنگ‌های داخل تونل از نظر پایداری و نشست آب، وضعیت مطلوبی نداشته باشند، دیواره و سقف تونل با محافظی از بتن یا سایر مصالح پوشیده می‌شود (شکل ۴-۶ ب).



ب) پوشش داخلی تونل به وسیله قطعات بتن



الف) ترانشه

شکل ۴-۶

مکان مناسب برای ساخت سازه‌های دریایی

همیشه سازه‌ها بر روی خشکی بنا نمی‌شوند. کشور ما از جنوب و شمال به دریا منتهی می‌شود. از سوی دیگر، بخشی از ذخایر عظیم نفت ایران از بستر دریا استخراج می‌شوند. سازه‌های دریایی، مانند اسکله‌ها، پایانه‌های نفتی، تونل‌های زیردریایی، پل‌ها و جاده‌ها، در سواحل دریا یا در دریا احداث می‌شوند (شکل ۴-۷). در شمال و جنوب ایران، سازه‌های دریایی فراوانی احداث شده‌اند. در مکان‌یابی این سازه‌ها مانند سازه‌های خشکی، باید مطالعات زمین‌شناسی به طور ویژه مورد توجه قرار گیرد. افزون بر آن، توجه به جریان‌های دریایی و ویژگی‌های فیزیکی و شیمیایی آب دریا نیز ضروری می‌باشد.



ب) پل دریایی در ژاپن

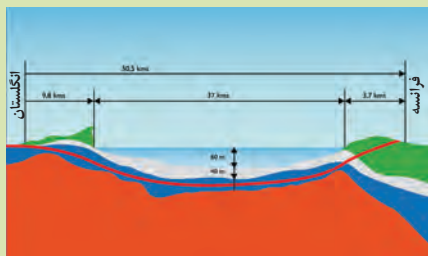


الف) پایانه نفتی خارک

شکل ۴-۷

۱- ترانشه (ژرف ناوه): به فرورفتگی مصنوعی یا طبیعی در سطح زمین گفته می‌شود که ژرفای آن از پهنایش بیشتر (طول و عمیق) است. برای اهدافی مانند انتقال آب، جاده‌سازی، قرار دادن لوله‌های نفت و... احداث می‌شود.

بیشتر بدانید



● تونل/کانال مانس با بیش از ۵۰ کیلومتر طول که بندر پادو کاله فرانسه را به شهرک فوکستون انگلستان متصل می کند، در زیر بستر دریا حفر شده است.

این تونل ۴۰ متر پایین تر از کف دریا (بیش از ۱۰۰ متر پایین تر از سطح تراز دریا) ساخته شده است. ساخت این تونل زیر آبی، مدت زمان مسافرت از پاریس به لندن را کاهش داده است. تونل مانس که به آن تونل کانال نیز گفته می شود، انگلستان را از طریق خشکی به دیگر کشورهای اروپایی متصل کرده است. مانس که انجمن مهندسان عمران امریکا آن را یکی از عجایب هفت گانه دنیای مدرن نامیده است، دارای دو خط ریلی و یک تونل جانبی برای خودروها است. این پروژه در زمان اجرا، با صرف ۲۲/۵ میلیارد دلار، پرهزینه ترین طرح مهندسی تاریخ به شمار می رفت.

پایداری سازه ها



(الف)



(ب)

شکل ۸-۴- پایدارسازی شیب به روش (الف) دیوار حائل، (ب) دیوار حائل گابیونی (تور سنگی)

کشور ما، در یکی از کمربندهای لرزه خیز جهان واقع شده است و گسل های فعال در بیشتر مناطق آن وجود دارند. این گسل ها و زمین لرزه های احتمالی می توانند پایداری سازه های مختلف را تهدید کنند. از این رو زمین شناسان، در مطالعات مکان یابی سازه ها با استفاده از عکس های هوایی و ماهواره ای و بازدیدهای صحرائی، این گسل ها را شناسایی می کنند و با استفاده از داده های ثبت شده توسط دستگاه های لرزه نگاری و اطلاعات تاریخی زمین لرزه ها، احتمال فعالیت مجدد گسل ها و وقوع زمین لرزه و تأثیر آن بر سازه ها را مشخص می کنند. این اطلاعات در اختیار مهندسان عمران قرار می گیرد تا طراحی سازه را بر آن اساس انجام دهند. افزون بر این، پایداری محل احداث سازه در برابر **حرکات دامنه ای**^۱ از مواردی است که در مطالعات مکان یابی سازه ها، مورد توجه زمین شناسان است.

یکی از خطراتی که سازه ها را در مناطق شیب دار و کوهستانی تهدید می کند، خطر ریزش کوه و سقوط مواد در دامنه های پر شیب است. هر ساله اخبار زیادی مبنی بر ریزش کوه و مسدود شدن جاده ها و خطوط ریلی مناطق کوهستانی می شنویم. امروزه، با اقداماتی مانند ایجاد انواع دیوار حائل، زهکشی برای تخلیه آب اضافی، ایجاد پوشش گیاهی و میخ کوبی، دامنه ها را پایدار می کنند. (شکل ۸-۴)

۱- حرکات دامنه ای شامل: ریزش، لغزش، خزش، جریان گلی و ... است.

هیوا! تخصصی ترین سایت مشاوره کشور

لغزش و سقوط توده‌های بزرگ سنگ و خاک در دیواره مخزن سدها، تا به حال، باعث خرابی‌های عمده‌ای در سدهای بزرگ جهان شده است.


لغزش توده‌های سنگ و خاک، افزون بر ایجاد امواج خطرناک در مخزن، باعث کاهش ظرفیت و عمر مفید مخزن می‌شود. با انتخاب محل مناسب برای ایجاد سد و پایدارسازی دیواره‌های مخزن سد، می‌توان از چنین اتفاقاتی جلوگیری کرد.

جمع‌آوری اطلاعات

- در پایداری دامنه‌ها، پوشش گیاهی، تأثیر مثبت و منفی دارد. در این باره اطلاعاتی جمع‌آوری و در کلاس ارائه کنید.

گفت‌وگو کنید

- یکی از روش‌های پایدارسازی دامنه‌ها و ترانشه‌ها، میخ‌کوبی است که در شکل زیر نشان داده شده است. در مورد این روش‌ها در کلاس بحث کنید.



پایدارسازی شیب به روش میخ‌کوبی

مصالح مورد نیاز برای احداث سازه‌ها

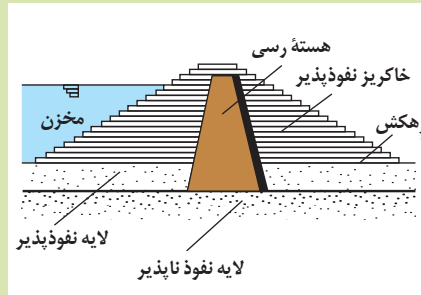
در احداث سازه‌ها، از مواد سازنده زمین، مانند خاک، شن، ماسه و سنگ استفاده می‌شود. مواد مورد نیاز برای هر سازه، باید دارای مقاومت، نفوذپذیری و اندازه دانه‌های مشخصی باشد که توسط آزمایش‌های لازم در آزمایشگاه‌های مکانیک خاک و سنگ مشخص می‌شوند.

مصالح به کار رفته در سازه‌های مختلف، متفاوت است؛ به عنوان مثال در سدهای بتنی از سیمان، ماسه، شن، میلگرد و در سدهای خاکی از خاک رس، ماسه، شن و قلوه سنگ استفاده می‌شود.

● به چه دلیل از هسته رسی برای ساخت سدهای خاکی استفاده می‌شود؟



سد خاکی



هسته رسی یک سد خاکی

رفتار خاک‌ها و سنگ‌ها در سازه‌ها

طبقه‌بندی مهندسی خاک‌ها، بر مبنای دانه‌بندی، درجه خمیری بودن و مقدار مواد آلی آنها انجام می‌شود. بر مبنای دانه‌بندی، خاک‌ها به دو دسته ریزدانه و درشت دانه تقسیم می‌شوند. در خاک‌های ریزدانه، مانند رس و لای، اندازه ذرات، کوچک‌تر از 0.075 میلی‌متر و در خاک‌های درشت دانه، مانند ماسه و شن، اندازه ذرات، بزرگ‌تر از 0.075 میلی‌متر است. از خاک‌های دانه ریز و دانه درشت، در بسیاری از سازه‌ها مانند بدنه سدهای خاکی، زیرسازی جاده‌ها و باند فرودگاه‌ها استفاده می‌شود. پایداری خاک‌های ریزدانه، به میزان رطوبت آنها بستگی دارد. هر چقدر رطوبت خاک‌های ریز دانه بیشتر باشد، پایداری آنها کمتر می‌شود. اگر رطوبت در این خاک‌ها، از حدی بیشتر شود، خاک به حالت خمیری در می‌آید و تحت تأثیر وزن خود روان می‌شود. لغزش خاک‌ها در دامنه‌ها و ترانشه‌ها، به‌ویژه در ماه‌های مرطوب سال، ناشی از این پدیده است (شکل ۹-۴).



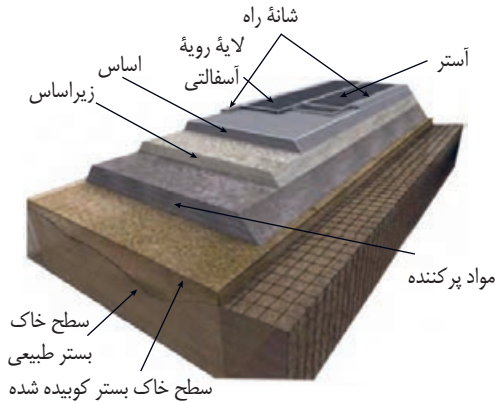
مشاهده کنید

● یک کلوخ را روی سطح صافی قرار دهید و به تدریج روی آن آب بریزید و رطوبت آن را به تدریج افزایش دهید. تغییر شکل آن را در مراحل مختلف مشاهده کنید.

شکل ۹-۴- زمین لغزش در یک جاده

کاربرد مصالح خاک و خرده سنگی در راه سازی

سطح طبیعی زمین، برای رفت و آمد وسایل نقلیه مناسب نیست زیرا، در مقابل عوامل جوی مانند بارش، تغییرات دما و نیروهای وارده از چرخ خودروها مقاومت کافی ندارد، به همین دلیل برای احداث جاده از مصالح خاک در بخش زیرسازی و روسازی استفاده می شود که هر کدام از دو بخش تشکیل شده است. زیرسازی از دو بخش زیر اساس و اساس و روسازی از دو بخش آستر و رویه تشکیل می شود (شکل ۴-۱۰).



ب) بخش زیر اساس و اساس



شکل ۴-۱۰

در بخش زیر اساس که به عنوان لایه زهکش عمل می کند، از مخلوط شن و ماسه یا سنگ شکسته استفاده می شود. لایه های آستر و رویه که بایستی مقاوم باشند، از جنس آسفالت می باشند که مخلوطی از شن، ماسه و قیر است. یکی از کاربردهای مصالح خرده سنگی، در زیر سازی و تکیه گاه ریل های راه آهن است. این قطعات سنگی یا **بالاست**، علاوه بر نگهداری ریل ها و توزیع بار چرخ ها، عمل زهکشی را نیز به عهده دارند. بالاست مورد نیاز خطوط راه آهن، معمولاً از خرد کردن سنگی که از معدن استخراج می شود، به دست می آید (شکل ۴-۱۱).



شکل ۴-۱۱- بالاست در زیر سازی جاده ریلی

• زمین شناسی مهندسی: شاخه‌ای از زمین شناسی است که رفتار و ویژگی‌های مواد سطحی زمین از نظر مقاومت در برابر فشارهای وارده و امکان ساخت یک سازه را در محلی خاص از زمین بررسی می‌کند. این علم، نقش بسیار مهمی در انتخاب مناسب‌ترین محل، برای ساخت سازه‌ها دارد.

متخصصین زمین شناسی مهندسی، در سازمان زمین شناسی و اکتشافات معدنی کشور، آزمایشگاه‌های مکانیک خاک و سنگ، وزارت نیرو، وزارت راه و شهرسازی، صنعت، معدن و تجارت و شهرداری‌ها، می‌توانند نقش مهمی در هدایت پروژه‌های عمرانی داشته باشند.





فصل ۵

زمین شناسی و سلامت

شاید در نگاه اول، ارتباطی بین زمین شناسی و سلامت انسان و علم پزشکی دیده نشود، اما وقتی بدانیم منشأ آبی که می نوشیم، غذایی که می خوریم و هوایی که تنفس می کنیم از زمین است، بهتر می توانیم این ارتباط را درک کنیم. بیشتر عناصری که در محیط زیست وجود دارند، از سنگ کره منشأ می گیرند. این عناصر بر اثر فرایندهای مختلف و از طریق خاک، آب و هوا وارد چرخه طبیعت می شود. آیا تاکنون به این فکر کرده اید که از طریق آب، غذا و هوا چه مواد و عناصری وارد بدن شما می شود؟ آیا می دانید این مواد می توانند چه اثرات مثبت یا منفی بر بدن شما داشته باشند؟ این مواد از کجا آمده اند؟

هیاوا! تخصصی ترین سایت مشاوره کشور



کانی رالگار (AsS) - سمی



کانی فلوئوریت (CaF₂)



کانی اورپیمان (As₂S₃) - سمی



کانی هالیت (NaCl)

زمین شناسی پزشکی

منشأ همهٔ عناصر سازنده بدن انسان و سایر جانداران، از زمین است. به عبارتی این عناصر، زمین زاد هستند. اگر مقدار این عناصر به دلایلی در بدن، کم یا زیاد شود، سلامت انسان به خطر می افتد. تأثیر مواد زمین بر تندرستی انسان، از هزاران سال پیش شناخته شده است. در متون قدیمی پزشکی چینی، ارتباط زمین و سلامت انسان یادآوری شده است. در ایران، دانشمندانی مانند ابوریحان بیرونی، ابن سینا و خواجه نصیرالدین طوسی در کتاب‌های خود به فواید برخی از سنگ‌ها و کانی‌ها برای درمان بیماری‌ها اشاره کرده‌اند. از مدت‌ها پیش مشخص شده بود که برخی بیماری‌ها در مناطق خاصی از زمین، شیوع بیشتری دارند. دانشمندان با آگاهی از ارتباط بین زمین و سلامتی، میان رشته جدیدی به نام زمین شناسی پزشکی را به شاخه‌های علم زمین شناسی افزودند تا نقش و تأثیر عناصر و کانی‌ها که از طریق هوا، آب و غذا، وارد بدن ما و دیگر موجودات زنده می‌شوند، را مطالعه کنند. زمین شناسی پزشکی، یک علم درمانی نیست؛ بلکه به دنبال بررسی عامل بیماری‌های زمین زاد است. بنابراین ارتباط نزدیکی با زیست‌شناسی، شیمی و شاخه‌های علم پزشکی دارد.

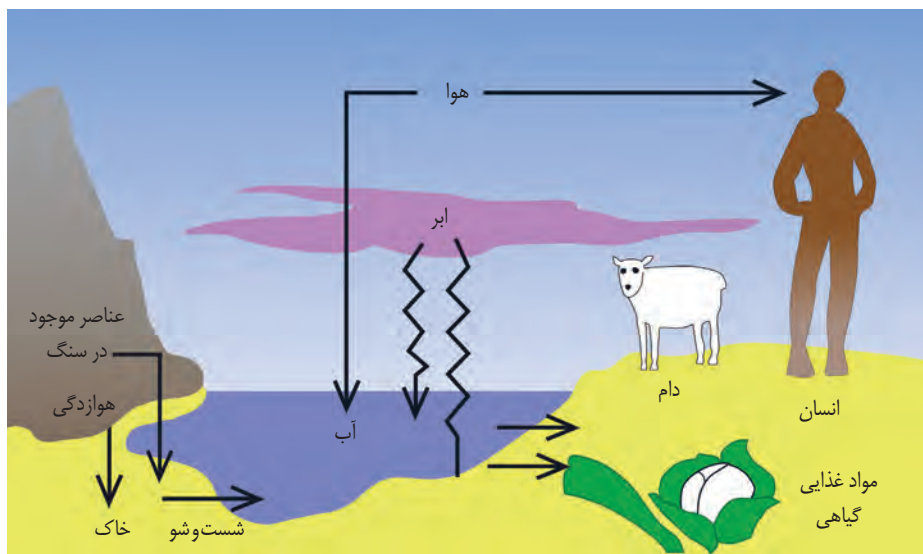
هیاوا! تخصصی ترین سایت مشاوره کشور

سنگ‌ها، بخش اساسی سازنده زمین هستند که از عناصر مختلف تشکیل شده‌اند. هوازدگی سنگ‌ها، باعث تشکیل خاک می‌شود. گیاهان بر روی خاک می‌رویند و برخی جانوران، از گیاهان تغذیه می‌کنند. آب آشامیدنی نیز، در طی حرکت خود در چرخه آب، از درون سنگ و خاک، عبور و برخی عناصر آنها را در خود حل می‌کند. هوا و بیشتر غبارها و گازهای موجود در هواکره، منشأ زمینی دارند. بنابراین سلامت انسان و سایر موجودات زنده، تحت تأثیر عناصر زمینی است.



مفاخر جهان

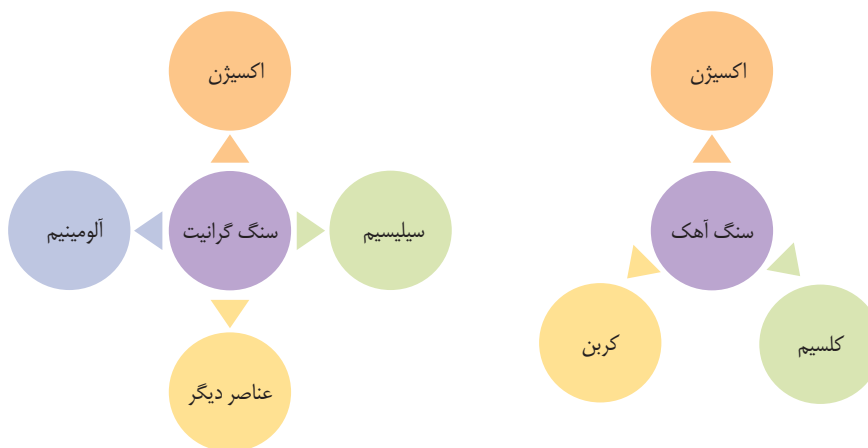
● **اوله سلینوس (Olle Selinus)** سوئدی، پدر علم زمین‌شناسی پزشکی است. پروفیسور سلینوس طی دو دهه ۱۹۶۰ و ۱۹۷۰ میلادی، در زمینه اکتشاف مواد معدنی در سازمان زمین‌شناسی سوئد فعالیت داشت. از سال ۱۹۸۰ به بعد فعالیت‌های خود را در زمینه زمین‌شناسی زیست‌محیطی متمرکز کرد و به تحقیق در شاخه زمین‌شناسی پزشکی پرداخت. وی تحقیقات زیادی در این موضوع انجام داده و مقالات زیادی درباره ارتباط زمین‌شناسی و سلامت به چاپ رسانده است. سلینوس با تلاش‌های بی‌وقفه خود، نقش مهمی در راه‌اندازی انجمن بین‌المللی زمین‌شناسی پزشکی با کمک محققان سایر رشته‌ها و کشورها و ترویج این علم و حل مشکلات زیادی در سراسر جهان داشته‌است.



شکل ۱-۵. عوامل زمین‌شناختی مؤثر بر سلامت انسان

پراکندگی و تمرکز عناصر

در علم ژئوشیمی، ترکیب شیمیایی سنگ، خاک و آب تعیین می‌شود. مطالعات ژئوشیمیایی نشان می‌دهد که توزیع عناصر در زمین و ترکیب سنگ‌ها در مناطق مختلف، متفاوت است.



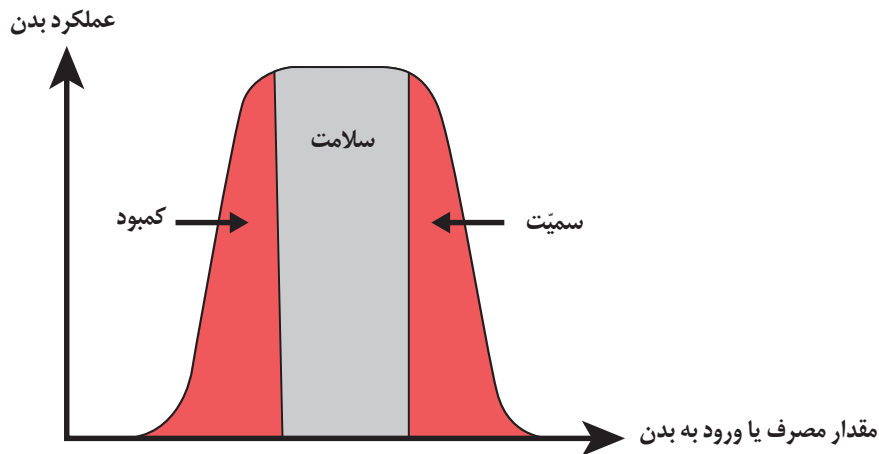
شکل ۲-۵. عناصر تشکیل‌دهنده گرانیت و سنگ آهک

هیاوا! تخصصی ترین سایت مشاوره کشور

جدول ۱-۵- تقسیم‌بندی عناصر از نظر غلظت در زمین و بدن موجودات زنده

اهمیت در بدن	عناصر	غلظت در پوسته	طبقه‌بندی عناصر
اساسی	اکسیژن، آهن، کلسیم، سدیم، پتاسیم و منیزیم	بیشتر از ۱ درصد	اصلی
اساسی	منگنز و فسفر	بین ۱ تا ۰/۱ درصد	فرعی
اساسی - سمی	مس، طلا، روی، سرب، کادمیم و ...	کمتر از ۰/۱ درصد	جزئی

بیشتر عناصر جدول تناوبی، از زمین به بدن موجودات منتقل و وارد بافت‌های مختلف بدن می‌شوند. عناصر مورد نیاز برای عملکرد دستگاه‌های بدن، عناصر اساسی هستند. این عناصر، در تمام بافت‌های سالم بدن وجود دارند و نبود یا کمبود و حتی وجود آنها در مقادیر بیشتر از حد نیاز، باعث ایجاد بیماری یا عارضه می‌شود.



شکل ۳-۵- نمودار تأثیر عناصر بر سلامت انسان

عناصر جزئی، در پوسته زمین و بدن موجودات زنده به مقدار بسیار کم یافت می‌شوند. این عناصر، گاهی در بدن به عنوان عنصر اساسی و مورد نیاز و گاهی به عنوان عنصر سمی محسوب می‌شوند که باعث ایجاد عوارض و یا بیماری می‌گردند.

هیاوا! تخصصی ترین سایت مشاوره کشور

بیشتر بدانید

- در جدول تناوبی زیر، طبقه بندی عناصر بر اساس سمّی بودن در سلامت انسان با رنگ‌های مختلف نشان داده شده است.

1H																		2He
3Li	4Be												5B	6C	7N	8O	9F	10Ne
11Na	12Mg												13Al	14Si	15P	16S	17Cl	18Ar
19K	20Ca	21Sc	22Ti	23V	24Cr	25Mn	26Fe	27Co	28Ni	29Cu	30Zn	32Ga	32Ge	33As	34Se	36Br	36Kr	
37Rb	38Sr	39Y	40Zr	41Nb	42Mo	43Tc	44Ru	45Rh	46Pd	47Ag	48Cd	49In	50Sn	51Sb	52Te	53I	54Xe	
55Cs	56Ba	57-71	72Hf	73Ta	74W	75Re	76Os	77Ir	78Pt	79Au	80Hg	81Tl	82Pb	83Bi	84Po	85At	86Rn	
87Fr	88Ra	89-103	104Db	105Jl	106Rf	107Bh	108Hn	109Mt	110	111								
		57La	58Ce	59Pr	60Nd	61Pm	62Sm	63Eu	64Gd	65Tb	66Dy	67Ho	68Er	69Tm	70Yb	71Lu		
		89Ac	90Th	91Pa	92U	93Np	94Pu	95Am	96Cm	97Bk	98Cf	99Es	100Fm	101Md	102No	108Lr		

حروف قرمز: عناصر سمّی

کادر زرد: عناصری که مقدار بیش از حد آن سمّی است.

پیوند با پزشکی

- سوپراکسیدها مانند LiO_2 (لیتیوم سوپراکسید) با تشکیل بنیان‌های بسیار واکنش‌گر، باعث وقوع سرطان می‌شوند. برخی عناصر به‌خصوص سلنیوم، از طریق آنزیم‌های حاوی این عنصر، با از بین بردن سوپراکسیدها، از وقوع سرطان پیشگیری می‌کنند. به همین دلیل این عنصر، اهمیت زیادی در سلامت انسان دارد و به عنوان ماده ضدسرطان شناخته می‌شود.

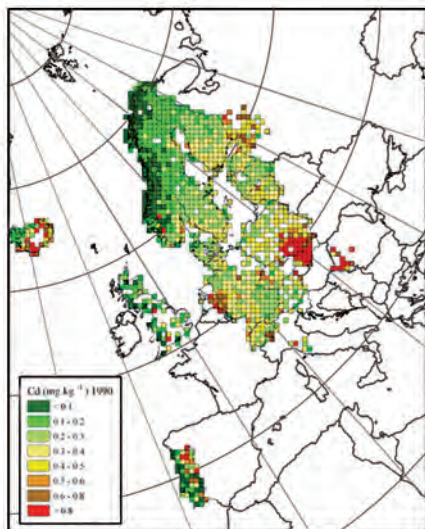
در فصل ۲ خواندید که بعضی سنگ‌ها و خاک‌ها، در برخی از عناصر، بی‌هنگاری مثبت یا منفی نشان می‌دهند. گیاهان، عناصر مورد نیاز خود را برای رشد از این خاک‌ها می‌گیرند. بنابراین در بعضی از گونه‌های گیاهی، تمرکز عناصر بیش از حد معمول ایجاد می‌شود. اگر جانوران از این گیاهان تغذیه کنند غلظت برخی از عناصر در آنها از حد معمول، بیشتر شده، می‌تواند باعث بیماری در آنها شود.

هیوا! تخصصی ترین سایت مشاوره کشور

جمع آوری اطلاعات

- گیاهانی را معرفی کنید که می توانند عناصر خاصی را در خود متمرکز کنند.
- بررسی کنید که ماهی چه عناصری را در بدن خود متمرکز می کند؟

زمین شناسان با تهیه نقشه پراکندگی ژئوشیمیایی عناصر، مناطقی را که احتمال خطر بیماری های خاصی در آنها وجود دارد، معرفی می کنند. برای مثال نقشه ژئوشیمیایی فلز سمی کادمیم در خاک کشور سوئد در شکل روبه رو نشان داده شده است (شکل ۴-۵). به همین ترتیب می توان با تهیه نقشه از مناطقی که در آن بیماری های خاصی شایع است، به بررسی عوامل زمین شناسی مؤثر بر ایجاد آنها پرداخت.



شکل ۴-۵. نقشه ژئوشیمیایی فلز سمی کادمیم در خاک کشور سوئد (بیشترین مقدار، رنگ قرمز)

بیشتر بدانید

● استخراج سرب از حدود ۵۰۰۰ سال پیش آغاز شد و به طور نسبی در عصر مس، مفرغ و آهن افزایش یافت و در ۲۰۰۰ سال پیش به اوج خود رسید. سنگ نوشته های رسی دوره های میانی و پسین آشوری و متون مصری و سانسکریت مربوط به بیش از ۳۰۰۰ سال پیش، مواردی از مسمومیت به سرب را نشان می دهد.

نخستین کاربردهای سرب در لوله کشی، معماری و کشتی سازی بود. نمک های سرب برای نگهداری میوه و سبزی ها به کار می رفت. استفاده از مقادیر زیاد سرب در زندگی روزمره طبقه اشراف روم، اثری قابل ملاحظه بر سلامت آنها داشت، از جمله شیوع مسمومیت سرب (پلومبیسزم)، شیوع شدید ناباروری، مرده زایی و عقب افتادگی ذهنی. بررسی شرح حال فیزیولوژیکی امپراتورهای روم که بین سال های ۲۵۰ - ۱۵۰ سال پیش از میلاد می زیستند، نشان می دهد که بیشتر این افراد، دچار مسمومیت سرب بوده اند.



یکی از نشانه های مسمومیت با سرب، ایجاد خط آبی رنگ در محل اتصال دندان ها به لثه است.

منشأ بیماری های زمین زاد



سنگ های دارای آرسنیک: آرسنیک، یک عنصر غیر ضروری و سمی است. این عنصر، منشأ زمین زاد دارد و برخی سنگ ها مانند سنگ های آتشفشانی، دارای بی هنجاری مثبت آرسنیک است. مهم ترین مسیر انتقال آن از زمین به گیاهان و جانوران و انسان، از راه آب آلوده به این عنصر است. کشورهای زیادی در معرض آلودگی این عنصر هستند. در این کشورها، سنگ ها و کانی های دارای آرسنیک (مانند پیریت)، در معرض هوازدگی، اکسیده یا حل می شوند و عناصر موجود در آنها وارد منابع آب و سپس وارد بدن موجودات زنده می شود و باعث ایجاد بیماری می گردد. وقتی مقادیر بالای این عنصر وارد بدن انسان می شود، عوارض و بیماری های متعددی مانند ایجاد لکه های پوستی، سخت شدن و شاخی شدن کف دست و پا، دیابت و سرطان پوست را ایجاد می کند.

شکل ۵-۵. آلودگی آب و خاک به آرسنیک

بیشتر بدانید



● حدود پنجاه سال پیش، چاه های عمیق آب در بنگال غربی هندوستان حفر شد. مردم از این آب برای آبیاری مزارع برنج استفاده می کردند که زیربنای اقتصادی آنها را تشکیل می داد. پیش از آن، کشاورزان با آب محدودی که در دسترس بود، زمین های خود را آبیاری می کردند اما، با این روش جدید، سطح زیر کشت، بالا رفت و درآمد اقتصادی آنها به شدت افزایش یافت. آنها، آب را از چاه های عمیق برداشت می کردند و می توانستند ۳ یا ۴ نوبت کشت در سال انجام دهند. اما این آب، مقدار زیادی آرسنیک داشت و بیش از ۴۰۰ روستا در بنگال غربی تحت تأثیر شدیدترین مسمومیت آرسنیک جهان قرار گرفت و حدود ۶۰۰۰۰۰ نفر دچار مرگ زودرس شدند. بعد از شیوع بیماری های فراوان در منطقه بنگال غربی و بنگلادش، مطالعات انجام شده توسط



خشک شدن و شاخی شدن پوست بر اثر مصرف آب حاوی آرسنیک در بنگلادش

زمین شناسان بر روی سنگ های سازنده آبخوان های منطقه، وجود لایه های رسوبی حاوی عنصر آرسنیک با رگه هایی از کانی پیریت را نشان داد که چاه ها را آلوده می کرد.

هیوا! تخصصی ترین سایت مشاوره کشور



شکل ۵-۶- نقشه پراکندگی مناطق دارای آلودگی آرسنیک در جهان (نقاط قرمز)

آرسنیک موجود در بعضی از سنگ‌ها، مانند زغال سنگ به مواد غذایی منتقل می‌شود. به نمونه‌ای از آن می‌توان در خشک کردن فلفل قرمز و ذرت به وسیله زغال سنگ در ناحیه‌ای از جنوب چین اشاره کرد. در این منطقه، خشک کردن مواد غذایی با حرارت زغال سنگ در محیط بسته، سبب آزاد شدن آرسنیک و ورود آن به مواد غذایی و آلودگی آنها می‌شود.

سنگ‌های دارای عنصر کادمیم: کادمیم، عنصری سمی و سرطان زاست که در کانسنگ‌های سولفیدی یافت می‌شود و مهم‌ترین منشأ آن در معادن روی و سرب است. این عنصر، از طریق گیاهان خوراکی و آب وارد بدن می‌شود.

پیوند با پزشکی

● تأثیر منفی کادمیم بر سلامتی از زمانی مشخص شد که آب‌های معدنی سرشار از کادمیم از یک معدن روی و سرب، وارد رودخانه و مزارع برنج منطقه‌ای در ژاپن گردید و پس از مدتی باعث شیوع بیماری ایتای ایتای (itai itai) شد. این بیماری، باعث تغییر شکل و نرمی استخوان در زنان مسن می‌شود. بعدها در مردم این منطقه، آسیب‌های کلیوی نیز رخ داد. با توجه به اینکه کادمیم همیشه با عنصر روی همراه است، استفاده از کودهای روی که از سنگ معدن روی تولید می‌شود، در مزارع می‌تواند باعث افزایش غلظت کادمیم در گیاهان و زنجیره غذایی شود.

سنگ‌های دارای جیوه: جیوه، عنصری سمی است که از سنگ‌های آتشفشانی، چشمه‌های آب گرم، در طی فرایند استخراج مواد معدنی و جداسازی طلا از کانسنگ آن به دست می‌آید. در مناطق معدنی، فرایند استخراج طلا یا ملقمه کردن طلا با جیوه در فعالیت‌های معدنی، منجر به آلودگی گسترده جیوه شده است. قرارگیری دراز مدت در معرض جیوه، از طریق دهان (آب و غذا) و پوست، باعث آسیب رساندن به دستگاه‌های عصبی، گوارش و ایمنی می‌شود.

هیوا! تخصصی ترین سایت مشاوره کشور

جمع آوری اطلاعات

● در مورد ملقمه کردن طلا با جیوه، اطلاعات جمع آوری و در کلاس ارائه کنید.



مسمومیت با جیوه، اولین بار در سال ۱۹۵۶ در میناماتا ژاپن شایع شد که باعث بروز بیماری میناماتا و تولد کودکان ناقص گردید. مسمومیت به متیل جیوه در ژاپن، سوئد، عراق و ایالات متحده مشاهده شده است.

جمع آوری اطلاعات

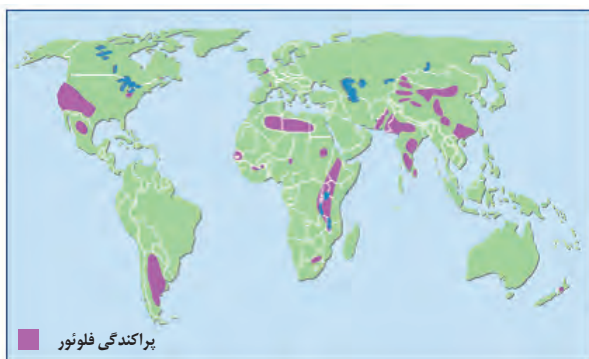
● خمیر دندان مصرفی شما چه مقدار فلئوراید باید داشته باشد؟
● آیا مردم ساکن در مناطق مختلف باید از یک نوع خمیر دندان استفاده کنند؟
● در مورد روش های مختلف جبران فلئوراید، اطلاعاتی جمع آوری و در کلاس گفت و گو کنید.



سنگ های دارای فلئوراید: فلئوراید، یک عنصر اساسی است که کمبود یا مصرف زیاد آن، هر دو باعث بروز بیماری می شود و منشأ اصلی و مسیر ورود آن به بدن، از راه نوشیدن آب است. فلئوراید در ترکیب کانی های رسی و میکای سیاه به مقدار زیاد وجود دارد. دندان از کلسیم فسفات و مواد آلی تشکیل شده است. ورود مقداری فلئوراید به ساختار بلوری دندان، باعث سخت تر شدن آن و مقاومت بیشتر در برابر پوسیدگی می شود. همچنین فلئوراید در کاهش ابتلا به پوکی استخوان نیز مؤثر می باشد. کمبود فلئوراید در رژیم غذایی، از مدت ها پیش عامل پوسیدگی دندان، شناخته شده و به همین دلیل، برای جبران این کمبود، مقداری فلئوراید در ترکیب خمیر دندان وارد شده است.

پیوند با پزشکی

● در صورتی که آب های طبیعی، دارای بی هنجاری مثبت فلوراید باشد، حدود ۲ تا ۸ برابر مقدار معمول فلوراید را وارد بدن می کند. در این حالت، دندان ها همچنان در برابر پوسیدگی مقاوم هستند و تنها ممکن است با لکه های تیره ای پوشیده شوند که زیبایی دندان را از بین می برد. به این عارضه، فلورسیس دندانی می گویند که عارضه ای بازگشت ناپذیر است و بر اثر تخریب بافت مینای دندان ایجاد می شود.



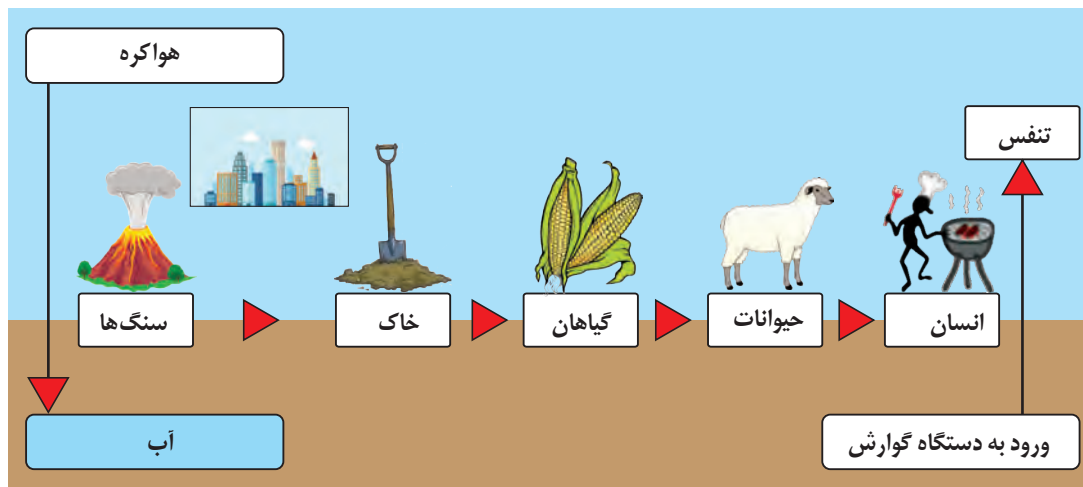
شکل ۷-۵. پراکندگی مناطق دارای آلودگی فلئوراید در جهان (رنگ صورتی)

هنگامی که مصرف فلوراید بسیار افزایش می یابد و به ۲۰ تا ۴۰ برابر حد مجاز می رسد، خشکی استخوان و غضروف ها رخ می دهد.

مصرف بالای فلئوراید، ممکن است برای انسان مسموم کننده باشد. بیش از ۲۰ میلیون نفر از مردم جهان از آبی استفاده می کنند که براساس استانداردهای جهانی، فلئوراید بالاتر از حد مجاز دارند. مشکل کمبود فلئوراید را می توان با اضافه کردن فلئوراید به آب آشامیدنی رفع کرد. منشأ دیگر فلئوراید، زغال سنگ حاوی فلئوراید است و بر اثر سوزاندن زغال سنگ، مقدار زیادی فلئوراید وارد محیط می شود.

هیاوا! تخصصی ترین سایت مشاوره کشور

سنگ‌های دارای سلنیم: سلنیم، یک عنصر اساسی ضدسرطان است که در کانی‌های سولفیدی و به خصوص در معادن طلا و نقره، چشمه‌های آب گرم، سنگ‌های آتشفشانی و خاک‌های حاصل از آنها به مقدار زیاد یافت می‌شود. بنابراین، منشأ اصلی سلنیم از خاک و مسیر ورود آن به بدن انسان، از طریق گیاهان است (شکل ۸-۵).



شکل ۸-۵- چرخه سلنیم

بیشتر بدانید

● مارکو پولو، در سفر خود در سال ۱۲۷۵ میلادی به اقامتگاه قوییلای خان در چین، به مرگ اسب‌های خود در اثر مسمومیت به علف‌های منطقه اشاره می‌کند. امروزه می‌دانیم که آن بخش از چین، دارای بی‌هنجاری مثبت سلنیم در خاک است و عوارض توصیف شده توسط مارکو، نشانگر مسمومیت ناشی از سلنیم است.



سنگ‌های دارای روی: عنصر روی، از عناصر فلزی مهم به شمار می‌رود و یک عنصر جزئی اساسی با منشأ زمینی است که بیشتر از طریق گیاهان وارد بدن انسان می‌شود. روی، علاوه بر اینکه در کانی‌های سولفیدی به مقدار زیاد وجود دارد، در سنگ‌های آهکی و برخی سنگ‌های آتشفشانی

پیوند با زیست‌شناسی

● استفاده از اندوخته غذایی کدام گیاهان، سبب تأمین سلنیم موردنیاز بدن می‌شود؟

هیوا! تخصصی ترین سایت مشاوره کشور



شکل ۹-۵- قرص روی

نیز فراوان است. عوارض کمبود روی، شامل کوتاهی قد و اختلال در سیستم ایمنی بدن است. زیادی مقدار روی می تواند باعث کم خونی و حتی مرگ شود.

کمبودهای ناحیه‌ای عنصر روی، که ارتباطی با سنگ‌شناسی و خاک‌های منطقه دارد را باید با وارد کردن غذاها و داروهای روی دار مکمل رفع کرد.

عنصر ید: در سده نوزدهم، بیماری گواتر در نیمه شمالی آمریکا بسیار رایج بود و این منطقه، کمربند گواتر نامیده می‌شد. پژوهش‌ها نشان داد که کمبود ید در خاک این منطقه و گیاهان و دام‌های آن باعث این بیماری شده است و هنگامی که ید به رژیم غذایی مردم این منطقه اضافه شد، بیماری گواتر کاهش یافت. دلیل زمین‌شناختی این است که در بخش شمالی ایالات متحده پس از عصر یخ‌بندان، با آب شدن یخ‌ها، حجم زیادی آب در خاک نفوذ کرد و نمک‌های بسیار انحلال‌پذیر ید را با خود شست و خاک‌های فقیر از ید را بر جای گذاشت. کمبود ید در مناطق مختلف جهان، به خصوص مناطق کوهستانی دور از دریا، که فرسایش و بارندگی شدید، خاک را از ید فقیر می‌کند، بسیار شایع است.

عنصر کلسیم و منیزیم: از مدت‌ها پیش مشخص شده است که وجود عناصر کلسیم و منیزیم باعث سختی آب آشامیدنی می‌شود. میزان سختی آب در مناطق مختلف متفاوت بوده و با زمین‌شناسی هر منطقه مرتبط است. این عامل، با انواع خاصی از بیماری‌های کلیوی رابطه دارد.



● خاک‌خواری یا خوردن آگاهانه خاک توسط انسان‌ها مشاهده می‌شود. متخصصان تغذیه، این عمل را پاسخی برای کاهش سمیت برخی مواد موجود در رژیم غذایی و یا تأمین کمبودهای تغذیه‌ای می‌دانند. تمایل برخی از خانم‌های باردار به خوردن خاک، زغال و... در نسل‌های گذشته، نمونه‌ای از خاک‌خواری است. اما باید آلودگی این خاک‌ها به برخی عناصر سمی را مورد توجه قرار داد. نمونه دیگری از آن را می‌توان در استفاده خوراکی از خاک با تنوع رنگی در جزیره هرمنز نام برد.

بیشتر بدانید

غبارهای زمین‌زاد: غباری که هر روز در حیاط خانه ما فرو می‌ریزد، ممکن است از هزاران کیلومتر دورتر منشأ گرفته باشد. غبار، پدیده‌ای جهانی است. توفان‌های غبار که از آفریقا منشأ می‌گیرند به کوه‌های آلپ هم می‌رسند و ریزگردهای برخی از کشورهای همسایه، وارد کشور ما شده و ما را دچار مشکلات زیادی کرده است. غبار از راه تنفس، وارد بدن انسان می‌شود و سلامت وی را تهدید می‌کند.

هیاوا! تخصصی ترین سایت مشاوره کشور

- اثرات توفان های گرد و غبار و ریزگردها:
- کاهش میزان انرژی دریافتی از خورشید (غبارها گرما را بازتاب و زمین را سرد می کنند)
- انتقال باکتری های بیماری زا به مناطق پر جمعیت
- افت کیفیت هوا
- انتقال مواد سمی
- فراهم کردن مواد مغذی اساسی برای جنگل های بارانی مناطق گرمسیری
- هسته های رشد قطرات باران



شکل ۱۰-۵- توفان گرد و غبار

زمین شناسان در مطالعات خود، نوع کانی های تشکیل دهنده و ترکیب ژئوشیمیایی ریزگردها و غبارها را بررسی می کنند. آنها طی این بررسی ها، سرچشمه ریزگردها را با تصاویر ماهواره ای بررسی و نحوه انتقال آنها تا فواصل دور را مطالعه می کنند تا بتوانند پیامدهای حاصل از استنشاق غبارها بر سلامت انسان را پیش بینی و راهکارهایی برای کاهش اثرات آنها پیدا کنند. ذرات بسیار ریز غبار با ورود به ریه، باعث بیماری های ریوی می شوند. هرچه غلظت این غبارها، بیشتر باشد، نرخ بیماری های مزمن دستگاه تنفسی و مرگ و میر مرتبط با آن افزایش می یابد.



شکل ۱۱-۵- در طی دو روز، ۱۰ میلیارد تن ماگما و ۲۰ میلیون تن گوگرد دی اکسید از آتشفشان فعال پیناتوبو در سال ۱۹۹۱م، خارج شد و شرایط آب و هوایی کره زمین، جهان را در طی سه سال تحت تأثیر قرار داد. این رویداد به تنهایی ۲ میلیون تن روی، ۱ میلیون تن مس و ۵۵۰۰ تن کادمیم را در سطح زمین پخش می کند.


آتشفشان ها: فعالیت های آتشفشانی، فلزها و عناصر دیگر را از اعماق زمین به سطح می آورند. برای مثال بر اثر فوران آتشفشان پیناتوبو فیلیپین در سال ۱۹۹۱ میلیون ها تن خاکستر وارد اتمسفر و بر روی منطقه ای به وسعت هزاران کیلومتر مربع پخش شد که بیشتر عناصر طبیعی جدول تناوبی بود. آتشفشان ها، افزون بر عناصر اساسی، عناصر دیگری مانند آرسنیک، بریلیم، کادمیم، جیوه، سرب، رادون و اورانیم را هم وارد محیط می کنند که در شرایط خاص، خطرناک هستند.

این گونه فوران های آتشفشانی هر چند سال یک بار در تاریخ زمین رخ داده اند. این نکته را هم در نظر بگیریم که در هر زمان، به طور میانگین ۶۰ آتشفشان بر روی زمین فعال بوده و فوران کرده اند. مقدار کل فلزهای آزاد شده از آتشفشان ها، قابل توجه است.

بیشتر بدانید

• بیماری سیلیکوسیس که حاصل استنشاق گرد و غبار دارای ذرات سیلیس است، در سده بیستم برای نخستین بار در بادیه نشینان صحرای آفریقا شناسایی شد و پس از آن در کشاورزان پاکستان، کالیفرنیا، لاداخ (سیبری)، تار (هند) و نیز شمال چین یافت شد. شیوع این بیماری در لاداخ، ۲۲ درصد جمعیت روستایی و در شمال چین ۲۱ درصد جمعیت بالای ۴۰ سال را در بر می گیرد و به نظر می رسد جمعیت مبتلا در آسیا به چند میلیون نفر برسد.

یادآوری



• در کتاب علوم با کانی آزبست و تأثیر آن بر سلامت انسان آشنا شدید. در مورد استفاده از آزبست (پنبه‌نسوز*) در ساخت وسایل مختلفی مانند لنت ترمز،... و اثرات آن، مطالبی جمع‌آوری و در کلاس بحث کنید.

• علت ایجاد هر یک از بیماری‌های مشخص شده در تصویر زیر چیست؟

خود را بیازمایید

پوسیدگی دندان

آسیب مغزی

سیاه شدن ریه

شاخی شدن پوست

کوتاهی قد

بیماری قلبی

تغییر شکل استخوان

سنگ کلیه

کانی ها، استفاده های گسترده ای در داروسازی و صنایع بهداشتی دارند. پودر بچه که از کانی تالک تشکیل شده، آشناترین مثال استفاده از کانی ها در این صنایع است. در آنتی بیوتیک ها و قرص های مسکن، بهبود زخم معده و ... از کانی های مختلف، به ویژه انواع رس ها استفاده می شود. در خمیردندان ها کانی فلوئوریت و در صنایع آرایشی، کرم های ضدآفتاب، تالک، میکا و رس ها کاربرد دارند. همچنین از سرب در تهیه لباس های محافظ در هنگام عکس برداری توسط پرتو X (ایکس) استفاده می شود.

علم،
زندگی،
کارآفرینی

● **زمین شناسی زیست محیطی:** شاخه ای از علم زمین شناسی است که با استفاده از اصول زمین شناسی، به حل مسائل زیست محیطی می پردازد. بهره برداری بیش از اندازه از منابع و معادن، فرسایش خاک، افزایش روزافزون پسماندها، فاضلاب ها و مواد شیمیایی موجب آلودگی بخش های مختلف زمین از جمله آب، هوا و خاک شده است. زمین شناسان زیست محیطی به مطالعه شیوه های انتقال و رفع آلاینده ها از محیط زیست می پردازند.



● **زمین شناسی پزشکی:** منشأ همه عناصر از زمین است و آلودگی های طبیعی و انسان زاد می تواند از سنگ و خاک به آب و گیاه و دام و از طریق غذا به بدن انسان انتقال یابد. برخی عناصر، برای بدن انسان و دیگر موجودات ضروری هستند. آهن در هموگلوبین، فسفر و کلسیم در ساختار دندان و استخوان، نقش اساسی دارد اما برخی ترکیب ها مانند نیترات ها و عناصری مانند جیوه، آرسنیک، سرب، کادمیم و ... برای سلامت انسان مضر هستند.

در مراکز مرتبط با معادن و منابع آب و کشاورزی، وجود متخصص زمین شناسی پزشکی ضروری به نظر می رسد.

هیاوا! تخصصی ترین سایت مشاوره کشور



مجمع آب درمانی



نمک درمانی

هیاوا! تخصصی ترین سایت مشاوره کشور



گرمسار - استان سمنان

۶ فصل

پویایی زمین

با آنکه خداوند، زمین را محیطی آرام برای زندگی انسان و سایر جانداران مهیا نموده است، اما درون این سیاره، فعال و پر جنب و جوش است که باعث حرکت ورقه‌های سنگ کره شده است. جابه‌جایی ورقه‌های سنگ کره، سبب پیدایش پدیده‌های طبیعی مانند شکستگی، زمین لرزه، چین خوردگی، فوران آتشفشان و... می‌شود.

هیاوا! تخصصی ترین سایت مشاوره کشور



چین خوردگی



گسل (بزرگراه زنجان - میانه)



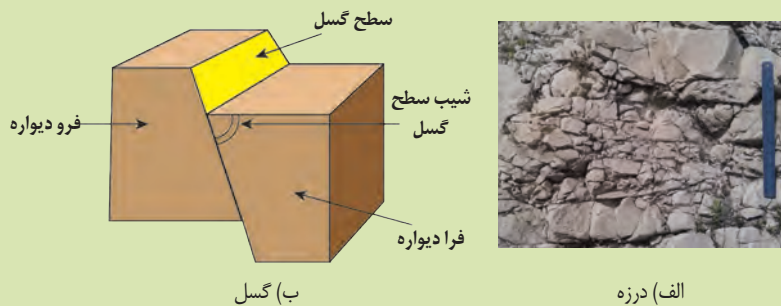
حرکت دامنه‌ای

شکستگی‌ها

شکستگی‌های پوسته زمین، یکی از نشانه‌های پویایی زمین است. مطالعه آنها در هنگام ساخت جاده‌ها، سدها، تونل‌ها و سایر سازه‌های مهندسی اهمیت زیادی دارد. افزون بر آن، در تجمع آب‌های زیرزمینی و ذخایر نفت و گاز و تشکیل کانسنگ‌های گرمابی حائز اهمیت می‌باشد.

یادآوری

● در کتاب‌های درسی علوم تجربی آموختید که شکستگی‌ها، به دو دسته درزه و گسل تقسیم می‌شوند. تفاوت و تشابه درزه و گسل را بیان کنید.

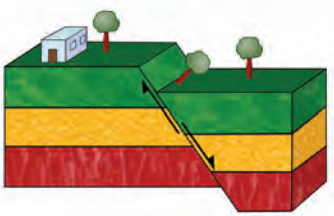
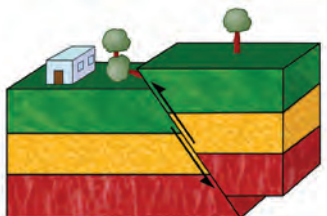
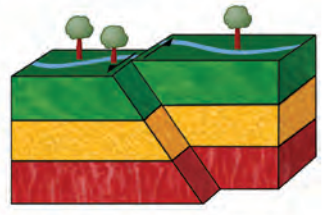


شکل ۱-۶

سطح گسل، شکستگی و جابه‌جایی در آن اتفاق افتاده است. اگر سطح گسل مایل باشد به طبقات روی سطح گسل، فرادیاره و به طبقات زیر سطح گسل، فرودیاره می‌گویند.


هیاوا! تخصصی ترین سایت مشاوره کشور

جدول ۱-۶- انواع گسل و ویژگی های آن


شکل	نوع تنش	ویژگی	نوع گسل
	کششی	۱- سطح گسل مایل است. ۲- فرادیواره نسبت به فرودیواره به سمت پایین یا فرودیواره نسبت به فرادیواره به سمت بالا حرکت کرده است.	عادی
	فشاری	۱- سطح گسل مایل است. ۲- فرادیواره نسبت به فرودیواره، به سمت بالا یا فرودیواره نسبت به فرادیواره به سمت پایین حرکت کرده است.	معکوس
	برشی	۱- لغزش سنگ ها در امتداد سطح گسل است. ۲- حرکت قطعات شکسته شده، در امتداد افق است.	امتداد لغز

فکر کنید

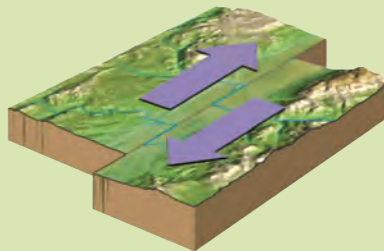
● در هر یک از گسل های زیر، نوع گسل را مشخص کنید.



(ب)

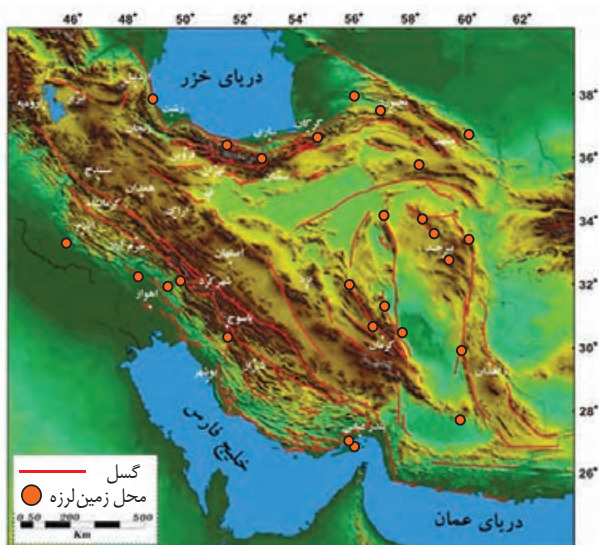


(ف)



(پ)

هیاوا! تخصصی ترین سایت مشاوره کشور



شکل ۲-۶- نقشه خطر زمین لرزه در بخش‌های مختلف ایران. چه ارتباطی بین زمین لرزه‌ها با گسل‌ها دیده می‌شود؟

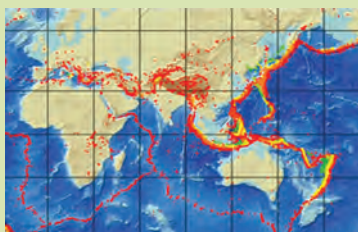
زمین لرزه

زمین لرزه، نشانه آشکاری از پویایی زمین و بخشی از نظام آفرینش این سیاره است. در هر زمین لرزه، مقدار انرژی انباشته شده در سنگ‌ها، به طور ناگهانی آزاد می‌شود و به صورت امواج لرزه‌ای به اطراف حرکت می‌کند. نگاهی به نقشه پراکندگی زمین لرزه‌ها نشان می‌دهد که توزیع آنها، در همه جا یکسان نیست.

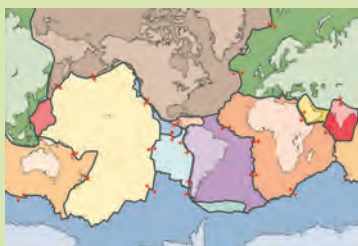
علت اصلی زمین لرزه، حرکت ورقه‌های سنگ کره است. سنگ‌های سازنده سنگ کره در مقابل نیروی وارده، رفتار الاستیک از خود نشان می‌دهند. چنانچه تنش از مقاومت سنگ فراتر رود، سنگ‌ها دچار شکستگی شده و انرژی زمین لرزه از محل شکستگی به صورت امواج لرزه‌ای، آزاد می‌شود. در هر زمین لرزه، از گروه لرزه‌ها صحبت می‌شود که شامل پیش لرزه، لرزه اصلی و پس لرزه است. زمین لرزه، معمولاً کمتر از یک دقیقه طول می‌کشد.

بسیاری از مناطق مسکونی، در معرض خطر زمین لرزه قرار دارند. آیا می‌دانید که با وقوع زمین لرزه، چه حوادثی در سطح محلی و ملی رخ می‌دهد؟

کشور ایران با قرار گرفتن در کمربند لرزه خیز آلپ - هیمالیا، تقریباً هر روز شاهد وقوع زمین لرزه در مناطق مختلف می‌باشد. بسیاری از مناطق مسکونی ایران، بارها توسط زمین لرزه ویران شده‌اند.



● با استفاده از اطلاعات موجود در تصویر روبه‌رو در مورد پراکندگی جغرافیایی زمین لرزه‌های جهان، به پرسش‌های زیر پاسخ دهید:
۱- محدوده کمربند لرزه خیز آلپ - هیمالیا را مشخص کنید.



۲- در سال نهم با ورقه‌های سنگ کره آشنا شدید. دو تصویر روبه‌رو را با هم مقایسه کنید. چه نتیجه‌ای می‌گیرید؟

با هم
ببندیشید

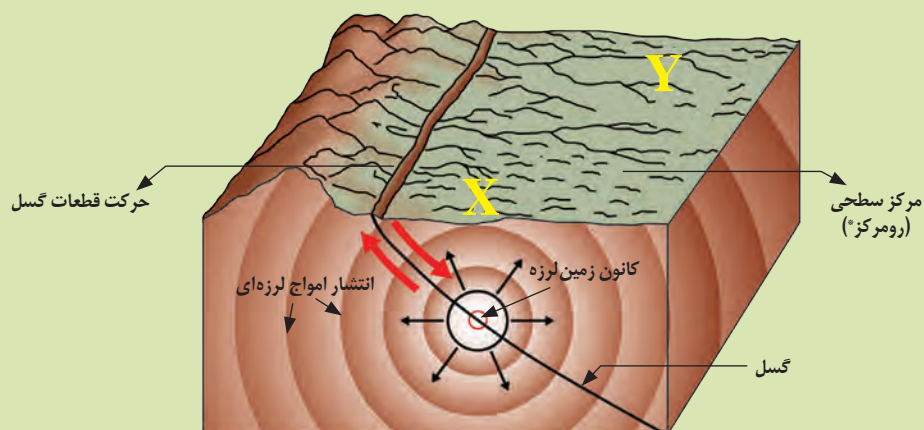
گفت و گو کنید

• کدام یک از فعالیت‌های انسانی زیر می‌تواند باعث وقوع زمین‌لرزه شود؟
انفجار معدن - تخلیه ناگهانی آب پشت سد - شخم زدن زمین - انفجارهای اتمی - آتش سوزی جنگل‌ها

کانون زمین‌لرزه: ۱ محلی درون زمین است که انرژی ذخیره شده از آنجا آزاد می‌شود.
مرکز سطحی زمین‌لرزه: ۲ نقطه‌ای در سطح زمین است که در بالای کانون زمین‌لرزه قرار دارد. این مرکز، کمترین فاصله را از کانون زمین‌لرزه دارد.

یادآوری

• طرح سه بعدی زیر، برخی از مشخصات محل وقوع زمین‌لرزه را نشان می‌دهد. با استفاده از اطلاعات موجود در تصویر، میزان خسارت احتمالی در دو نقطه X و Y را مقایسه کنید.



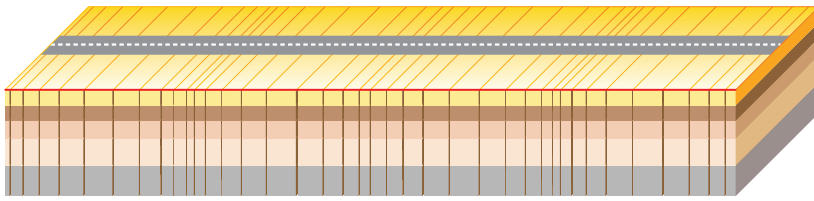
امواج لرزه‌ای

امواج درونی: این امواج در کانون زمین‌لرزه ایجاد می‌شوند و در داخل زمین منتشر می‌گردند و شامل امواج P و S می‌باشند.
موج P (اولیه، طولی): موج P، بیشترین سرعت را دارد به همین دلیل، اولین موجی است که توسط دستگاه لرزه نگار ثبت می‌شود. این موج، از محیط‌های جامد، مایع و گاز می‌گذرد، سرعت امواج در محیط‌های مختلف، متفاوت است. هر چه تراکم سنگ‌ها بیشتر باشد، امواج سریع‌تر حرکت می‌کنند.


۱- Hypocenter

۲- Epicenter

هیوا! تخصصی ترین سایت مشاوره کشور

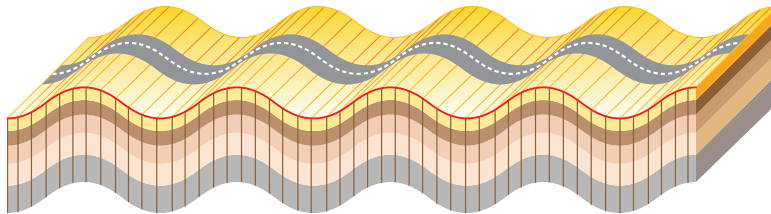


ب) نحوه حرکت موج طولی P

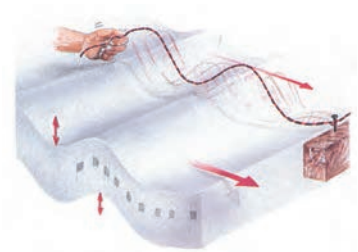


الف) امواج طولی (P)

موج S (ثانویه، عرضی): این موج بعد از موج P، توسط لرزه نگارها ثبت می شوند. این موج، فقط از محیط های جامد عبور می کند.

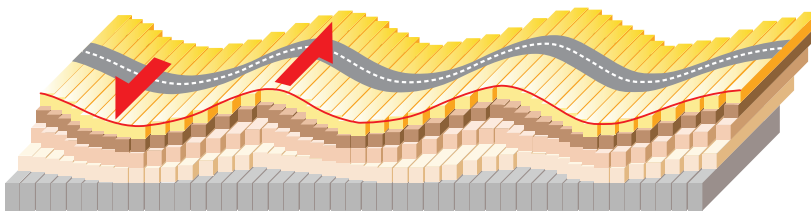


شکل ۳-۶- نحوه حرکت موج S



ب) امواج عرضی (S)

امواج سطحی: این امواج در کانون تولید نمی شوند؛ بلکه از برخورد امواج درونی با فصل مشترک لایه ها و سطح زمین ایجاد می شوند. متداول ترین آنها امواج لائو (L) و ریلی (R) هستند. موج L، موجی است که پس از موج S، توسط لرزه نگارها ثبت می شود.

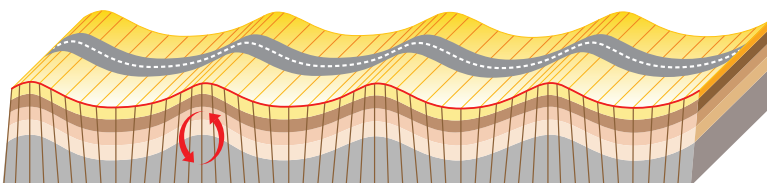


شکل ۴-۶- نحوه حرکت موج سطحی L

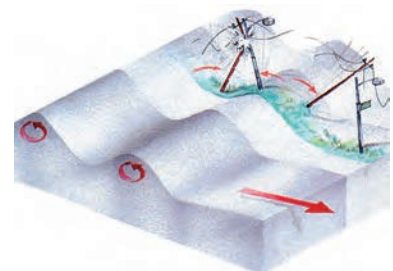


ج) امواج لائو (L)

موج R: مانند حرکت امواج دریا ذرات را در یک مدار دایره ای به ارتعاش درمی آورد. البته در موج ریلی، جهت حرکت دایره ای مخالف جهت حرکت امواج دریاست. عمق نفوذ و تأثیر امواج ریلی مثل امواج دریا محدود است و از سطح به عمق کاهش پیدا می کند.



شکل ۵-۶- نحوه حرکت موج سطحی R



د) امواج ریلی (R)

برای توصیف و اندازه گیری زمین لرزه از دو مقیاس شدت و بزرگی استفاده می شود. **شدت زمین لرزه:** این مقیاس براساس میزان خرابی ها در هر زمین لرزه بیان می شود. در واقع شدت زمین لرزه، یک مقیاس مشاهده ای و توصیفی است که بدون استفاده از دستگاه و ابزار اندازه گیری، به توصیف میزان خرابی های ناشی از زمین لرزه می پردازد. با دور شدن از مرکز سطحی زمین لرزه، شدت زمین لرزه کاهش می یابد. مرکالی، شدت زمین لرزه را در مقیاس ۱۲ درجه ای توصیف کرده است.

جدول مرکالی توصیفی

بیشتر بدانید


I. احساس نمی شود	احساس نمی شود، مگر در شرایط ویژه. تنها توسط دستگاه های لرزه نگار قابل ثبت است.
II. ضعیف	توسط افراد در حال استراحت و در طبقات بالای ساختمان ها حس می شود. برخی از اشیای آویزان ممکن است نوسان کنند.
III. ضعیف	در فضای باز و در طبقات بالایی ساختمان ها کاملاً قابل احساس است. مردم آن را به صورت زمین لرزه شناسایی نمی کنند. ارتعاش مانند عبور کامیون است. مدت زمان لرزش قابل تخمین است.
IV. ملایم	در طی روز در فضای بسته توسط افراد زیادی حس می شود و در فضای باز عده معدودی حس می کنند. در شب عده ای را از خواب بیدار می کند. بشقاب ها، پنجره ها و درب ها تکان خورده و صدا می کنند. در ماشین های ایستاده ارتعاش قابل درک است.
V. متوسط	زمین لرزه توسط هر فردی قابل احساس است. بسیاری از خواب بیدار می شوند. برخی از پنجره ها، بشقاب ها و غیره شکسته می شوند. گچ کاری ساختمان ها ترک می خورند. اشیای ناپایدار، واژگون می گردند. سر و صدای درختان و سایر اشیای مرتفع شنیده می شود و آونگ ساعت ها متوقف می گردند. درب ها باز و بسته می شوند و امتداد حرکت زمین لرزه قابل درک است.
VI. قابل توجه	زمین لرزه توسط بسیاری از افراد حس می شود و بسیاری از مردم وحشت زده به فضای باز پناه می آورند. اشیای سنگین جابه جا می شوند و قطعات از گچ کاری کنده می شود. دودکش ها فرو می ریزند و خسارات جزئی به بار می آید. افراد به حالت نامتعادل قدم می زنند یا می ایستند. پنجره ها، درب ها و بشقاب ها شکسته می شوند. ساختمان های خشتی و ضعیف ترک برمی دارند. زنگ های کوچک به صدا درمی آیند.
VII. قوی	مردم وحشت زده به فضای باز فرار می کنند. خسارت بسیار کمی در ساختمان هایی که خوب طراحی و ساخته شده اند وارد می شود. به ساختمان های متوسط و معمولی خسارات جزئی و متوسط وارد می گردد. خسارات قابل ملاحظه ای در ساختمان های ضعیف و بد طراحی شده وارد می شود. آجرهای سست، لقی می شوند. ایستادن مشکل می شود و اثاثیه شکسته می شوند. زنگ های بزرگ به صدا درمی آیند. زهکش های سیمانی آبرسانی خسارت می بینند. لغزش های کوچک اتفاق می افتد.
VIII. شدید	خسارت در ساختمان هایی که طراحی ویژه شده اند، بسیار جزئی است و در ساختمان های ضعیف بسیار شدید است. دیوارهای جداکننده به خارج از قاب ساختمان پرتاب می شوند. دودکش ها، ستون ها، دیوارها و دودکش های کارخانه ها و سنگ های یادبود سقوط می کنند. اشیای سنگین واژگون می گردند. تغییراتی در سطح آب چاه ها ایجاد می شود. ماسه و گل به مقدار کم بیرون زده می شوند. رانندگی مشکل می گردد. ترک هایی در زمین های مرطوب و شیب های ملایم ایجاد می شود. تغییراتی در آب و درجه حرارت چشمه ها و چاه ها ایجاد می شود. خانه های اسکلت دار بر روی سطح پی حرکت می کند. شاخه های درختان شکسته می شوند.
IX	خسارت قابل ملاحظه ای در ساختمان هایی که طراحی ویژه شده اند، ایجاد می شود. ساختمان های اسکلتی خوب طراحی شده کج می شوند. ساختمان بر روی پی تغییر مکان می دهد. ترک هایی آشکار در زمین ایجاد می گردد. خطوط لوله زیرزمینی شکسته می شوند. وحشت عمومی بر مردم غالب می شود. به ساختمان های ضعیف خسارات سنگین وارد می شود و حتی ممکن است کاملاً فرو بریزند. در مناطق آبرفتی ماسه و گل بیرون می آیند.
X	سازه های چوبی خوب ساخته شده ویران می شوند. بسیاری از سازه های اسکلت دار بنایی به همراه پی ویران می شوند. در زمین ترک های بزرگی ایجاد می گردد. خطوط راه آهن کج می شوند. زمین لغزش های قابل ملاحظه ای در کنار رودخانه ها و شیب های ملایم اتفاق می افتد. خسارت جدی به سدها و مخازن وارد می گردد. در زمین، لغزش های بزرگ اتفاق می افتد و آب از مخازن و کانال ها و رودخانه ها و دریاچه ها و غیره بیرون ریخته می شود.
XI	تعداد کمی از ساختمان ها استوار باقی می مانند. پل ها ویران می گردند. خطوط لوله زیرزمینی کاملاً غیر قابل استفاده می شوند. خطوط راه آهن به شدت کج می شوند. زمین باتلاقی می شود. لغزش هایی در زمین های نرم ایجاد می شود.
XII	ویرانی کامل، امواج بر روی سطح زمین مشاهده می شوند. اشیا به هوا پرتاب می شوند و سنگ های بزرگ جابه جا می شوند.

فکر کنید

• چه ایرادی به مقیاس شدت زمین لرزه وارد است؟

بزرگی زمین لرزه: بزرگی (بزرگا) زمین لرزه، براساس مقدار انرژی آزاد شده از زمین لرزه محاسبه می شود. هرچه انرژی آزاد شده، زیادتر باشد ارتعاشات ناشی از آن، شدیدتر و دامنه نوسانات امواج آن زمین لرزه، بزرگتر خواهد بود. بزرگی زمین لرزه را به کمک اطلاعات لرزه نگار، تعیین می کنند. واحد اندازه گیری بزرگی، ریشتر است.

به ازای هر یک واحد بزرگی، دامنه امواج ۱۰ برابر و مقدار انرژی $31/6$ برابر افزایش می یابد. بزرگی زمین لرزه در تمام نقاط زمین یکسان است، اما شدت آن با دور شدن از مرکز سطحی زمین لرزه کاهش می یابد.



۱۹۸۵-۱۹۰۰ میلادی

مفاخر جهان

• چارلز ریشتر ژئوفیزیک دان، با ارائه گزارش مطالعه زمین لرزه های کم عمق و عمیق که در سال ۱۹۲۸ به چاپ رسید، مقیاس خود را ابداع کرد و بعد از تکمیل این مقیاس با همکاری گوتنبرگ که با هم در مؤسسه تکنولوژی کالیفرنیا کار می کردند، اولین بار در سال ۱۹۳۵ از آن برای بیان بزرگی زمین لرزه استفاده کرد.

ریشتر، لگاریتم بزرگترین دامنه موجی است که در فاصله یک صد کیلومتری از مرکز یک زمین لرزه، توسط لرزه نگار استاندارد ثبت شده باشد.

پیوند با ریاضی

• مقدار انرژی آزاد شده و دامنه امواج زمین لرزه ای با بزرگی ۶ ریشتر، چند برابر زمین لرزه ای با بزرگی ۴ ریشتر است؟

فکر کنید

• بزرگی و شدت زمین لرزه بم را در شهرهای بم و تهران با هم مقایسه کنید.

پیش بینی زمین لرزه

از گذشته تاکنون، بشر همواره به دنبال پیش بینی زمان وقوع حوادث طبیعی مانند زمین لرزه بوده است. از میلیون ها زمین لرزه کوچک و بزرگ که تاکنون رخ داده است، فقط تعداد انگشت شماری از آنها، قبل از وقوع، پیش بینی شده اند. علی رغم پیشرفت های وسیع ایجاد شده در دهه های اخیر، درباره فناوری های مختلف و علم لرزه شناسی، هنوز دانشمندان در زمینه روش های علمی قابل اعتماد برای پیش بینی زمان دقیق وقوع زمین لرزه به نتیجه نرسیده اند. البته زمین شناسان محل های لرزه خیز کره زمین را شناسایی کرده اند.

به برخی از علائم و نشانه ها که بتوان با استفاده از آنها وقوع زمین لرزه را پیش بینی کرد «پیش نشانگر» گفته می شود. برخی از این نشانه ها عبارت اند از:

- ۱- تغییرات گاز رادون در آب‌های زیرزمینی
- ۲- ایجاد تغییر در سطح تراز آب زیرزمینی
- ۳- پیش‌لرزه
- ۴- ناهنجاری در رفتار حیوانات
- ۵- ابر زمین‌لرزه

جمع‌آوری اطلاعات

● وقوع زمین‌لرزه چه فوایدی دارد؟
دربارۀ فواید زمین‌لرزه، اطلاعات جمع‌آوری و در کلاس ارائه دهید.

ایمنی در برابر زمین‌لرزه

قبل از وقوع زمین‌لرزه چه باید کرد؟

- ۱- امکان خطر آتش‌سوزی، از طریق سیم‌های برق فرسوده، نشستی لوله‌های گاز و وسایل گازسوز را بررسی کنید.
- ۲- محل فیوز برق و شیر اصلی گاز و آب را به خاطر بسپارید.
- ۳- وسایل شکستنی از قبیل ظروف شیشه‌ای و چینی، اشیاء و وسایل سنگین را در طبقات پایین قفسه‌ها بگذارید و قفسه‌ها را به دیوار متصل کنید.
- ۴- لامپ‌ها و لوسترهای سقفی را محکم کنید.
- ۵- محل‌های امن خانه، مدرسه یا محل کار خود را پیدا کنید.
- ۶- بسته وسایل کمک‌های اولیه و مواد غذایی خشک لازم و ایمنی همچون چراغ قوه را تهیه و در جای مناسب قرار دهید.

هنگام وقوع زمین‌لرزه چه باید کرد؟

- ۱- بیشتر آسیب‌دیدگی‌ها مربوط به رفت و آمد افراد در زمان وقوع زمین‌لرزه است. هر جا هستید، در همان جا پناه بگیرید.
- ۲- اگر داخل ساختمان هستید به زیر یک میز محکم، محل دارای سقف کم‌وسعت، یا کنار دیوارهای داخلی پناه بگیرید. از شیشه پنجره‌ها دور شوید. از شمع، کبریت و هر چه که شعله دارد، استفاده نکنید.
- ۳- در بیرون از ساختمان، از پل‌ها، تیرها، سیم‌های برق، ساختمان‌ها و دیوارها دور شوید.
- ۴- اگر داخل اتومبیل هستید، از پل‌ها و ساختمان‌ها فاصله بگیرید و فوراً متوقف شوید.

بعد از وقوع زمین‌لرزه چه باید کرد؟

- ۱- مراقب پس‌لرزه‌ها باشید.
- ۲- رادیو را روشن کنید و به پیام‌ها و راهنمایی‌ها عمل کنید.
- ۳- ضمن مراقبت از سلامتی خود به افراد ناتوان و کودکان کمک کنید.
- ۴- اگر بوی گاز می‌آید، شیر اصلی گاز را ببندید و پنجره‌ها را باز کنید. نشست گاز را به مقامات مربوطه گزارش دهید.
- ۵- در صورت آسیب‌دیدگی سیم‌های برق، کنتور برق را قطع کنید.
- ۶- اگر لوله‌های آب، صدمه دیده‌اند، شیر اصلی آب را ببندید.
- ۷- داروها و مواد شیمیایی زیان‌آور پخش شده را فوراً جمع کنید.

هیاوا! تخصصی ترین سایت مشاوره کشور

مهم ترین علت های آسیب دیدگی از زمین لرزه

۱- فرو ریختن ساختمان، شیشه پنجره های شکسته و در حال افتادن و قطعات ائاثیه، زیرا ممکن است پس لرزه ها سبب فرو ریختن آنها شوند.

۲- خطرات آتش سوزی به علت شکستن لوله های گاز، اتصال سیم های برق به علت افتادن آنها بر روی زمین و بی آب ماندن به علت شکستن لوله های آب.

وسایل و مواد لازمی که باید همیشه در دسترس باشند

۱- چراغ قوه با باتری های اضافی، پول نقد، رادیو و آچار

قابل تنظیم

۲- جعبه کمک های اولیه با داروها و مواد ضروری

۳- کپسول آتش نشانی

۴- آب آشامیدنی

۵- غذاهای کنسرو شده و خشک برای مصرف یک هفته

اعضای خانواده، در باز کن قوطی، کبریت، اجاق گاز قابل حمل

(پیک نیک)

۶- شماره تلفن پلیس، آتش نشانی و اورژانس



چین خوردگی

رشته کوه هایی مانند البرز و زاگرس، حاصل چین خوردگی بخشی از سنگ کره است. چین ها، به شکل های تک شیب، تاقدیس و ناودیس دیده می شوند. در صورتی که لایه های سنگی طوری خم شوند که لایه های قدیمی تر در مرکز و لایه های جدیدتر در حاشیه قرار گیرند، تاقدیس تشکیل می شود و چنانچه لایه های جدیدتر در مرکز و لایه های قدیمی تر در حاشیه چین قرار گیرند، ناودیس به وجود می آید.



ب) تاقدیس و ناودیس



الف) تک شیب

شکل ۶-۶- انواع چین

امروزه فعالیت های آتشفشانی زیادی در تمام نقاط کره زمین، داخل خشکی ها، در بستر اقیانوس ها، دریاها و دریاچه های بزرگ صورت می گیرد.

مواد خارج شده از آتشفشان ها، به صورت جامد (تفرا)، مایع (لاوا یا گدازه) و بخارهای آتشفشانی (فومرول) است.



دماوند



تفتان

شکل ۷-۶- آتشفشان نیمه فعال تفتان و دماوند با فعالیت فومرولی

تفرا: به مواد آتشفشانی جامد که به صورت ذرات ریز و درشت بر اثر فعالیت آتشفشان به هوا پرتاب می شود، تفرا می گویند.

جدول ۲-۶- اندازه ذرات جامد آتشفشان

نام ذرات	اندازه ذرات (میلی متر)
خاکستر	کوچک تر از ۲
لاپیلی	بین ۲ تا ۳۲
قطعه سنگ و بمب (دوکی شکل)	بزرگ تر از ۳۲



در آتشفشان های انفجاری، مواد جامد آتشفشانی به هوا پرتاب می شوند. با فرونشینی آنها بر سطح زمین، از به هم چسبیدن و سخت شدن این مواد، گروهی از سنگ های آتشفشانی، به نام سنگ های آذرآواری تشکیل می شوند.

در صورتی که خاکستر آتشفشانی در محیط های دریایی کم عمق ته نشین شوند، توف آتشفشانی به وجود می آید. به عنوان مثال می توان توف های سبز البرز را نام برد. توف، یک نوع سنگ آذرآواری است.

شکل ۸-۶- سنگ آذرآواری

گدازه: گدازه ها، مواد مذابی هستند که از دهانه آتشفشان خارج می شوند. هر چه گدازه روان تر (سیلیس کمتر) باشد، مخروط آتشفشان، شیب و ارتفاع کمتری دارد.

بخارهای آتشفشانی: مواد مذاب درون زمین، حاوی مقداری گاز و بخار آب می باشد. ترکیب شیمیایی گازهای خروجی از آتشفشان، بسیار متفاوت است. بیشتر گازهای آتشفشانی را بخار آب، گازهای کربن دی اکسید، اکسیدهای گوگردی، نیتروژن دار، کلردار و کربن مونو اکسید تشکیل می دهند. پس از فعالیت یک آتشفشان، خروج گاز (مرحله فومرولی) ممکن است سال ها و حتی قرن ها ادامه داشته باشد. در حال حاضر آتشفشان های دماوند و تفتان، در مرحله فومرولی به سر می برند و از دهانه آنها بخار آب، گاز گوگرد و... خارج می شوند.

هیاوا! تخصصی ترین سایت مشاوره کشور



پ) خاکستر آتشفشانی



ب) گدازه



الف) بلمب آتشفشانی

شکل ۹-۶- نوع و اندازه متفاوت مواد خروجی از دهانه آتشفشان ها

فواید آتشفشان ها

مطالعه درون زمین: هر آتشفشان به منزله پنجره‌ای به درون زمین است که از طریق آن اطلاعاتی در مورد پوسته و گوشته بالایی به دست می‌آید.

تشکیل هواکره: در گذشته همراه با سرد شدن زمین، بخش زیادی از گازهای درون زمین از طریق فعالیت آتشفشان‌ها، از شکستگی‌ها و منافذ سنگ‌ها و لایه‌های آبدار خارج شدند و شرایط لازم برای تشکیل هوا کره فراهم گردید.

تشکیل آب کره: بخشی از گازهای خروجی از آتشفشان‌ها، با یکدیگر ترکیب شده و آب را به وجود آورده‌اند. آب، فرورفتگی‌های سطح زمین را پر کرده و باعث ایجاد اقیانوس‌ها، دریاها، دریاچه‌ها و رودها شده است.

تشکیل خاک و رسوب: خاکستر و گدازه آتشفشانی از دهانه آتشفشان خارج می‌شود و خاک حاصلخیزی را به وجود می‌آورد. برخی از مزارع حاصلخیز جهان بر روی خاکسترهای آتشفشانی قرار گرفته است.

تشکیل پوسته جدید اقیانوسی: خروج مواد مذاب گوشته از محور میانی رشته کوه‌های میان اقیانوسی، سبب تشکیل پوسته جدید اقیانوسی می‌شود. نتیجه این آتشفشان‌ها، علاوه بر گسترش بستر اقیانوس‌ها، سبب نزدیک شدن ورقه‌ها در محل دراز گودال‌های اقیانوسی می‌شوند. در این مناطق، به علت برخورد ورقه‌ها، فرورانش صورت می‌گیرد و کوه‌ها به وجود می‌آیند. کوه‌ها نیز، با ایجاد پستی و بلندی در سطح زمین، سبب تداوم فرسایش و رسوب گذاری می‌گردند.



شکل ۱۰-۶- چشمه آب گرم در دامنه آتشفشان بزمان

تشکیل رگه‌های معدنی: فعالیت آتشفشانی منجر به تشکیل برخی رگه‌های معدنی مانند طلا، نقره، مس و آهن می‌شود.

تشکیل چشمه‌های آب گرم: اطراف آتشفشان‌ها، مناطق مناسبی برای تشکیل چشمه‌های آب گرم معدنی می‌باشند. آب‌هایی که درون پوسته هستند، گرم شده و از طریق شکستگی‌های سطح زمین، به صورت چشمه‌های آب گرم در سطح زمین ظاهر می‌شوند. آب این چشمه‌ها از نظر بهداشتی برای درمان بیماری‌های پوستی و آرامش عضلانی مفید هستند و با جذب گردشگران، سبب رونق اقتصاد محلی می‌شوند.

انرژی زمین گرمایی: در مناطق آتشفشانی، از گرمای درون زمین به عنوان انرژی زمین گرمایی استفاده می‌شود. کشور ایسلند بخش عمده انرژی مورد نیاز خود را از انرژی زمین گرمایی تأمین می‌کند. اولین نیروگاه زمین گرمایی خاورمیانه نیز در نزدیکی آتشفشان سیلان در استان اردبیل تأسیس شده است.

آتشفشان‌ها، افزون بر خروج انرژی درونی زمین، منجر به آرامش نسبی ورقه‌های سنگ کره می‌شوند. از انواع سنگ‌های آتشفشانی در نمای ساختمان‌ها و مصالح ساختمانی استفاده می‌شود.



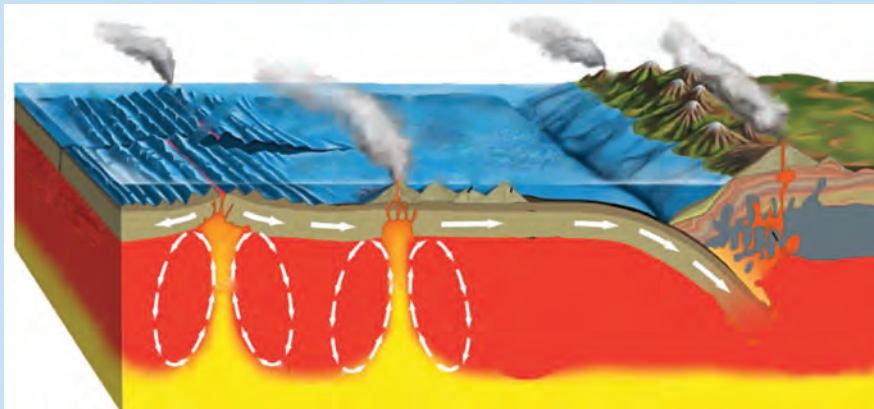
شکل ۱۱-۶- نیروگاه زمین گرمایی مشکین شهر - اردبیل




• ژئوفیزیک: ژئوفیزیک دان‌ها، برای مطالعه ساختمان درونی زمین، که به راحتی در دسترس نیست و همچنین شناسایی ذخایر و معادن زیرزمینی با استفاده از امواج لرزه‌ای، بررسی مغناطیس زمین، مقاومت الکتریکی و شدت گرانش سنگ‌ها، به مطالعه آنها می‌پردازند.

• زمین ساخت (تکتونیک): زمین شناسی ساختمانی و زمین ساخت، علم شناسایی و بررسی ساختارهای تشکیل دهنده پوسته زمین و نیروهای به وجودآورنده آنهاست. گسل‌ها، درزه‌ها، چین‌ها و دیگر ساختارهای زمین، نقش مهمی در تجمع منابع زیرزمینی و احداث پروژه‌های عمرانی دارند. از سوی دیگر، زمین ساخت به مطالعه ساختار درونی زمین، چگونگی تشکیل رشته کوه‌ها، اقیانوس‌ها، زمین لرزه‌ها و حرکت ورقه‌های سنگ کره می‌پردازد.

متخصصین این رشته‌ها، در مراکزی مانند سازمان زمین شناسی و اکتشافات معدنی کشور، مؤسسه ژئوفیزیک، پژوهشگاه زمین لرزه، مدیریت بحران، شهرداری‌ها و... به کار مشغول می‌شوند.



هیاوا! تخصصی ترین سایت مشاوره کشور




تصویر ماهواره‌ای ایران



زمین شناسی ایران

ایران، به نظر بسیاری از زمین شناسان جهان که از مناطق مختلف آن بازدید کرده اند، بهشت زمین شناسی است. به راستی، چه عواملی باعث این تفکر شده است؟ پدیده های متنوع کم نظیری مانند آتشفشان های نیمه فعال، گل فشان های متعدد، کلوتهای وسیع و مرتفع، گنبد های نمکی و ... در نقاط مختلف ایران یافت می شود که پژوهشگران زیادی را از سراسر جهان به خود علاقه مند کرده است. زمین شناسان از حدود دویست سال پیش تاکنون، پژوهش های زیادی بر روی مناطق مختلف ایران انجام داده اند ولی هنوز ناشناخته های بسیاری وجود دارد که توجه پژوهشگران را به خود جلب می کند.



گل فشان (چابهار)



گنبد نمکی (جاشک)



دره ستارگان (قشم)

تاریخچه زمین شناسی ایران

سرزمین ایران، تاریخ تکوین پیچیده‌ای را پشت سر گذاشته است. بخش‌های مختلفی که اکنون ایران زمین را تشکیل می‌دهند، در دوره‌های مختلف زمین شناسی، بخش‌هایی از آن قسمتی از ابرقاره گندوانا و لورازیا بوده‌اند. تعیین سن سنگ‌های مناطق مختلف ایران نشان می‌دهد که قدیمی‌ترین سنگ‌ها، سنی بیش از ۴/۶ میلیارد سال دارند که در مقایسه با سنگ‌های قدیمی یافت شده در آمریکای شمالی، آفریقا، هند، سیبری، استرالیا و عربستان جوان‌تر هستند.

حدود ۱۸۰ میلیون سال پیش تتیس کهن کاملاً بسته شد و رشته کوه البرز در ایران تشکیل شد. در حدود ۶۵ میلیون سال پیش، ورقه عربستان به ورقه ایران برخورد کرد و اقیانوس تتیس بسته و شکل‌گیری رشته کوه زاگرس آغاز شد و تاکنون ادامه دارد. دریای خزر و دریاچه آرال، از بازمانده‌های این اقیانوس هستند.

● قدیمی‌ترین سنگ‌های ایران در کدام مناطق یافت می‌شوند؟

تحقیق
کنید

● حدود ۶۰۰ میلیون سال پیش، قاره بزرگی به نام پانگه^۱ بر روی کره زمین وجود داشت که از به هم پیوستن همه خشکی‌ها به وجود آمده بود. این خشکی بزرگ در اواسط کامبرین، یعنی حدود ۵۰۰ میلیون سال پیش، بر اثر فرایندهای زمین‌ساختی شروع به باز شدن کرد و اقیانوس تتیس در این زمان تشکیل شد. در اوایل پرمین، یعنی حدود ۲۹۰ میلیون سال پیش به بیشترین وسعت خود رسید. در آن زمان، ایران مرکزی و البرز، بخشی از خشکی گندوانا بودند. اقیانوس تتیس کهن، طولی بیش از چندین هزار کیلومتر داشت و از استرالیا تا چین، ایران، و اروپای امروزی ادامه می‌یافت.

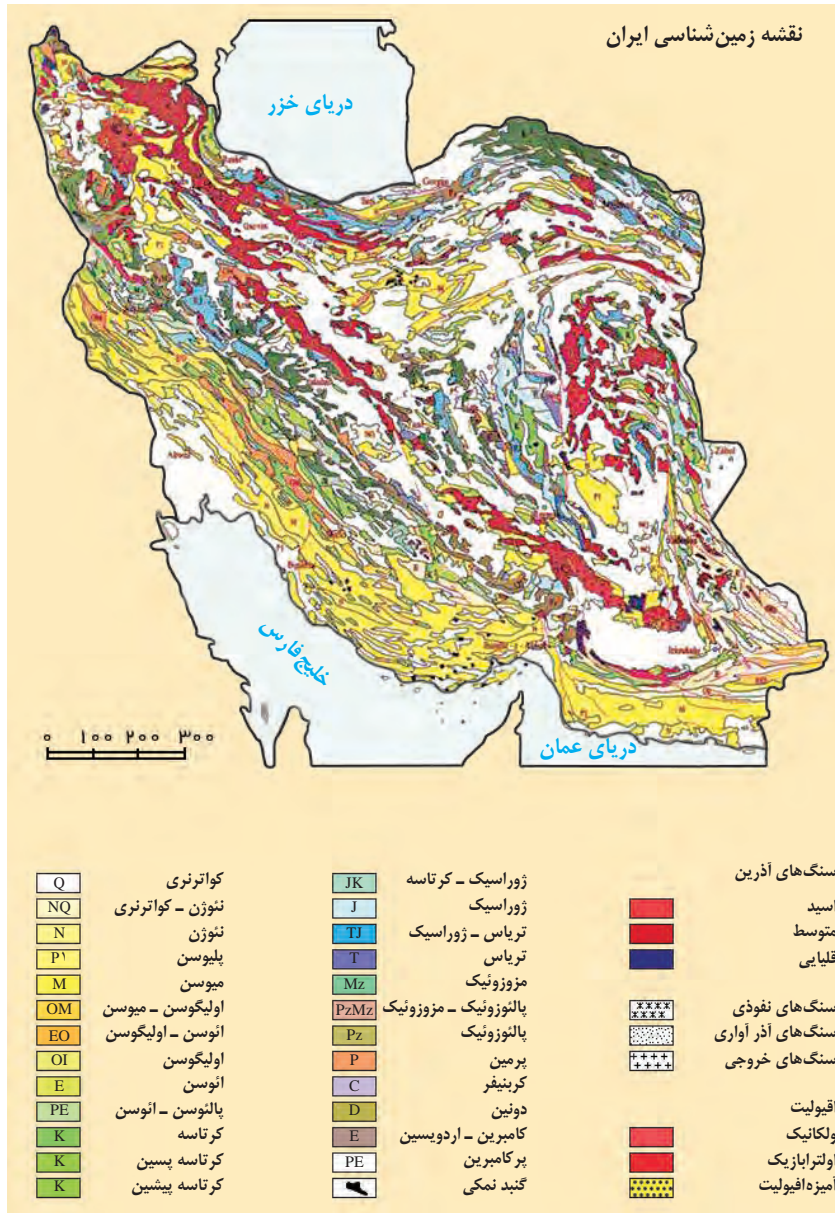
● در اوایل پرمین، بر اثر باز شدن قاره گندوانا، تشکیل اقیانوس جدیدی به نام تتیس نوین در بخش جنوبی تتیس کهن، شروع شد. هر چه تتیس نوین بزرگ‌تر می‌شد، تتیس کهن بر اثر فرورانش به سمت جنوب کوچک‌تر می‌شد. پس از آن تتیس نوین به بیشترین وسعت خود رسید. دریای سیاه در شمال ترکیه، بازمانده اقیانوس تتیس کهن است.



● در حدود ۱۰۰ میلیون سال پیش، با باز شدن اقیانوس هند، آفریقا و شبه قاره هند از گندوانا جدا شدند و به سمت شمال حرکت کردند. با این حرکت، اقیانوس تتیس نوین شروع به فرورانش به سمت شمال و به زیر قاره بزرگ شمالی (اوراسیا) کرد.

۱- به آن پانجه^۱ نیز گفته می‌شود.

در نقشه‌های زمین شناسی، جنس و پراکندگی سطحی سنگ‌ها، روابط سنی آنها، وضعیت شکستگی‌ها و چین خوردگی‌ها و موقعیت کانسارها و... نمایش داده می‌شوند.



شکل ۱-۷ - نقشه زمین شناسی ایران که نشان دهنده پراکندگی سنگ‌های دوره‌های زمین شناسی مختلف است.

مطالعات انجام شده توسط زمین شناسان، نشان می دهند که فرایندهای زمین شناسی متعددی در طول زمان، چهره امروزی سرزمین ایران را به وجود آورده است. تحولات زمین شناختی ایران در دوره های مختلف زمین شناسی، پیچیده بوده است. سرزمین ایران، از چندین قطعه مختلف و جدا از هم سنگ کره تشکیل شده که هر کدام تاریخچه تکوین متفاوتی دارند.

اشتوکلین، از پیشگامان مطالعات نوین زمین شناسی در ایران است. او با جمع بندی مطالعات و مشاهدات زمین شناسی، برای نخستین بار سرزمین ایران را از نظر ساختارهای زمین شناسی به چند بخش جداگانه تقسیم بندی کرد. این تقسیم بندی، مبنایی برای کار پژوهشگران بعدی شد. در ادامه، با آگاهی های بیشتر از ویژگی های زمین شناسی ایران، تقسیم بندی های جامع تری ارائه می شود.

برخی مشخصات پهنه های زمین ساختی در ایران

نام پهنه	سنگ های اصلی	منابع اقتصادی	ویژگی ها
زاگرس	سنگ های رسوبی	ذخایر نفت و گاز	تاقدیس ها و ناودیس های متوالی
سندج - سیرجان	سنگ های دگرگونی	معادنی مانند: سرب و روی ایرانکوه	انواع سنگ های دگرگونی
ایران مرکزی	سنگ های رسوبی آذرین - دگرگونی	معادنی مانند: آهن چغارت و روی مهدی آباد	سنگ های پرکامبرین تا سنوزویک
البرز	سنگ های رسوبی	رگه های زغال سنگ	دارای دو بخش شرقی - غربی دارای قله دماوند
شرق و جنوب شرق ایران	سنگ های آذرین و رسوبی	معادنی مانند: منیزیت - مس	دشت های پهناور، خشک و کم آب فرورانش پوسته اقیانوسی دریای عمان به زیر ایران در منطقه مکران
کپه داغ	سنگ های رسوبی	ذخایر عظیم گاز	توالی رسوبی منظم
سهند - بزمان (ارومیه - دختر)	سنگ های آذرین	ذخایر فلزی	فرورانش تیس نوین به زیر ایران مرکزی



۱۹۲۱ - ۲۰۰۸ میلادی

• یووان اشتوکلین (Jovan Stocklin) زمین شناس سوئیس و چهره ای ماندگار در زمین شناسی ایران است که نقش تأثیرگذاری در توسعه علم زمین شناسی در ایران داشته است. اشتوکلین، پس از اخذ مدرک دکترای زمین شناسی از دانشگاه ETH زوریخ در سوئیس، در سال ۱۹۵۰ میلادی (۱۳۲۹ ه.ش) در قالب همکاری با سازمان ملل متحد، به منظور انجام مطالعات زمین شناسی، راه اندازی سازمان زمین شناسی و اکتشافات معدنی کشور، راه اندازی بخش اکتشاف شرکت نفت و تربیت نیروی متخصص زمین شناسی به ایران آمد.

مفاخر جهان



اشتوکلین به مدت ۲۷ سال از عمر خود را در ایران گذراند، به همه نقاط ایران سفر کرد و به مطالعه زمین شناسی پرداخت و برای اغلب نقاط با همکاری بسیاری از زمین شناسان ایران، نقشه های زمین شناسی را تهیه و تعداد زیادی از کانسارها و منابع نفت و گاز در خشکی را کشف کرد.

وی در زمان اقامت و کار در ایران، با سفر به مناطق بکر و ناشناخته، با کمترین امکانات و با مسافرت در دشت ها، کوه ها، نمکزارها و مناطق خطرناک، مطالعات زمین شناسی را انجام داد. وی که در کودکی، آرزوی دیدن شتر را در سر داشت، به گفته خودش، به مراد خود رسید و در بیشتر عملیات صحرایی خود در مناطق دشوار کوهستانی و بیابانی، با استفاده از شتر، این مطالعات را در شرایط دشوار آب و هوایی از سرمای کوهستان تا گرمای مناطق کویری با شوق وافر انجام داد.

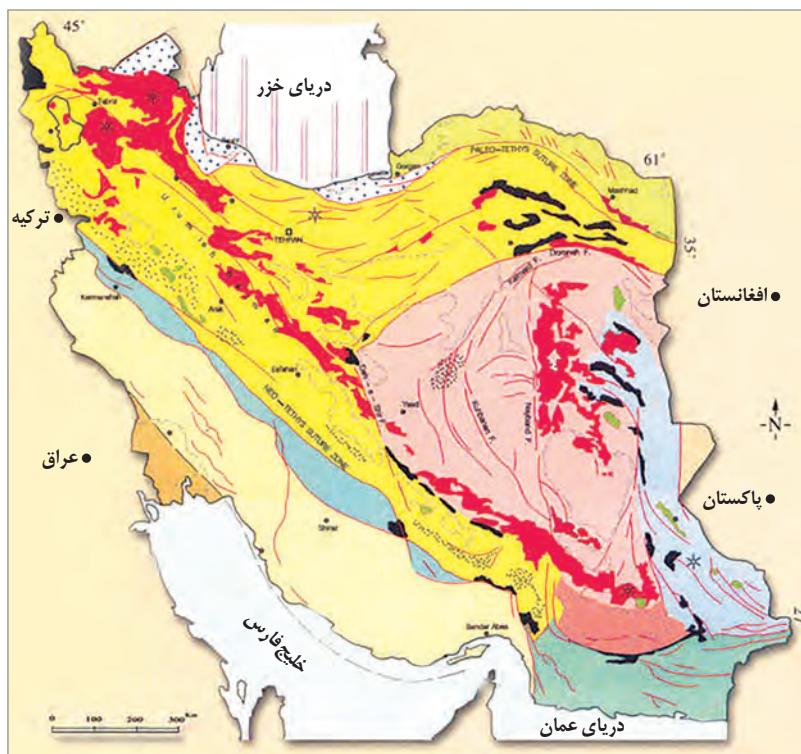
اشتوکلین، علاقه بسیاری به ایران داشت، به طوری که کمتر فرد خارجی را می توان یافت که تا این حد به ایران و ایرانیان عشق ورزیده باشد. در سال ۱۳۵۴، به این نتیجه رسید که وظیفه او در تربیت زمین شناسان خبره به انجام رسیده و بنابراین برای خدمت در کشور نپال عازم آنجا شد؛ اما، همچنان علاقه به ایران، در او وجود داشت تا اینکه در سال ۱۳۵۵ بار دیگر برای سرپرستی بخش اکتشاف در سازمان انرژی اتمی ایران، از وی دعوت به کار شد و او با اشتیاق پذیرفت، زیرا به گفته وی، فرزندانش، ایران را بیشتر از سوئیس، وطن خود می دانستند و به آن علاقه داشتند. پس از پایان این مأموریت، با چشمانی اشکبار عازم سوئیس شد.

اشتوکلین در سال ۲۰۰۶ میلادی خاطرات زندگی هشتاد و چند ساله اش را در یک نوشتار ۱۷۰ صفحه ای به نام «ایران، خاطرات یک زمین شناس» تدوین و تنظیم کرد و آن را به چهار فرزندش که در ایران متولد شده اند، هدیه کرده است. این کتاب با نام «سرزمین پارس، خاطرات و نوشته های یک زمین شناس - یووان اشتوکلین» به فارسی ترجمه و توسط سازمان زمین شناسی و اکتشافات معدنی کشور منتشر شده است. یووان اشتوکلین در ۱۵ آوریل ۲۰۰۸ میلادی (۲۷ فروردین ۱۳۸۷ ه. ش) در خانه اش در شهر کوچکی در سوئیس، چشم از جهان فروبست.

اشتوکلین در بخشی از کتاب خاطرات خود می نویسد:

«... همسرم الیزابت نیز به ایران علاقه زیادی پیدا کرده بود، سه دخترم تبینا، فرانسیسکا و آنژلا و آخرین فرزند که پسری به نام ژرژ است، همگی در ایران متولد شده اند. ایام کودکی و نوجوانی آنها در منزل هایی که اجاره کرده بودم در داودیه، دزاشیب و نیاوران سپری شده، آنها همیشه از خاطراتشان می گویند. از مدرسه ای در قلهک که در آنجا درس خوانده اند، خانواده ها و بچه های هم کلاسی ایرانی که با آنها دوست شده اند. ما همگی با همه گوشه های ایران طی بیست و هفت سال اقامت در این کشور آشنا شدیم. ... علی، راننده سابق و باوفای من در سازمان زمین شناسی که چند سال بعد با تأثر شنیدم تنها فرزند پسرش در جنگ با عراق شهید شده، مرا به فرودگاه مهرآباد برد. به هنگام خداحافظی و روبوسی با من گونه هایش از اشک خیس شده بود. این بار و برای همیشه به جای آنکه از غرب به شرق بیایم، از مشرق به مغرب پرواز می کردم. در ذهنم زندگی نامه نزدیک به سی سال اقامت در ایران را مرور می کردم.

آن روزها از سرزمین پارسیان و قوم مهربان و متمدن و باوفای ایرانی هیچ چیز نمی دانستم ولی امروز همه گوشه های این سرزمین را می شناسم. متعجب و حیرت زده هستم. دلم نمی خواهد غم زده و دلنگ از ایران بروم. وقتی هواپیمای سوئیس ایر صبحگاه از مرز ایران می گذشت و من از پنجره، طلوع آفتاب این روز زمستانی را می نگریم، بی اختیار این جملات بر زبانم جاری شد: ایران باور کن دلم نمی خواهد از تو خداحافظی کنم. آدیوایران، خداحافظ ایران»



شکل ۲-۷. نقشه پهنه بندی زمین شناسی در ایران

منابع معدنی ایران

جمع آوری اطلاعات

- در مورد سنگ‌های آذرین در رشته کوه البرز، اطلاعات جمع آوری کنید و به کلاس گزارش دهید.

در فصل ۲ خواندید که منابع معدنی می تواند زیربنای اقتصاد و توسعه کشورها باشد. اگر کشوری، مواد معدنی مورد نیاز خود را نداشته باشد، چه اتفاقی می افتد؟ آنها را چگونه تأمین می کند؟ آیا می دانید ایران از نظر ذخایر معدنی چه جایگاهی در جهان دارد؟ آیا ما تمام مواد معدنی مورد نیاز را در کشور داریم؟ ایران، دارای ذخایر معدنی مهم و قابل توجهی است که آن را از بسیاری از کشورهای جهان متمایز می کند. فعالیت‌های معدنی در ایران به طور گسترده در بیشتر نقاط کشور انجام می شود و نقش مهمی در اقتصاد کشور دارد. معدن کاری در ایران، قدمت زیادی داشته به طوری که در هر گوشه ایران، آثار معدن کاری قدیمی دیده می شود.

جمع آوری اطلاعات

- در مورد معادن شدادی استان خود اطلاعاتی جمع آوری و در کلاس ارائه کنید.

پیشینیان ما، تجربه بسیار زیادی در اکتشاف و بهره برداری از معادن و به خصوص ذخایر فلزی مانند مس، آهن، طلا، سرب و روی داشته اند، استفاده از فلزات از حدود ۸۵۰۰ سال پیش آغاز گردید. نتایج مطالعات پژوهشگران نشان می دهد استخراج و استفاده از فلزات برای اولین بار در فلات ایران و فلات آناتولی ترکیه صورت گرفت.

بیشتر بدانید

● ایران با حدود ۰/۲۳٪ از مساحت کل کره زمین، حدود ۷ درصد ذخایر معدنی جهان را داراست. بیش از ۵۰ ماده معدنی در کشور تولید می شود. ایران در برخی مواد معدنی، در جهان رتبه های بالایی دارد. مقدار کل ذخایر شناسایی شده قطعی ایران، حدود ۳۷ میلیارد تن برآورد شده است که بخشی از آن در حال استخراج است. در حال حاضر حدود ۵۰۰۰ معدن بزرگ و کوچک فلزی و غیرفلزی در کشور فعال هستند.

بیشتر بدانید

برخی معادن بزرگ ایران و موقعیت آنها

شهرستان	استان	نام معدن	عنصر / ماده معدنی
سیرجان	کرمان	گل گهر	آهن
بافق	یزد	چُغارت، چادرملو، سه چاهون	
خواف	خراسان رضوی	سنگان	
رفسنجان	کرمان	سرچشمه	مس
شهربابک	کرمان	میدوک	
ورزقان	آذربایجان شرقی	سونگون	
کاشمر	خراسان رضوی	تکنار	
تفت	یزد	علی آباد و دره زرشک	
بیرجند	خراسان جنوبی	قلعه زری	
ماه‌نشان	زنجان	انگوران	
مهریز	یزد	مهدی آباد	
فیروزآباد	فارس	سورمه	
اصفهان	اصفهان	ایرانکوه	
شازند	مرکزی	عمارت	
ملایر	همدان	آهنگران	
جیرفت	کرمان	اسفندقه	کروم
سبزوار	خراسان رضوی	سبزوار	
نیریز	فارس	خواجه جمالی	
قم	قم	ونارچ	منگنز
رباط کریم	تهران	رباط کریم	
گلپایگان	اصفهان	موته	طلا
تکاب	آذربایجان غربی	زرشوران	
قروه	کردستان	ساری گونای	
سردشت	آذربایجان غربی	باریکا	
نیشابور	خراسان رضوی	نیشابور	فیروزه
دامغان	سمنان	باغو	آمتیست
شاهرود	سمنان	طرود	
جیرفت	کرمان	اسفندقه	گارنت



نمایی از معدن روباز مس سرچشمه (کرمان) با ذخیره‌ای بیش از ۱ میلیارد و ۲۰۰ میلیون تن

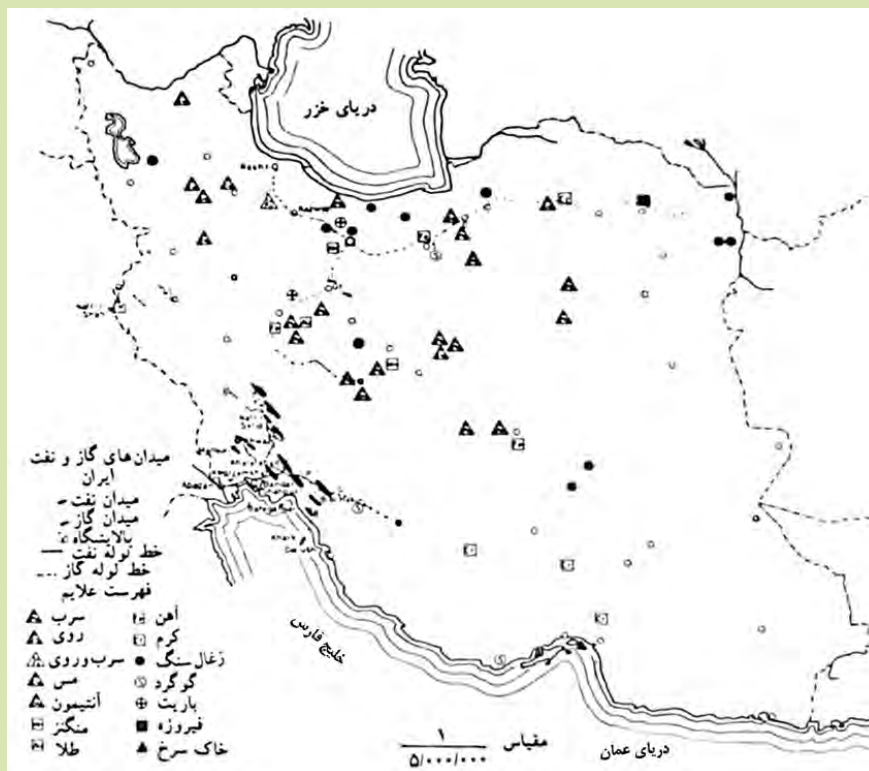
• ایران یکی از ۱۵ کشور بزرگ معدنی جهان است و رتبه دوم جهان را از نظر ذخایر فلدسپار دارد و برای باریت و ژئیس در رتبه پنجم و از نظر سنگ آهن، در رتبه دهم جهان جای دارد. علاوه بر ذخایر فلزهای اساسی مانند آهن، روی، سرب و مس، ایران دارای ذخایر قابل توجهی نیز از آلومینیم، منگنز، مولیبدن، طلا، کروم و نیز مواد معدنی غیرفلزی مورد استفاده در صنعت مانند باریت، سنگ‌های ساختمانی، کائولن و بتونیت است.



معدن مس - مولیبدن سونگون (ورزقان)



نمایی از معدن طلای زرشوران (تکاب)



نقشه پراکنندگی ذخایر فلزی در ایران

ذخایر نفت و گاز ایران

حفاری اولین چاه نفت خاورمیانه از سال ۱۲۸۶ هـ.ش در شهر مسجد سلیمان در استان خوزستان در منطقه‌ای به نام میدان نفتون آغاز شد و در ۵ خرداد ۱۲۸۷ هـ.ش به نفت رسید (شکل ۷-۳ الف). این چاه ۳۶۰ متر عمق داشت که از آن، روزانه ۳۶۰۰۰ لیتر نفت استخراج می‌شد. این چاه به «چاه شماره یک» معروف است و هم اکنون در شهر مسجد سلیمان به صورت موزه، تحت نظارت شرکت ملی مناطق نفت خیز جنوب قرار دارد (شکل ۷-۳ ب).



ب) مسجد سلیمان



الف) اولین چاه حفر شده در ایران



پ) میدان‌های مهم نفتی ایران

ذخایر نفت ایران به‌طور عمده در لایه‌های سنگ آهک قرار دارند. برخی از میدان‌های مهم نفت ایران در جدول صفحه بعد ارائه شده است. (نقشه ۷-۳ پ)

ایران با دارا بودن حدود ۱۰ درصد از نفت جهان، در رده چهارم و از نظر ذخایر گاز، در رده دوم جهان قرار دارد. ذخایر نفت و گاز ایران به‌طور عمده در جنوب و غرب (منطقه زاگرس و خلیج فارس) و در شمال (دریای خزر) قرار دارند. ذخایر گاز خانگیران سرخس در شمال شرق نیز، از ذخایر مهم هیدروکربن در ایران است.

بزرگ‌ترین میدان نفتی ایران، میدان اهواز است که در رده سومین میدان‌های نفتی عظیم جهان قرار دارد.

شکل ۷-۳- اولین چاه حفر شده در ایران - مسجد سلیمان

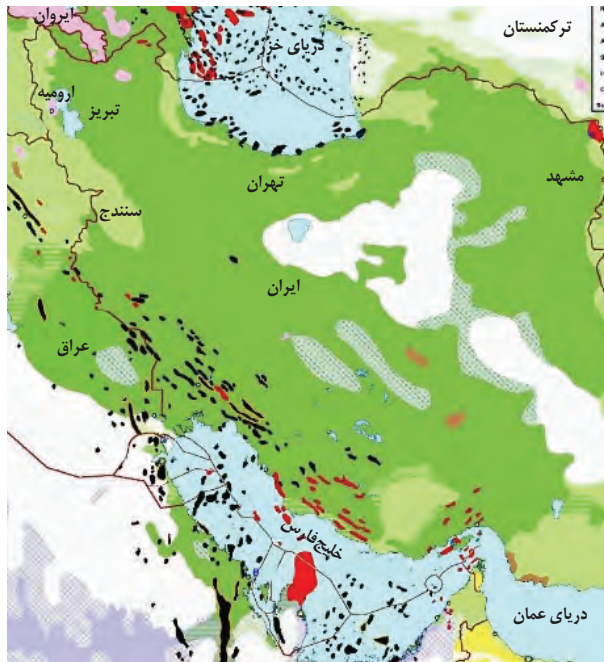
• دو دلیل ذکر کنید که چرا عمده ذخایر نفت ایران در منطقه زاگرس است؟

فکر کنید

برخی از مشخصات میدان های مهم نفتی ایران

رتبه	نام میدان	ذخیره درجا (میلیارد بشکه)	ذخیره قابل برداشت (میلیارد بشکه)	تولید روزانه (هزار بشکه)
۱	میدان نفتی اهواز	۶۵/۵	۳۷	۷۵۰/۰۰۰
۲	میدان نفتی گچساران	۵۲/۹	۲۳/۷	۴۸۰/۰۰۰
۳	میدان نفتی مارون	۴۶/۷	۲۱/۹	۵۲۰/۰۰۰
۴	میدان نفتی آزادگان	۳۳/۲	۵/۲	۴۰/۰۰۰
۵	میدان نفتی آغاچاری	۳۰/۲	۱۷/۴	۳۰۰/۰۰۰
۶	میدان نفتی رگ سفید	۱۶/۵	۳/۴۴	۱۸۰/۰۰۰
۷	میدان نفتی آب تیمور	۱۵/۲	۲/۶	۶۰/۰۰۰
۸	میدان نفتی سروش	۱۴/۲	۱۰	۴۶/۰۰۰
۹	میدان نفتی کرج	۱۱/۲	۵/۷	۲۳۷/۰۰۰
۱۰	میدان نفتی بی بی حکیمه	۷/۵۹	۵/۶۷	۱۲۰/۰۰۰

میدان های گاز پارس جنوبی در خلیج فارس و خانگیران در منطقه سرخس، از مهم ترین میدان های گازی ایران هستند.



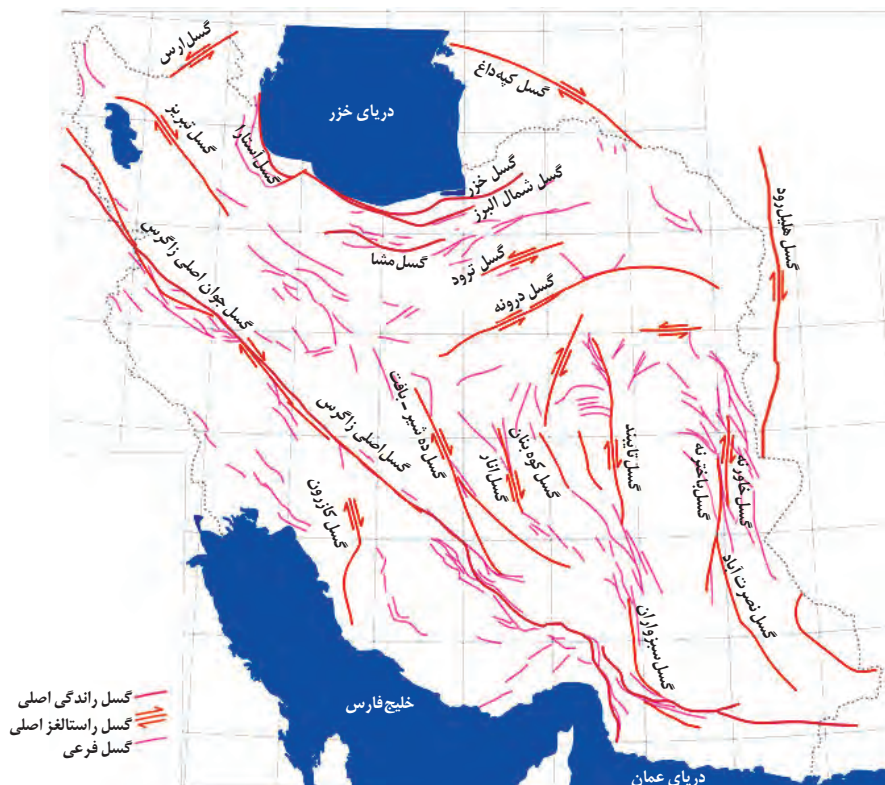
شکل ۴-۷. نقشه پراکنندگی ذخایر نفت و گاز ایران (نقاط سیاه رنگ، محل ذخایر)

گسل های اصلی ایران

پوسته ایران زمین، دارای گسل های متعددی است و کمتر جایی از کشور را می توان یافت که در آنجا گسلی وجود نداشته باشد. وجود این گسل ها، فعالیت پوسته ایران زمین را نشان می دهد. تعدادی از گسل های ایران، قدیمی و غیرفعال و برخی از گسل ها، جوان و لرزه خیز هستند که امروزه زمین لرزه ها، در امتداد آنها رخ می دهد.

پاسخ دهید

- در نزدیکی محل سکونت شما کدام گسل/گسل ها وجود دارد؟ آیا در سال های اخیر این گسل/گسل ها باعث زمین لرزه شده است؟



شکل ۵-۷. نقشه گسل های اصلی ایران

آتشفشان های ایران

مهم ترین کوه های آتشفشانی ایران، دماوند، تفتان، بزمان، سهند و سبلان هستند. دماوند، بلندترین قله آتشفشانی ایران، در گذشته فعال بوده و آثار فعالیت های آن هنوز به صورت خروج گازهای گوگردی در دامنه های نزدیک دهانه آتشفشان دیده می شود.

بیشتر فعالیت های آتشفشانی جوان، در دوره کواترنری در ایران، آتشفشان هایی هستند که در امتداد نوار ارومیه - دختر قرار دارند.



شکل ۶-۷. نقشه پراکندگی قله های آتشفشانی در ایران

بیشتر بدانید

● **دماوند:** آتشفشان مخروطی شکل دماوند با ارتفاع ۵۶۷۱ متر، در بخش میانی رشته کوه البرز، بارزترین فعالیت آتشفشانی دوره کواترنری در ایران است. دامنه کوه دماوند پوشیده از جریان گدازه‌هایی به وسعت ۴۰۰ کیلومتر مربع است. جدیدترین گدازه‌ها در دامنه غربی مخروط قرار گرفته‌اند و روی همین دامنه است که به‌طور محلی مخروط‌هایی از خاکستر وجود دارد. در ارتفاع ۱۰۰ متر پایین‌تر از قله، در ضلع جنوبی دماوند، خروج گازها نمایان می‌شوند. دهانه این آتشفشان با ۳۰۰ متر قطر، با دریاچه‌ای از یخ پوشیده شده است. فعالیت‌های عظیمی که کوه دماوند را به وجود آورده در حدود ده هزار سال قبل و آخرین فوران آن، مربوط به ۷۳۰۰ سال پیش می‌باشد.

● **تفتان:** ارتفاع این قله ۴۰۳۶ متر از سطح تراز دریا است و از دو دهانه آتشفشانی آن، بخارهای گوگرد خارج می‌شود. در ورودی حفره‌های آتشفشانی، بلورهای گوگردی خالص به وفور دیده می‌شوند. نزدیک‌ترین شهر به تفتان، خاش است. تپت در زبان بلوچی به معنای گرما و تفتان، برگرفته شده از تپتان است.

زمین‌گردشگری



شکل ۷-۷- روستای کندوان

سیاره زمین، دارای مناظر و چشم‌اندازهای متنوعی است. این تنوع و گوناگونی، به دلیل اتفاقات و رویدادهای زمین‌شناختی است که در طول تاریخ شکل‌گیری و تکوین این سیاره رخ داده است. کشور ایران از نظر میراث زمین‌شناختی و گوناگونی پدیده‌های زمین‌شناختی، یکی از غنی‌ترین کشورهای جهان است. به همین دلیل زمین‌گردشگری می‌تواند در کشورمان، جایگاه اقتصادی ویژه‌ای داشته باشد.

گروهی از پدیده‌های زمین‌شناختی مانند غارها، گل‌فشان‌ها، آبشارها... که ارزش بالایی از نظر علمی و آموزشی یا زیبایی ویژه داشته و یا بسیار کمیاب هستند، به عنوان میراث زمین‌شناختی معرفی می‌شوند.

تحقیق کنید

- ۱- زمین‌گردشگری چگونه در رونق اقتصادی کشور تأثیر می‌گذارد و شما در زمینه حفاظت از آن چه نقشی می‌توانید داشته باشید؟
- ۲- یکی از جاذبه‌های زمین‌گردشگری در اطراف محل سکونت خود را به کلاس معرفی کنید.

ژئوپارک

برای حفاظت از جاذبه‌های میراث زمین‌شناختی در یک محدوده و بهره‌برداری درست از آنها ژئوپارک ایجاد می‌شود. ژئوپارک، یک محدوده مشخص است که در آن، میراث زمین‌شناختی با جاذبه‌های طبیعی و فرهنگی ویژه واقع شده است. در هر ژئوپارک، مردم آن منطقه با آموزش‌هایی که می‌بینند در حفاظت از جاذبه‌های زمین‌شناختی، طبیعی و فرهنگی همکاری و از این جاذبه‌ها، برای

هیاوا! تخصصی ترین سایت مشاوره کشور

گردشگری بهره‌برداری و کسب درآمد می‌کنند. ژئوپارک باعث می‌شود که جامعه محلی، رشد و رونق اقتصادی و فرهنگی داشته باشد و این میراث‌ها حفظ شود.

اکنون در کشور ما ژئوپارک جزیره قشم به ثبت جهانی رسیده است. با برنامه‌ریزی‌های انجام شده و براساس مطالعات علمی و گردشگری، در سال‌های آینده، تعداد ژئوپارک‌های کشورمان افزایش خواهد یافت.



شکل ۹-۷. چشمه باداب سورت ساری



شکل ۸-۷. دره ستارگان ژئوپارک قشم



شکل ۱۱-۷. غار علیصدر همدان



شکل ۱۰-۷. کوه‌های مریخی چابهار



شکل ۱۲-۷. هوازدگی در روستای وردیج تهران

● ژئوتوریسم: اخیراً رشته جدیدی در گردشگری طبیعت به وجود آمده که توجه اصلی آن به میراث زمین شناختی است. این رشته را زمین گردشگری یا ژئوتوریسم نام گذاری کرده اند. هدف اصلی در زمین گردشگری، تماشا و شناخت پدیده های زمین شناختی است. البته هدف های بیشتری در زمین گردشگری دنبال می شوند.

برخلاف اکوتوریسم (طبیعت گردی) که جاذبه های طبیعت جاندار را در مرکز توجه قرار داده است، این صنعت به طور کلی با جاذبه های طبیعت بی جان سرو کار دارد. مخاطبان زمین گردشگری نه تنها متخصصان و کارشناسان زمین شناسی و ژئومورفولوژی (زمین ریخت شناسی)، بلکه گردشگران عادی و علاقه مندان طبیعت هستند. در جریان فعالیت های زمین گردشگری، بازدیدکنندگان ضمن بازدید از پدیده های زیبا و ویژه زمین شناسی و ژئومورفولوژی، با مبانی پیدایش آنها آشنا می شوند و اهمیت وجودی آنها را در می یابند.

متخصصان این رشته تحصیلی در مراکزی مانند: سازمان زمین شناسی و اکتشافات معدنی کشور و سازمان میراث فرهنگی و گردشگری می توانند در شناخت و معرفی ژئوپارک های جدید، کمک شایانی داشته باشند.



بازالت های منشوری - سریشه بیرجند

Dip	شیب	Subsurface Reserves	ذخایر زیر سطحی	Extinction	انقراض
Strike	امتداد	Alloy Metal	عیار فلز	Dinosaur	دایناسور
Available Storage Capacity	ظرفیت مفید مخزن	Ore Preparation	کانه آرابی	Ice Age	عصر یخبندان
Cavern	مغار	Concentrate	کنسانتره	Eon	ائون
Trench	ترانشه	Chalcopyrite	کالکوپیریت	Era	دوران
Location	مکان یابی	Open - Pit mining	استخراج روباز	Period	دوره
Gabion	گابیون	Underground Mining	استخراج زیرزمینی	Epoch	دور یا عهد
Nailing	میخ کوبی	Gem	گوهر	Trilobite	تریلوبیت
Retaining Wall	دیوار حائل	Opal	اپال	Placoderms	ماهی زردهار
Layer Lining	لایه آستر	Chrysoberyl	کریزوبریل	Lithosphere Plate	ورقه سنگ کره
Layer Procedure	لایه رویه	Opalescence	درخشش اپالی	Asthenosphere	سست (خمیر) کره
Ballast	بالاست	Ruby	یاقوت	Petrochemistry	پتروشیمی
Cortex	بخش اساس	Emerald	زمرد	Quartz	کوارتز
Oripiment	اورپیمان	Source Rock	سنگ مادر	Garnet	گارت
Realgar	رالگار	Primery Migration	مهاجرت اولیه	Borax	بوراکس
Medical Geology	زمین شناسی پزشکی	Oil Trap	نفت گیر	Halite	هالیت
Lake of Element	کمبود عنصر	Reservoir Rock	سنگ مخزن	Sylvite	سیلویت
Element Toxicity	سمیت عنصر	Cap Rock	پوش سنگ	Apatite	آپاتیت
Keratosis Pilaris	شاخی شدن پوست	Petrology	پتروژئولوژی	Limestone	سنگ آهک
Amalgamation	ملقعه کردن	Interception	برگاب	Gypse	ژیپس
Itai - Itai Disease	بیماری ایٹای ایٹای	Capillary Fringe	حاشیه مویینه	Feldspar	فلدسپار
Goitre	گواتر	Topographic Map	نقشه توپوگرافی	Pozzolan	پوزولان
Anthropogenic Grade	غبارهای زمین زاد	Aquifer	آبخوان	Perlit	پرلیت
Silicosis	بیماری سیلیکوسیس	Piezometric Level	سطح پیزومتریک	Corondum	کرنوم
Environmental Geology	زمین شناسی زیست محیطی	Karst Lime	آهک کارستی	Amethyst	آمنیست
Hydrotherapy	آب درمانی	Evaporites Stone	سنگ های تبخیری	Beryl	بریل
Fault	گسل	Water Hardness	سختی آب	Agate	آگات (عقیق)
Folding	چین خوردگی	Fossil Water	آب فسیل	Olivine	الیوین
Fault Surface	سطح گسل	Water Balance	بیان آب	Spinel	اسپینل
Fault Dip	شیب گسل	Loam	خاک لوم	Lapis Lazuli	لاچورد
Fault Strike	امتداد گسل	Soil Profile	نیمرخ خاک	Jade	یشم
Hanging Wall	فرادیواره	Hydrogeology	هیدروژئولوژی	Turquoise	فیروزه
Footwall	فرودیواره	Morphology	مورفولوژی	Baryte	باریت
Goint	درزه	Stress	تنش	Fluorite	فلوئوریت
Oblique Fault	گسل مایل	Tension Stress	تنش کششی	Bentonite	بنتونیت
Normal Fault	گسل عادی	Compressive Stress	تنش فشاری	Kaoline	کائولن
Reverse Fault	گسل معکوس	Shear Stress	تنش برشی	Zeolite	زنولیت
Strike - Slip Fault	گسل امتداد لغز	Coring	مغزه گیری	Diamond	الماس
Earthquake Epicenter	کانون زمین لرزه	Exploratory Bores	گمانه های اکتشافی	Clark Concentration	غلظت کلارک
Earthquake Hypocenter	مرکز سطحی زمین لرزه	Elastic Behavior	رفتار کش سان	Anomaly	بی هنجاری
Internal Waves	امواج درونی	Plastic Behavior	رفتار خمیرسان	Mineral	کانی
Primary Waves	امواج اولیه	Gabbro	گابرو	Plagioclase	پلاژیوکلاز
Secondary Waves	امواج ثانویه	Quartzite	کوارتزیت	Orthoclase	فلدسپار پتاسیم
Surface Waves	امواج سطحی	Hornfels	هورنفلس	Ore Mineral	کانه
Beforeshocks	پیش لرزه	Schist	شیست	Ore	کانسنگ
Aftershocks	پس لرزه	Calcite	کلسیت	Mineral Deposit (Ore Deposit)	کانسار
Magnitude	بزرگا	Dolomite	دولومیت	Mica	میکا
Richter	ریشتر	Borrow Materials	مصالح قرضه	Pyrite	پیریت
Intensity	شدت	Soil Dam	سد خاکی	Placer	پلاسر
Monocline	تک شیب	Concrete Dam	سد بتنی	Mineral Steak	رگه معدنی
Anticline	تاقدیس	Dam Reservoir	مخزن سد	Electronic Conductivity of Rocks	رسانایی الکتریکی سنگ ها
Syncline	ناودیس	Dam Body	بدنه سد	Anomalies of the Eathhs	تغییرات میدان گرانش زمین
Tephra	تفرا	Pill Dam	پی سد	Gravitational Field	

هیاوا! تخصصی ترین سایت مشاوره کشور

Devonian	دوتین	Gondwana	گندوانا	Lava	گدازه
Carboniferous	کربنیفر	Eurasia	اوراسیا	Fumarol	فومرول
Permian	پرمن	Tethys Ocean	اقیانوس تنیس	Pyroclastic	سنگ آذرآوری
Triassic	تریاس	Subduction	فرورانش	Tuff	توف
Jurassic	ژوراسیک	Geotourism	زمین گردشگری	Lapilli	لاپیلی
Cretaceous	کرتاسه	Geopark	ژئوپارک	Block	قطعه سنگ
Paleozoic	پالئوزویک	Hadean	هادئن	Bomb	بمب
Mesozoic	مزوزویک	Archean	آرکنن	Fumarole Stage	مرحله فومرولی
Cenozoic	سنوزویک	Proterozoic	پروتروزوئیک	Geothermal Energy	انرژی زمین گرمایی
Paleogene	پالئوژن	Precambrian	پرکامبرین	Geophysics	ژئوفیزیک
Neogene	نئوژن	Cambrian	کامبرین	Tectonic Structural Geology	تکتونیک و زمین شناسی ساختمانی
Quaternary	کواترنری	Ordovician	اردوویسین	Prismatic Basalt	بازالت منشوری
		Silurian	سیلورین	Mud Volcanoes	گل فشان

منابع

منابع فارسی

- آقناباتی، ع ۱۳۸۴ زمین شناسی ایران. انتشارات سازمان زمین شناسی و اکتشافات معدنی ایران.
- اخروی، ر، ۱۳۸۲، زمین شناسی فیزیکی، انتشارات مدرسه.
- صداقت، محمود، ۱۳۸۲، «زمین و منابع آب»، انتشارات دانشگاه پیام نور.
- عباس نژاد، احمد، ۱۳۸۴، «خاک شناسی برای زمین شناسان»، انتشارات دانشگاه شهید باهنر کرمان.
- علیزاده، امین، ۱۳۸۳، «اصول هیدرولوژی کاربردی»، انتشارات آستان قدس رضوی.
- قبادی، محمدحسین، ۱۳۸۵، «مبانی زمین شناسی مهندسی»، انتشارات دانشگاه بوعلی سینا.
- مایکل پرایس، ۱۳۷۰، «مقدمه‌ای بر آب زیرزمینی»، ترجمه ولایتی و رضایی، انتشارات خراسان.
- مدبری، س. ۱۳۸۴، زمین شناسی نفت، مرکز نشر دانشگاهی.
- معماریان، حسین، ۱۳۸۴، «زمین شناسی مهندسی و ژئوتکنیک»، انتشارات دانشگاه تهران.

منابع لاتین

- Klein, C., & Philpotts, A. R. (2013). Earth materials: introduction to mineralogy and petrology. Cambridge University Press.
- Kesler, S. E., & Simon, A. C. (2015). Mineral resources, economics and the environment. Cambridge University Press.
- Leonard Capper, P. and Fisher Cassie, W., 1976, "The Mechanics of Engineering Soils", Spon LTD.
- Selinus, O., & Alloway, B. J. (2013). Essentials of medical geology. Springer.
- Stampfli, G. M., Hochard, C., Vérard, C., & Wilhem, C. (2013). The formation of Pangea. Tectonophysics, 593, 1-19
- Tarbuck, E. J., Lutgens, F. K. & Tasa D. (2014). Earth: an introduction to physical geology. Pearson Pub.
- Todd, D. K. and Mays, L. W., 2005, "Groundwater Hydrology", John Wiley.

■ وب گاه‌های علمی در فضای اینترنت



هیاوا! تخصصی ترین سایت مشاوره کشور

سازمان پژوهش و برنامه‌ریزی آموزشی جهت ایفای نقش خطیر خود در اجرای سند تحول بنیادین در آموزش و پرورش و برنامه درسی ملی جمهوری اسلامی ایران، مشارکت معلمان را به‌عنوان یک سیاست اجرایی مهم دنبال می‌کند. برای تحقق این امر در اقدامی نوآورانه سامانه تعاملی بر خط اعتبارسنجی کتاب‌های درسی راه‌اندازی شد تا با دریافت نظرات معلمان درباره کتاب‌های درسی نونگاشت، کتاب‌های درسی را در اولین سال چاپ، با کمترین اشکال به دانش‌آموزان و معلمان ارجمند تقدیم نماید. در انجام مطلوب این فرایند، همکاران گروه تحلیل محتوای آموزشی و پرورشی استان‌ها، گروه‌های آموزشی، دبیرخانه راهبری درس و مدیریت محترم پروژه آقای محسن باهو نقش سازنده‌ای را بر عهده داشتند. ضمن ارج نهادن به تلاش تمامی این همکاران، اسامی دبیران و هنرآموزانی که تلاش مضاعفی را در این زمینه داشته و با ارائه نظرات خود سازمان را در بهبود محتوای این کتاب یاری کرده‌اند به شرح زیر اعلام می‌شود.

اسامی دبیران و هنرآموزان شرکت کننده در اعتبارسنجی کتاب زمین شناسی با کد ۱۱۱۲۳۷

ردیف	نام و نام خانوادگی	استان محل خدمت	ردیف	نام و نام خانوادگی	استان محل خدمت
۱	افسر عالیان	یزد	۲۳	افسانه عزیزیان	ایلام
۲	معصومه حیدریان	همدان	۲۴	سید علیرضا فلاح	شهرستان‌های تهران
۳	محمد حسین سیف	همدان	۲۵	خدیجه امانی هفشجانی	البرز
۴	سیده فاطمه مرتضوی	چهارمحال و بختیاری	۲۶	سالار شایگان	گیلان
۵	سید زهرا افشونی	شهرستان‌های تهران	۲۷	شهربانو احمدی	مازندران
۶	طاهره نادری	کرمان	۲۸	ملیحه حمیدی پور	سمنان
۷	رسول سوزنی	خراسان شمالی	۲۹	علی اصغر ربانی فرد	گلستان
۸	مریم مومنی	مرکزی	۳۰	نجمیه غلامی	هرمزگان
۹	غلامرضا زاهدی پور	خراسان جنوبی	۳۱	محمد حسین صمدی	کردستان
۱۰	فضل الله ایمانیان	اصفهان	۳۲	سمیه محمدی	آذربایجان غربی
۱۱	معصومه مجملی رنانی	اصفهان	۳۳	رقیه موید	آذربایجان شرقی
۱۲	ملکه سادات سجادی	قزوین	۳۴	شبنم لقائیان	آذربایجان شرقی
۱۳	اعظم داستان	اردبیل	۳۵	علی اکبر احمدی	خراسان رضوی
۱۴	زهرا پسران	فارس	۳۶	روح الله زیرم	ایلام
۱۵	محمدهادی رئوفی زاده	هرمزگان	۳۷	مریم اکاتی	سیستان و بلوچستان
۱۶	علی یاری	شهر تهران	۳۸	حسینعلی چهارنایی	گلستان
۱۷	فاروق ایزدی	کرمانشاه	۳۹	کامران اسماعیلی	چهارمحال و بختیاری
۱۸	عظیمه رهبر کوهی	گیلان	۴۰	وجیه حبیبی	کرمانشاه
۱۹	مریم رفیعی	فارس	۴۱	عبدالرحمان چمن آرا	کهگیلویه و بویراحمد
۲۰	فاطمه نقدی	شهر تهران	۴۲	مریم ستوده	کهگیلویه و بویراحمد
۲۱	منصوره ایرانمنش	کرمان	۴۳	ناهید یزدانفر	تهران
۲۲	محمد عقابی	خراسان جنوبی	۴۴	شهلا مغزی نجف‌آبادی	خراسان جنوبی