

هيو! تخصصى ترين سايت مشاوره كشور

بسم الله الرحمن الرحيم



علوم تجربى

سوم دبستان


وزارت آموزش و پرورش سازمان پژوهش و برنامه‌ریزی آموزشی



علوم تجربی سوم دبستان - ۳۰۶
سازمان پژوهش و برنامه‌ریزی آموزشی
دفتر تألیف کتاب‌های درسی عمومی و متوسطه نظری
آمنه احمدی، احمد احمدی، محمود امانی تهرانی، پرویز انصاری‌راد، محمدحسن بازوبندی، عابد بدریان، ناهید بریری، سیدمرتضی جدی‌آرانی، حسن حذرخانی، محمدحسینی، محمدتقی زائری، معصومه سلطانی‌مطلق، دوست محمد سمیعی، مریم شباک، حسن طاهری، الهه علوی، فائزه فاضلی، بهمن فخریان، زینوس کشتکاری، الهام سادات میرمحمدی و حمید نقی‌زاده (اعضای شورای برنامه‌ریزی)
آمنه احمدی، مریم انصاری، مرتضی جدی‌آرانی، عزت‌السادات حسینی، طاهره رستگار، معصومه سلطانی‌مطلق، دوست محمد سمیعی، مریم شباک، فائزه فاضلی، بتول فرنوش و زهرا نیکنام (اعضای گروه تألیف) - حسن حذرخانی، حسن طاهری (ویراستار علمی) - محمدکاظم بهنیا (ویراستار ادبی)
اداره کل نظارت بر نشر و توزیع مواد آموزشی
احمدرضا امینی (مدیر امور فنی و چاپ) - مجید ذاکری یونسی (مدیر هنری) - احسان رضوانی (طراح گرافیک، صفحه‌آرا و طراح جلد) - سیده‌الناز هاشم‌منیری، زهرا پرکاه، سید جلال‌الدین موسوی، سید علی موسوی، علی مهاجران، بارید صفایی ماهرو، احمد نشان، طیبه رحیمی و ابوالفضل بهرامی (عکاس) - سیاوش ذوالفقاریان، سیده‌الناز هاشم‌منیری، زهرا پرکاه و بهاره جابری (تصویرگر) - فاطمه باقری‌مهر، فرشته ارجمند، نوشین معصوم‌دوست، فاطمه پزشکی، ناهید ختیم‌باشی (امور آماده‌سازی)
تهران: خیابان ایرانشهر شمالی - ساختمان شماره ۴ آموزش و پرورش (شهید موسوی) تلفن: ۸۸۸۳۱۱۶۱-۹، دورنگار: ۸۸۳۰۹۲۶۶، کد پستی: ۱۵۸۴۷۷۳۵۹
شرکت افست: تهران - کیلومتر ۴ جاده‌ی آبعلی، پلاک ۸، تلفن: ۷۷۳۳۹۰۹۳، دورنگار: ۷۷۳۳۹۰۹۷، صندوق پستی: ۱۱۱۵۵-۴۹۷۹
شرکت افست «سهامی عام» (www.Offset.ir)
چاپ هفتم ۱۳۹۸
برای دریافت فایل pdf کتاب‌های درسی به پایگاه کتاب‌های درسی به نشانی www.chap.sch.ir و برای خرید کتاب‌های درسی به سامانه فروش و توزیع مواد آموزشی به نشانی www.irtextbook.ir یا www.irtextbook.com مراجعه نمایید.

نام کتاب:
پدیدآورنده:
مدیریت برنامه‌ریزی درسی و تألیف:
شناسه افزوده برنامه‌ریزی و تألیف:
مدیریت آماده‌سازی هنری:
شناسه افزوده آماده‌سازی:
نشانی سازمان:
ناشر:
چاپخانه:
سال انتشار و نوبت چاپ:

کلیه‌ی حقوق مادی و معنوی این کتاب متعلق به سازمان پژوهش و برنامه‌ریزی آموزشی وزارت آموزش و پرورش است و هرگونه استفاده از کتاب و اجزای آن به صورت چاپی و الکترونیکی و ارائه در پایگاه‌های مجازی، نمایش، اقتباس، تلخیص، تبدیل، ترجمه، عکس برداری، نقاشی، تهیه فیلم و تکثیر به هر شکل و نوع بدون کسب مجوز از این سازمان ممنوع است و متخلفان تحت پیگرد قانونی قرار می‌گیرند.



یکی از فرزندان امام نقل کرده است:

یکی از صفات امام، صرفه جویی در امور زندگی بود. ایشان همیشه به ما سفارش می کردند که به اندازه، غذا درست کنیم تا اضافه نیاید و در زندگی زیاد مصرف نکنیم. امام همیشه گوشزد می کردند که «الان ما در وضعی هستیم که امکان دارد وضع [زندگی] بعضی از خانواده ها به سختی بگذرد».

فهرست

- ۹ درس ۱ زنگ علوم
- ۱۳ درس ۲ خوراکی‌ها
- ۱۹ درس ۳ مواد اطراف ما
- ۲۷ درس ۴ اندازه‌گیری مواد
- ۳۵ درس ۵ آب ماده‌ی با ارزش



- ۴۳ درس ۶ زندگی ما و آب
- ۵۱ درس ۷ نور و مشاهده‌ی اجسام
- ۵۹ درس ۸ جست‌وجو کنیم و بسازیم
- ۶۳ درس ۹ نیرو، همه جا (۱)
- ۷۳ درس ۱۰ نیرو، همه جا (۲)
- ۸۱ درس ۱۱ بکارید و ببینید
- ۸۹ درس ۱۲ هر کدام جای خود (۱)
- ۹۹ درس ۱۳ هر کدام جای خود (۲)
- ۱۰۹ درس ۱۴ از گذشته تا آینده



سخنی با همکاران ارجمند

علوم تجربی یکی از یازده حوزه‌ی یادگیری در برنامه‌ی درسی ملی است. براساس جهت‌گیری‌های این برنامه، علوم تجربی کوشش انسان برای درک واقعیت‌های آفرینش و کشف فعل خداوند تعریف شده است. در همین راستا، شناخت و استفاده‌ی مسئولانه از طبیعت به مثابه بخشی از خلقت الهی با هدف تکریم، آبادانی و آموختن از آن برای ایفای نقش سازنده در ارتقای سطح زندگی فردی، خانوادگی، ملی و جهانی از ضرورت‌های علوم تجربی قلمداد می‌شود. به همین دلیل باید همه‌جانبه‌نگری، رویکرد تلفیقی، تفکر، آگاهی، توانایی ایجاد ارتباط بین آموزه‌های علمی و زندگی واقعی و به عبارتی کسب علم سودمند و هدفدار که بتواند انسان‌هایی مسئولیت‌پذیر، متفکر و خلاق پرورش دهد در سازماندهی محتوا و آموزش مورد توجه قرار گیرد.

به‌منظور حرکت در جهت تحقق این اهداف و همسوسازی این حوزه با برنامه‌ی درسی ملی، توجه همکاران گرامی را به نکات زیر جلب می‌کنیم:

درس علوم، درسی است که به‌آسانی می‌تواند بین چهار عرصه یعنی خود، خلق، خلقت و خالق متعال ارتباطی منسجم، منطقی و معنادار به‌وجود آورد.

کلاس علوم باید فضایی شاد و پرجنب‌وجوش باشد که مشاهده، تجربه، آزمایش، گفت‌وگو، تفکر، اظهارنظر و همکاری گروهی در آن جریان دارد؛ نباید آن را به محلی برای ساکت نشستن و شنیدن تبدیل کرد.

کتاب علوم، منبعی است برای معرفی فعالیت‌های یادگیری و آنچه در عمل باید انجام شود؛ نباید آن را به منبعی برای تصویرخوانی تبدیل کرد.

معلم علوم، هم تصمیم‌گیرنده درباره‌ی فرایند یادگیری (طراح آموزشی) است و هم راهنمای



یادگیری دانش آموزان.

پیش از تدریس هر درس، همیشه به منابع یادگیری همچون کتاب راهنمای معلم و دیگر رسانه‌های آموزشی معلمان مانند فیلم و نرم‌افزار مراجعه نمایید. یادگیری از همکاران نیز یک منبع یادگیری مفید به‌شمار می‌آید. هر درس علوم، درباره‌ی یک زمینه‌ی یادگیری شکل می‌گیرد و فرصتی را فراهم می‌کند که دانش‌آموزان «شایستگی یادگرفتن» را کسب کنند. این فرصت‌های یادگیری را نباید به پرسش و پاسخ‌های حافظه‌مدار تبدیل کرد. به هدف‌های اصلی هر درس توجه داشته باشید. کاری کنید که دانش‌آموزان در موقعیت یادگیری مناسب قرار بگیرند و به توانمندی‌ها و شایستگی‌هایی که در کتاب راهنمای معلم ذکر شده، دست یابند. در تدریس علوم به همراه کتاب درسی تا حد امکان از مواد آموزشی دیگر مانند فیلم، نرم‌افزار آموزشی و کتاب کار بهره بگیرید.

اگر نمایش فیلم‌های علوم در کلاس امکان‌پذیر نیست در فضای دیگری از مدرسه این امکان را به‌وجود آورید که دانش‌آموزان بتوانند فیلم‌های تهیه شده برای هر درس را ببینند و به‌عنوان یک منبع یادگیری درباره‌ی آن با هم گفت‌وگو کنند و از آن بیاموزند.

در فعالیت‌های علوم، سه نوع کار را بگنجانید: فعالیت فردی، فعالیت گروهی و فعالیت کلاسی (دسته‌جمعی). محیط یادگیری علوم را متنوع کنید. گاهی کلاس را به بیرون ببرید و گاهی بیرون را به کلاس بیاورید! در ارزشیابی علوم، زمان خاصی وجود ندارد. تمامی لحظه‌های کلاس علوم، زمان مناسبی برای مشاهده‌ی رفتار و عملکرد دانش‌آموز و سوق دادن او به سمت یادگیری بهتر است این پیام اصلی رویکرد «ارزشیابی در خدمت یادگیری» را مدنظر داشته باشید.

مدیران و آموزگاران در اجرای طرح جدید آموزش علوم با همدلی، همکاری و پشتیبانی از یکدیگر می‌توانند فضایی سازنده و پیش‌برنده را در مدرسه به‌وجود آورند و زمینه‌ساز حل بسیاری از مشکلات موجود باشند.

سخنی با والدین گرامی

علوم در همه جا: درس علوم تنها در مدرسه و کلاس درس اجرا نمی‌شود؛ بلکه تمامی عرصه‌های زندگی، محل یادگیری علوم است و شما می‌توانید معلم علوم فرزند خود باشید و همه‌جا را به کلاس علوم تبدیل کنید. **کمک آری، جایگزینی نه:** فرزندان خود را در فعالیت‌ها یاری کنید، اما جایگزین آنها نشوید. برای این منظور در برخی از صفحات کتاب مطالبی درون کادرهای آبی رنگ آمده است. **پشتیبانی از مدرسه:** همیشه مدرسه را در تهیه‌ی وسایل مورد نیاز فعالیت‌ها پشتیبانی نمایید. **توجه به پرسش‌ها:** کنجکاوی و پرسشگری را در فرزند خود تقویت کنید و پرسش‌های او را مورد توجه قرار دهید. **پرسید:** با فرزند خود درباره‌ی آنچه در کلاس علوم اتفاق می‌افتد، گفت‌وگو کنید. پرسید چه کار کردی؟ چه پرسیدی؟ چه یاد گرفتی؟

وسایل خانگی: هنگام کار با وسایل خانگی و لوازم منزل، اصول علمی آنها را به کودک آموزش دهید. **تمرین یادگیری:** هر رسانه‌ی عمومی (صدا و سیما، مجلات، کتاب‌ها و...) می‌تواند یک منبع یادگیری باشد. شما این امکان را به واقعیت تبدیل کنید.

لذت یادگیری: بسیاری از آزمایش‌ها در خانه قابل اجرا هستند. لذت یادگیری همراه با فرزند خود را هرگز از دست ندهید. کتاب‌خوانی نیز یک فعالیت علمی به‌شمار می‌آید.

توجه به جای تشویق: به‌جای تشویق فرزند خود و دادن جایزه، سعی کنید با توجه و دقت به کار او، احساس رضایت‌مندی و تأیید خود را نشان دهید.

همکاری با گروه: فرزند خود را به همکاری با دیگر دانش‌آموزان در مدرسه ترغیب کنید. او باید طعم موفقیت را در گروه بچشد.

علوم و مشاغل: درباره‌ی شغل‌های مختلفی که در جامعه وجود دارد و ارتباط هر شغل با علم و فناوری با فرزند خود گفت‌وگو کنید.

نگاه عمیق به یادگیری: کتاب درسی را به منبعی برای پرسش و پاسخ‌های حفظی تبدیل نکنید. **ایمنی، قبل از هر چیز:** نکات ایمنی، بهداشتی و پیشگیری را مستقیماً و با جدیت به فرزند خود آموزش دهید. **خواندن کلید یادگیری:** ایجاد توانمندی «خواندن همراه با درک و فهم متن‌های اطلاعاتی و ادبی» یک هدف آموزشی بسیار مهم است و در یادگیری مادام‌العمر نقش بسیار مهمی دارد. این کار از طریق خواندن کتاب، همراه با دادن فرصت تأمل، دریافت و تفکر درباره‌ی مطالب آن، تقویت می‌شود.

زنگ علوم



مریم، سارا و زهرا درباره‌ی خوراکی‌هایی که برای زنگ تفریح آورده‌اند با یکدیگر گفت‌وگو می‌کنند:

سارا: من نان، پنیر، گردو و سبزی دارم.

مریم: من سیب آورده‌ام.

زهرا: من شیر آورده‌ام.

مریم: می‌خواهم بدانم بچه‌های دیگر کلاس، دوست دارند چه خوراکی‌هایی را در زنگ تفریح بخورند؟

زهرا: بیایید اوّل با خانم معلّم صحبت کنیم.

هیاوا! تخصصی ترین سایت مشاوره کشور



معلم: بهتر است اول پرسش خود را بنویسید؛ سپس آن را از همکلاسی های خود پرسید و پاسخ دوستانتان را در جدولی مانند جدول زیر بنویسید.

ردیف	نام دانش آموز	خوراکی هایی را که دوست دارد



سارا: ما باید اطلاعاتی را که به دست می آوریم، مرتب کنیم؛ اما نمی دانیم چگونه؟

هیاوا! تخصصی ترین سایت مشاوره کشور

معلم: بهتر است اطلاعات به دست آمده را در جدولی مانند جدول زیر مرتب کنید.

ردیف	نام دانش آموز	میوه	لقمه	خشکبار	نوشیدنی	چیزهای دیگر

زهرا: من پیشنهاد می کنم از پدر و مادرها هم پرسیم که چه خوراکی هایی را برای زنگ تفریح بچه ها مناسب می دانند؟

ردیف	نام خانوادگی پدر و مادر	خوراکی هایی را که مناسب می دانند

معلم: می توانید سؤال خود را از کسانی که در مورد تغذیه اطلاعات دارند، مثل پزشک، مربی بهداشت و متخصص تغذیه نیز پرسید.





معلم: حالا می‌توانید اطلاعاتی را که جمع‌آوری کرده‌اید در جدولی مانند جدول زیر مرتب کنید.

نام خوراکی	میوه	لقمه	خشکبار	نوشیدنی	چیزهای دیگر
تعداد دانش‌آموزانی که خوراکی را دوست دارند.	۱۵
تعداد پدر و مادرهایی که خوراکی را مناسب می‌دانند.	۱۲
.....

با توجه به جدول، نظر دانش‌آموزان و پدر و مادرها را در مورد خشکبار با هم مقایسه کنید.

راستی می‌دانید کاری که شما کردید، شبیه کاری است که یک دانشمند برای جمع‌آوری اطلاعات انجام می‌دهد.

۲ خوراکی‌ها





در گروه خود فهرستی از خوراکی‌هایی که در یک روز مصرف می‌کنید، تهیه کنید و در جدول بنویسید.



	صبحانه
	ناهار
	شام

شما برای حرکت کردن، نفس کشیدن، صحبت کردن، کار کردن، فکر کردن، نوشتن، غذا خوردن و انجام دادن همه‌ی کارها به غذای سالم و مناسب نیاز دارید.



مصرف زیاد شکر و نمک به بدن آسیب می‌رساند.

هیاوا! تخصصی ترین سایت مشاوره کشور

مقایسه

فهرستی را که در فعالیت صفحه‌ی قبل تهیه کردید با جدول گروه‌های مواد غذایی مقایسه کنید. فهرست شما شامل کدام گروه‌های مواد غذایی می‌شود؟



گروه‌های مواد غذایی



ایستگاه فکر


با بررسی خوراکی‌های روزانه‌ی خود، نام خوراکی‌هایی را بنویسید که خوردن آنها برای سلامتی ما مناسب نیست.

گفت و گو

می‌دانید که آش رشته یکی از غذاهای ایرانی است. برای پختن این غذا از کدام گروه‌های مواد غذایی استفاده می‌شود؟

هیاوا! تخصصی ترین سایت مشاوره کشور

هر یک از گروه‌های غذایی، بعضی از نیازهای بدن ما را برآورده می‌کنند. دانش آموزان یک کلاس در این باره اطلاعات زیر را جمع‌آوری کرده‌اند.



شما هم این فعالیت را انجام دهید و اطلاعات بیشتری در مورد گروه‌های مواد غذایی جمع‌آوری کنید.



گفت و گو

برخی از خوراکی‌ها مواد نگهدارنده و افزودنی‌های مجاز دارند. در گروه خود فهرست خوراکی‌های بسته‌بندی شده‌ای را که مصرف می‌کنید، بنویسید. نوشته‌های روی بسته‌بندی آنها را بررسی و مشخص کنید کدام خوراکی‌ها مواد نگهدارنده و افزودنی‌های مجاز دارند. درباره‌ی نقشی که این مواد در تهیه‌ی خوراکی‌ها دارند، با معلم خود گفت و گو کنید.

هیاوا! تخصصی ترین سایت مشاوره کشور

علم و زندگی



برای سالم ماندن مواد غذایی باید آنها را در شرایط مناسب نگهداری کرد.

گفت و گو



با همکلاسی‌های خود در مورد محل و شرایط مناسب نگهداری انواع غذاها گفت و گو کنید و آن را به کلاس گزارش دهید.



هشدار

بیشتر مواد غذایی که از بازار می‌خرید، تاریخ مصرف دارند. در موقع خرید به تاریخ مصرف آنها توجه کنید.

فعالیت



با توجه به محل زندگی خود، یک نمونه غذا را به کمک معلم و همکلاسی هایتان درست کنید.
در تهیه این غذا، کدام مواد غذایی را به کار برده‌اید؟ به نظر شما غذایی که درست کرده‌اید برای کدام وعده‌ی غذایی مناسب است؟ چرا؟



مواد اطراف ما ۳



فعالیت




حباب بسازید

یک تکه صابون مصرف نشده بردارید و آن را رنده کنید.



کمی از صابون رنده شده را در یک لیوان آب گرم بریزید، آن قدر آب و صابون این لیوان را هم بزنید تا صابون ناپدید شود.
یک حلقه سیم نازک را به شکل دایره‌های کوچک و بزرگ درآورید.



با استفاده از آب صابون و به کمک حلقه‌هایی که درست کرده‌اید، حباب بسازید.



می‌توانید به جای حلقه‌ی سیم نازک، از نی، لوله‌ی خودکار یا وسایلی مثل آنها استفاده کنید.
نام مواد و وسایلی را که برای ساختن حباب استفاده کردید در جدول زیر بنویسید و جامد یا مایع بودن آنها را مشخص کنید.

			نام ماده
			جامد یا مایع

حباب‌هایی که ساخته‌اید از چه چیز پر شده‌اند؟

گاز چیست؟

یک بادکنک بردارید و آن را باد کنید. چرا هنگام باد کردن بادکنک، اندازه‌ی آن به تدریج بزرگ تر می‌شود؟



هنگام باد کردن بادکنک، هوا را وارد آن می‌کنیم. هوا مانند صابون و آب، یک ماده است؛ اما این ماده مثل صابون حالت جامد و مثل آب، حالت مایع ندارد.



هوا ماده‌ای است که حالت گازی دارد. گازها مانند هوا در همه جای ظرف پخش می‌شوند. به موادی مانند هوا که در همه جای ظرف پخش می‌شوند، **گاز** می‌گویند. آیا مایع نیز مانند گاز در همه جای ظرف پخش می‌شود؟

گفت و گو

این تصویرها استفاده‌های گوناگون از گازها را در زندگی نشان می‌دهند. درباره‌ی آنها گفت و گو کنید.



غواص زیر آب با کپسول هوا



بادکنک پر شده از هوا



استفاده از گاز اکسیژن برای تنفس بیماران



بالون پر شده از هوای گرم



گاز شهری برای پختن غذا



کپسول کربن دی اکسید برای خاموش کردن آتش

علم و زندگی




انسان و همه ی گیاهان و جانوران برای زنده ماندن به هوا نیاز دارند. در اطراف ما هوا وجود دارد؛ اما چون این ماده رنگ ندارد، آن را نمی بینیم.

مواد همیشه به یک حالت باقی نمی‌مانند

شما هر روز در اطراف خود، مواد گوناگونی را به حالت‌های جامد، مایع و گاز می‌بینید. تصویرهای زیر حالت‌های مختلف آب را نشان می‌دهند. هر تصویر، آب را در کدام حالت نشان می‌دهد؟



آیا حالت‌های ماده می‌توانند به یکدیگر تبدیل شوند؟ آزمایش‌های زیر، شما را برای یافتن جواب این سؤال کمک می‌کنند. آزمایش ۱- در یک ظرف، چند تکه یخ و در ظرف دیگر مقداری کره بگذارید؛ کمی صبر کنید، تغییرات را به دقت مشاهده کنید و بنویسید.



یخ و کره حالت جامد دارند. اگر به اندازه‌ی کافی گرما دریافت کنند، به حالت مایع تبدیل می‌شوند. تبدیل یک ماده از حالت جامد به حالت مایع، **ذوب** نامیده می‌شود.



در زندگی روزمره ذوب شدن چه موادی را مشاهده کرده‌اید؟

اگر آب را در جایی یخچال بگذاریم، آب از حالت مایع به حالت جامد تبدیل می‌شود. تبدیل یک ماده از حالت مایع به جامد، **انجماد** نامیده می‌شود.



آزمایش ۲- در حیاط مدرسه کمی آب بریزید و دور آن خط بکشید. هر یک ساعت به آن سر بزنید و دور آب‌های موجود خط بکشید. آیا محل خط بسته‌ی شما تغییر می‌کند؟



آب، حالت مایع دارد. هنگامی که به اندازه‌ی کافی گرما دریافت کند، بخار شده و به حالت گاز تبدیل می‌شود. تبدیل یک ماده از حالت مایع به گاز را **تبخیر** می‌نامند.



در زندگی روزمره چه نمونه‌هایی از تبخیر آب را سراغ دارید؟

۴ اندازه گیری مواد



فعالیت

علی و رضا با لیوان‌های خود مقدار آب درون یک پارچ را اندازه‌گیری کرده‌اند. آنها نتایج کار خود را در جدول زیر نوشته‌اند. شما نیز این فعالیت را در گروه خود انجام دهید.



رضا	علی	نام دانش‌آموز
۷	۵	تعداد لیوان آب

چرا عددهای متفاوتی به دست آمده است؟ برای اینکه نتیجه‌ی اندازه‌گیری آنها یکسان باشد، چه پیشنهادی دارید؟

هیاوا! تخصصی ترین سایت مشاوره کشور

علی و پدرش از بازار، مایعات زیر را خریده‌اند. از هر مایع چه مقدار خریده‌اند؟



دوغ	مایع ظرفشویی	روغن	مایع
		۲ لیتر	مقدار خریداری شده

در زندگی روزمره برای اندازه‌گیری و بیان حجم مایعات از یکای لیتر استفاده می‌شود.




چند ظرف پر از آب در کلاس قرار گرفته است. هر گروه یکی از ظرف‌ها را بر می‌دارد و حدس می‌زند چند لیتر آب دارد؟ بعد حدس خود را آزمایش می‌کند. شما هم این کار را انجام دهید و بگویید چگونه درستی و نادرستی حدس خود را آزمایش می‌کنید.

هیاوا! تخصصی ترین سایت مشاوره کشور

ترازو بسازید و اندازه گیری کنید

وسایل لازم: دو لیوان کاغذی، شش تکه نخ هم اندازه، چوب یا لوله ی پلاستیکی، یک تکه نخ کوتاه، یک میخ

- ۱- با میخ در هر لیوان سه سوراخ با فاصله ی یکسان ایجاد کنید.
- ۲- به هر سوراخ یک نخ وصل کنید. انتهای نخ ها را به هم گره بزنید.
- ۳- انتهای نخ ها را به دو سر چوب ببندید.
- ۴- یک تکه نخ کوتاه را درست در وسط چوب به عنوان تکیه گاه گره بزنید.



فعالیت



۱- چند عدد بیسکویت ساده را در یک کفه‌ی ترازو قرار دهید. در کفه‌ی دیگر ترازو به قدری حبه‌ی قند بگذارید تا دو کفه‌ی آن روبه‌روی هم قرار گیرند.
۲- حبه‌های قند و بیسکویت‌ها را به‌طور جداگانه بکوبید و به شکل پودر درآورید. دوباره آنها را در دو کفه‌ی ترازو قرار دهید. مشاهدات خود را بنویسید. از این بازی علمی چه نتیجه‌ای می‌گیرید؟

فاطمه و علی همراه پدر و مادر خود در میوه‌فروشی هستند. آنها می‌خواهند برای خود و مادر بزرگ خرید کنند.
با دقت به تصویرها نگاه کنید. به نظر شما کدام یک مقدار سیب بیشتری خریده است؟



هیا! تخصصی ترین سایت مشاوره کشور

همه ی اجسام از ماده تشکیل شده اند. مقدار ماده ی تشکیل دهنده ی هر جسم را **جرم** آن جسم می نامند. جرم جسم را با ترازو اندازه می گیرند.



فعالیت



جرم موادی که فاطمه و علی خریده اند در جدول زیر آمده است.

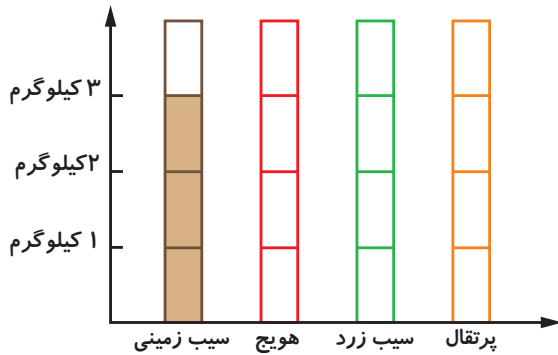
علی	
۳ کیلوگرم	سیب زمینی
۱ کیلوگرم	هویج
۲ کیلوگرم	سیب زرد
۲ کیلوگرم	پرتقال

فاطمه	
۱ کیلوگرم	سیب زمینی
۱ کیلوگرم	هویج
۱ کیلوگرم	سیب زرد
۲ کیلوگرم	پرتقال

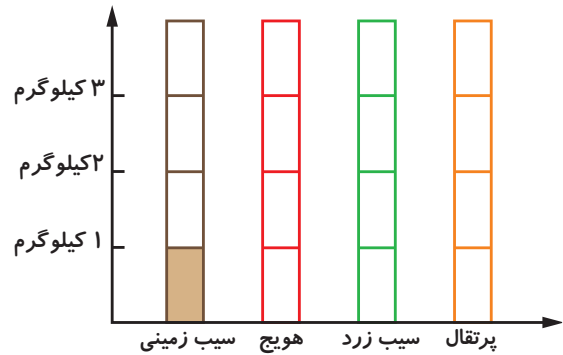
جرم مواد با چه واحدی بیان شده است؟

هیاوا! تخصصی ترین سایت مشاوره کشور

فهرست را به نمودار تبدیل کنید. برای این کار در هر ستون برای هر کیلوگرم، یک خانه را مانند نمونه پر کنید.
جرم کل موادی را که فاطمه و علی خریده‌اند با هم مقایسه کنید.



نمودار خریدهای علی




نمودار خریدهای فاطمه

علی: آیا همیشه ترازو مقدار ماده (جرم ماده) را با کیلوگرم نشان می‌دهد؟
پدر: بیا ببینیم با هم برای خرید سایر مواد غذایی به مغازه‌ی دیگری برویم.
پدر فهرست زیر را برای مغازه‌دار می‌خواند.

فاطمه: پدر چرا «جرم ماده» را با گرم درخواست کردید؟
پدر: وقتی مقدار کمی از ماده نیاز داشته باشیم، آن را با گرم درخواست می‌کنیم.
با توجه به تصویر، بنویسید یک کیلوگرم چند گرم است؟

مقدار	نام ماده
۱۰۰ گرم	کره
۲۵۰ گرم	پنیر
۲۰۰ گرم	گردو



جمع آوری اطلاعات

درباره‌ی کاربرد ترازو در زندگی، اطلاعات جمع آوری کنید و به کلاس گزارش دهید.



فعالیت


تعدادی از وسایل موجود در کیف خود را انتخاب کنید، جرم آنها را حدس بزنید، سپس با ترازوی مناسب، جرم آنها را اندازه گیری، و جدول زیر را کامل کنید.

جرم واقعی	جرم حدس زده شده	جسم
		کتاب علوم
		کتاب ریاضی
		جامدادی
		دفتر

در چند مورد جرمی که حدس زدید به جرمی که ترازو نشان داده، نزدیک است؟ مقدار جرم مواد را با **کیلوگرم** یا **گرم** بیان می کنند.

توجه کنید: در گفت و گو با فرزند خود به جای واژه‌ی **جرم**، واژه‌ی **وزن** را به کار نبرید.

۵ آب ماده‌ی با ارزش



جهت پیکان‌ها (→) را در روی شکل صفحه‌ی قبل دنبال کنید. این جهت‌ها چه چیزی را نشان می‌دهند؟



فعالیت

داخل یک ظرف، کمی آب داغ بریزید.
ظرف را روی شعله بگذارید تا آب داخل آن بجوشد.
در یک قابلمه را مانند شکل زیر، بالای آب در حال جوشیدن نگه دارید. قطره‌های آبی را که تشکیل می‌شود با دقت در یک لیوان جمع‌آوری کنید. آیا مزه‌ی این آب با آب داخل ظرف یکی است؟



هشدار

این آزمایش را زیر نظر معلم انجام دهید.



در این آزمایش بخار آب داغ به در قابلمه که سرد است برخورد می‌کند و به قطره‌های آب تبدیل می‌شود.
وقتی بخار آب سرد شود یا به جسمی سرد برخورد کند، از حالت گاز به مایع تبدیل می‌شود.
به این تغییر حالت، **میعان** می‌گویند.

ایستگاه فکر



- در روزهای سرد زمستان، روی شیشه‌ی پنجره‌ی اتاق، قطره‌های آب تشکیل می‌شود. در این پدیده چه تغییر حالتی رخ می‌دهد؟ توضیح دهید.
- تصویر صفحه‌ی اول درس، چرخه‌ی آب را در طبیعت نشان می‌دهد. آزمایشی را که انجام داده‌اید با چرخه‌ی آب در طبیعت مقایسه کنید و نتیجه را به کلاس گزارش دهید.

مقایسه



- اگر در آزمایش صفحه‌ی قبل، مقداری نمک را در آب حل کنید، پیش‌بینی کنید که آیا مزه‌ی آب جمع‌آوری شده تغییری خواهد کرد؟ این آزمایش را انجام دهید و نتیجه را با پیش‌بینی خود مقایسه کنید.

مشاهده



- کره‌ی جغرافیایی مدرسه را به کلاس بیاورید.
- همه‌جای آن را به دقت ببینید.
- آب‌ها جای بیشتری را در روی زمین گرفته‌اند، یا خشکی‌ها؟



آب دریاها شور است.

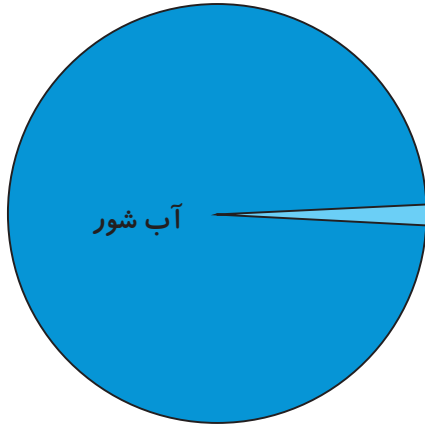

ایستگاه فکر



چرا آب دریاها برای آشامیدن، کشاورزی و شست‌وشو مناسب نیستند؟

درباره‌ی آیه‌ی «وَجَعَلْنَا مِنَ الْمَاءِ كُلَّ شَيْءٍ حَيٍّ» با فرزندتان گفت‌وگو کنید.

مقایسه



۱- در شکل روبه‌رو، رنگ آبی تیره، مقدار آب‌های شور مانند آب دریاها را نشان می‌دهد و رنگ آبی مقدار آب‌های شیرین (آب‌هایی که شور نیستند)؛ مانند آب رودخانه‌ها و چشمه‌ها را نشان می‌دهد.

آب شیرین (قابل استفاده)

۲- یک سطل بزرگ پر از آب را در نظر بگیرید. فرض کنید این مقدار آب، همه‌ی آب شوری است که روی کره‌ی زمین وجود دارد. در این صورت، مقدار آب شیرینی که روی زمین وجود دارد، برابر با یک لیوان آب خواهد بود.

یک قاشق چای خوری از آب درون لیوان، نشان‌دهنده‌ی همه‌ی آب شیرینی است که ما می‌توانیم مصرف کنیم.



آب شور موجود روی زمین

آب شیرین موجود روی زمین

همه‌ی آب شیرینی که ما می‌توانیم مصرف کنیم

مقدار آب قابل آشامیدن خیلی کم است. باید در مصرف آن صرفه‌جویی کنیم.

فعالیت



درباره‌ی راه‌های عملی برای صرفه‌جویی در مصرف آب گفت‌وگو کنید و راه‌حل پیشنهاد دهید. یکی از راه‌حل‌ها را به مدت یک هفته عمل کنید و نتیجه را گزارش کنید.

آزمایش



پیش‌بینی کنید برای اینکه دانه‌های لوبیا به گیاه لوبیا تبدیل شوند، چند بطری آب مصرف می‌شود؟

در گلدانی که ته آن را سوراخ کرده‌اید، یک سنگ کوچک بگذارید. مقداری خاک در گلدان بریزید و سه عدد لوبیا را در وسط خاک قرار دهید و دوباره روی آنها خاک بریزید.

یک بطری آب را همیشه کنار گلدان نگهداری کنید. برای آب دادن به دانه‌ی لوبیاها تا تولید گیاه لوبیای جدید، از آب بطری استفاده کنید. نتیجه را به کلاس گزارش دهید.



فعالیت



دو تکه پارچه‌ی مانند هم و هم‌اندازه تهیه کنید. هر یک از آنها را با نصف استکان آب خیس کنید. یکی از پارچه‌ها را جلوی آفتاب و دیگری را در سایه بگذارید. بعد از حدود یک ساعت، آنها را با هم مقایسه کنید. چه تفاوتی دارند؟



کدام یک تقریباً خشک شده است؟ دلیل آن چیست؟

ایستگاه فکر



در کدام محل، تبخیر سریع‌تر انجام می‌شود؟ چرا؟



ابر چگونه تشکیل می شود؟

یک ظرف شیشه‌ای را از آب داغ پر کنید. بیشتر آب ظرف را خالی کنید به طوری که کمی آب در آن باقی بماند. بلافاصله یک کیسه‌ی نایلونی را با کش به دهانه‌ی ظرف ببندید و یک تکه یخ را روی آن بگذارید. ظرف را در مقابل نور خورشید یا نور یک چراغ بگیرید. آنچه را اتفاق می افتد، گزارش کنید.




هشدار

این آزمایش را زیر نظر معلم انجام دهید. آب داغ را کم کم داخل ظرف بریزید و نکات ایمنی را رعایت کنید.

هیاوا! تخصصی ترین سایت مشاوره کشور


در هوا همیشه مقداری بخار آب وجود دارد. وقتی بخار آب موجود در هوا سرد شود، ابر به وجود می آید. حتماً شکل های گوناگون ابرها را در آسمان دیده اید.



ابرها در یک جا نمی مانند. باد آنها را جابه جا می کند. اگر ابرها به اندازه ی کافی سرد شوند از آنها باران یا برف می بارد.

زندگی ما و آب

۶



گفت و گو



در این محل چه اتفاق‌هایی برای آب باران می‌افتد؟





در دو ظرف مانند هم، به ترتیب خاک رس و ماسه‌ی نرم بریزید. مقدار کمی از مواد داخل هر ظرف را بین دو انگشت خود بگذارید و آن دو انگشت را به هم بمالید، بین آنها چه تفاوتی مشاهده می‌کنید؟

به مقدار مساوی در هر دو ظرف آب بریزید.



چه اتفاقی در هر کدام از خاک‌ها می‌افتد؟
در کدام خاک، آب به مقدار زیادتری فرو رفته است؟



در شکل زیر، تصویر بزرگ شده‌ی دانه‌های خاک رس و ماسه را می‌بینید. در کدام یک آب به مقدار زیادتری فرو می‌رود؟ چرا؟



رود چگونه به وجود می‌آید؟

آبی که از بارش باران و ذوب برف‌ها به وجود می‌آید در سرزمین‌ها به راه می‌افتد؛ ابتدا جوی‌های کوچک، و سپس رود را به وجود می‌آورد.



تشکیل آب‌های زیرزمینی

مقداری از آب باران و برف در زمین فرو می‌رود. وقتی این آب به سنگ‌ها یا خاک رس برسد در بالای آن جمع می‌شود. این آب را **آب زیرزمینی** می‌نامند. در بیشتر استان‌های ایران، رود و دریاچه وجود ندارد و مردم برای مصرف خانگی یا کارهای کشاورزی از آب‌های زیرزمینی استفاده می‌کنند.

جمع آوری اطلاعات

درباره‌ی چشمه، چاه و قنات‌هایی که در شهر یا روستای شما وجود دارد و استفاده‌هایی که از آنها می‌کنند، اطلاعاتی جمع آوری کنید و به کلاس گزارش دهید.

گفت و گو

آب بعضی از چاه‌ها آلوده است. با توجه به شکل زیر دلیل آلوده شدن آب چاه چیست؟



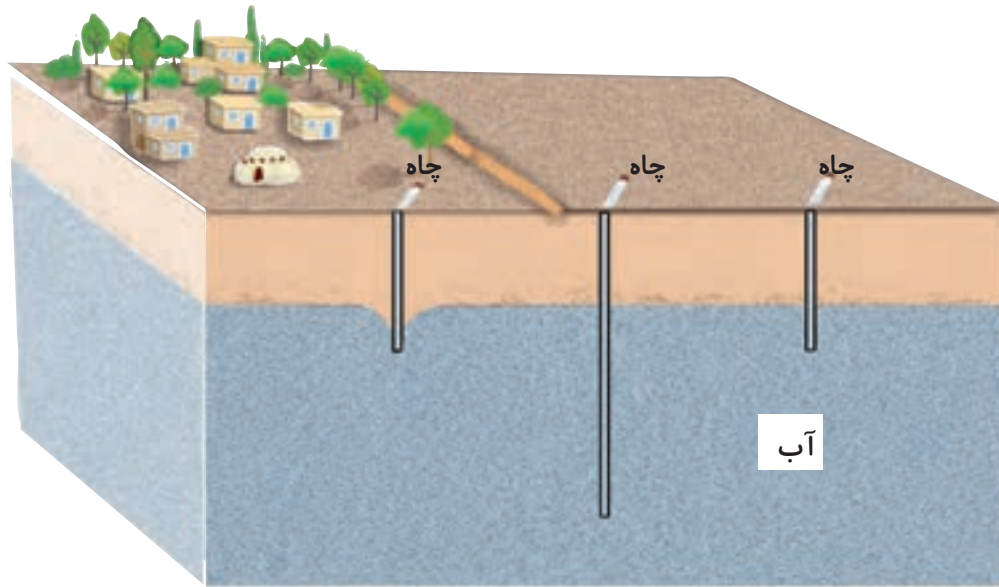
جمع آوری اطلاعات

چه چیزهای دیگری ممکن است آب‌های زیرزمینی را آلوده کند؟

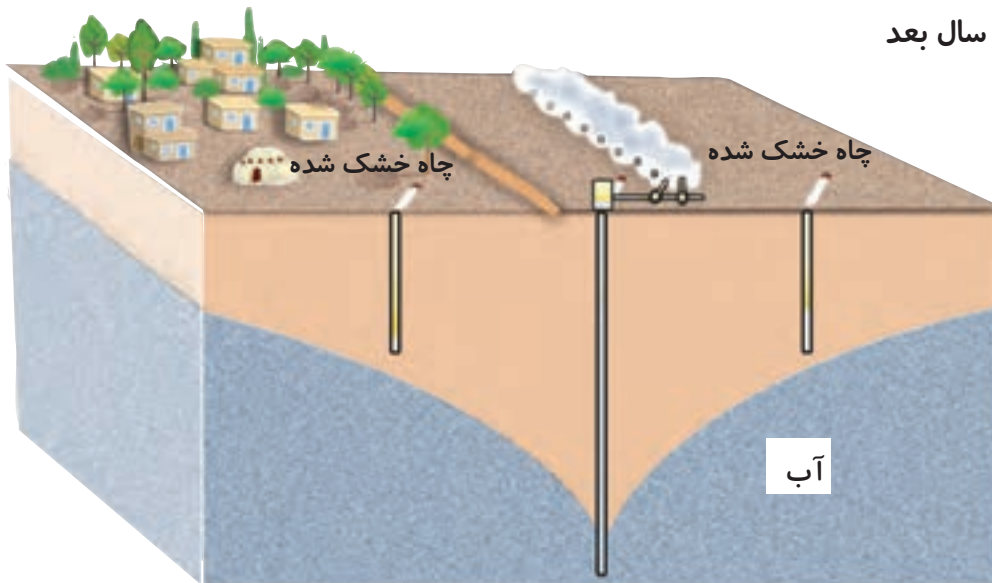
مقایسه



به شکل های زیر نگاه کنید. چه اتفاقی در این محل افتاده است؟ دلیل آن چیست؟



چند سال بعد



آزمایش

وسایل لازم: یک ظرف شیشه‌ای، یک بطری پلاستیکی، مقداری شن، ماسه و ریگ

۱- ته بطری را ببرید.

۲- شن و ماسه و ریگ را خوب بشوید و صبر کنید تا خشک شود. تکه‌ای پارچه را با


کش به دهانه‌ی بطری ببندید.

۳- مانند شکل شن، ماسه و ریگ را به ترتیب در قوطی بریزید.

۴- مقداری آب گل آلود بر روی آنها بریزید.

آبی که از ته بطری خارج می‌شود، صاف است یا گل آلود؟

آیا این آب قابل آشامیدن است؟



آب مصرفی خانه‌ها چگونه تهیه و قابل آشامیدن می‌شود؟

آب رودها را در پشت سد، یا استخرهای بزرگ جمع می‌کنند و بعد آن را به تصفیه‌خانه می‌فرستند.



در تصفیه‌خانه، گل و لای موجود در آب را می‌گیرند و به آن مواد میکروب‌کش هم اضافه می‌کنند. سپس آب سالم و پاکیزه با لوله به شهرها و روستاها فرستاده می‌شود.

جمع‌آوری اطلاعات

در محل زندگی شما چگونه آب تصفیه‌شده هدر می‌رود؟ چه پیشنهادی برای جلوگیری از هدر رفتن آب دارید؟

۷ نور و مشاهدهی اجسام





امید و دوستانش در حال بازی هستند. هریک از بچه‌ها کدام یک از دوستانش را می‌تواند ببیند؟
کدام یک را نمی‌تواند ببیند؟ چرا؟



در چه شرایطی و کجاها نتوانسته‌اید چیزهای اطراف خود را ببینید؟
در این باره با دوستانتان گفت‌وگو کنید.

وقتی برق خانه قطع می شود!

هنگام شب با کمک بزرگ ترهای خود، چند دقیقه همه ی چراغ های خانه را خاموش کنید و به قسمت های مختلف خانه بروید و روز بعد درباره ی این تجربه و آنچه دیده اید یا نتوانسته اید ببینید در کلاس صحبت کنید.



برای دیدن اجسام، نور لازم است. این نور توسط اجسامی که به آنها منبع نور گفته می شود، تولید می شود. به اطراف خود نگاه کنید و چند منبع نور را نام ببرید.



علم و زندگی




بعضی از ساعت ها از موادی ساخته شده اند که در تاریکی از خود نور تولید می کنند. برای همین در هنگام تاریکی شب، می توان آنها را دید و با آنها زمان را تشخیص داد. در تصویرهای روبه رو برخی از اجسام را می بینید که در تاریکی از خود نور تولید می کنند .



بازتابش نور

این دانش آموزان با آینه، نور خورشید را بر روی جاهای مختلف می‌اندازند. شما هم این کار را با دوستانتان انجام دهید. چه چیزی مشاهده می‌کنید؟ آینه را کمی در دست خود بچرخانید و با دوستانتان درباره‌ی مشاهدات خود گفت‌وگو کنید.



وقتی نور خورشید به آینه می‌تابد از آن برمی‌گردد. به این پدیده، **بازتابش نور** گفته می‌شود. آیا شما اجسام دیگری می‌شناسید که بتوانند مثل آینه نور را بازتاب دهند؟



هشدار

تابش نور شدید به چشم، موجب آسیب دیدگی آن می‌شود.

آزمایش

وسایل لازم: آینه، ورق آلومینیم^۱ و مقوّا
تکه‌ای از ورق آلومینیم را چروک کنید و آن را روی مقوّا بچسبانید.
مانند شکل، یک بار آینه و بار دیگر ورق آلومینیم چروک را در مقابل نور خورشید قرار دهید.
درباره‌ی مشاهدات خود با دوستانتان گفت‌وگو کنید.
بیشتر اجسام وقتی نور به آنها می‌تابد، آن را بازتاب می‌دهند.
اگر نور به سطح صاف و صیقلی مانند آینه برخورد کند، به طور منظم بازتاب می‌شود. اما وقتی
به سطح ناصاف و غیرصیقلی مانند ورق آلومینیم چروک برخورد کند به طور نامنظم بازتاب می‌شود.
آزمایش را با اجسام مختلف تکرار کنید و آنها را مطابق جدول زیر در دو دسته‌ی مختلف قرار
دهید.

اجسامی که بازتابش نامنظم نور به وجود می‌آورند.

اجسامی که بازتابش منظم نور به وجود می‌آورند.





آینه‌ها و ویژگی‌های آنها

هر چیزی که بتواند نور را به طور منظم بازتاب دهد، مانند آینه عمل می‌کند. آینه‌های معمولی را **آینه‌ی تخت** می‌نامند.

همه‌ی آینه‌ها تخت نیستند. بعضی از آینه‌ها **فرورفته** و بعضی **برآمده** اند.

فعالیت

- ۱- به سطح درونی یک قاشق براق و تمیز نگاه کنید. تصویر خود را چگونه می‌بینید؟
- ۲- سطح بیرونی قاشق را نگاه کنید. این بار تصویر خود را چگونه می‌بینید؟

مقایسه

به تصویر خود در یک آینه‌ی تخت و سطح بیرونی و درونی قاشق دقت کنید و ویژگی‌های آنها را در جدول زیر بنویسید.

ویژگی‌های تصویر در		
آینه‌ی فرورفته	آینه‌ی برآمده	آینه‌ی تخت

کاربرد آینه‌ها

آینه‌ها کاربردهای مختلفی دارند. برخی از آنها در شکل‌های زیر نشان داده شده است. با دوستان خود درباره‌ی هر یک از آنها گفت‌وگو کنید و بگویید چه کاربردهای دیگری از آینه‌ها به نظرتان می‌آید؟



فعالیت

چند جسم رنگی و براق تهیه کنید. بازتاب نور از سطح آنها را بر روی دیوار مشاهده کنید. از مشاهدات خود چه نتیجه‌ای می‌گیرید؟

ما چگونه اجسام را می بینیم؟



به تصویر روبه رو نگاه کنید.
اگر در اتاق نور وجود نداشت و تاریک بود،
آیا این دانش آموز می توانست کتاب را ببیند؟
اگر در مسیر بازتاب نور از سطح کتاب
مانعی وجود داشت، او می توانست کتاب را
ببیند؟
اگر چشم های این دانش آموز بسته بود، او
می توانست کتاب را ببیند؟
با دوستان خود درباره ی چگونگی دیدن
اجسام گفت و گو کنید. اکنون به تصویر صفحه ی
۵۲ نگاه کنید و توضیح دهید که چرا برخی از
بچه ها نمی توانند دوستان خود را ببینند.

ایستگاه فکر

توضیح دهید که چگونه می توانید جسم هایی را که پشت سر شما هستند ، بدون اینکه
برگردید، ببینید؟



جست و جو کنیم و بسازیم ۸

چگونه می توانیم آینه ای تخت، فرورفته و برآمده بسازیم؟



وسایل لازم: لوله ی پلاستیکی یا مقوایی، ورق نازک آلومینیم، چند حلقه کش، بادکنک، نخ و

قیچی



روش ساخت

۱- سر بادکنک را ببرید و به کمک دوست خود بادکنک را بکشید و با آن روی یک طرف دهانه‌ی لوله را پوشانید.




۲- با ورق آلومینیم روی دهانه‌ی دیگر لوله را پوشانید.
۳- حلقه‌های کش را دولا کنید و دور ورق آلومینیم قرار دهید.



هیاوا! تخصصی ترین سایت مشاوره کشور

۴- لبه‌های ورق آلومینیم را به آرامی بکشید تا سطح آن صاف و بدون چروک شود. حال لبه‌های اضافی ورق آلومینیم را قیچی کنید. اکنون آینه‌ی شما آماده است.



فعالیت

۱- آینه را روبه‌روی صورت خود بگیرید و تصویر خود را در آن مشاهده کنید.
۲- آینه را در فاصله‌ی کمتر از ۱۰ سانتی‌متری چشم خود نگه دارید. از دوست خود بخواهید بادکنک را به طرف بیرون بکشد. برای تصویر شما چه اتفاقی می‌افتد؟ تصویر شما در این حالت با حالت قبلی چه تفاوت‌هایی دارد؟



۳- آینه را در فاصله‌ی بیشتر از ۱۵ سانتی‌متری از چشم خود نگه دارید. بادکنک را کمی به سمت داخل فشار دهید. برای تصویر شما چه اتفاقی می‌افتد؟

۴- با استفاده از آینه‌ای که ساخته‌اید، تصویر چند جسم مختلف را در سه حالت آینه (تخت، فرورفته و برآمده) مشاهده کنید. نتیجه‌ی مشاهدات خود را به صورت نقاشی یا روزنامه‌ی دیواری به کلاس گزارش دهید.




۹ نيرو، همه جا (۱)






بچه‌ها سرگرم بازی هستند. در هر بازی،
بچه‌ها چه کاری انجام می‌دهند؟



هیاوا! تخصصی ترین سایت مشاوره کشور

در تمام این بازی‌ها، بچه‌ها چیزی را به حرکت درمی‌آورند.



هنگام بازی نکات ایمنی را رعایت کنید.



هیاوا! تخصصی ترین سایت مشاوره کشور

برادر محسن روی تاب نشسته است؛ محسن تاب را می کشد و رها می کند و هر بار که تاب به او نزدیک می شود، آن را هل می دهد.



به تصویرها نگاه کنید؛ در کدام یک برای اینکه جسمی حرکت کند، آن را فقط هل می دهند؟

در کدام یک برای اینکه جسمی حرکت کند، آن را می کشند؟
در کدام یک هم با کشیدن و هم با هل دادن می توان جسم را به حرکت درآورد؟



هیاوا! تخصصی ترین سایت مشاوره کشور

شما هم سعی کنید اجسام اطراف خود را به حرکت درآورید. آیا می‌توانید همه‌ی اجسام را به آسانی به حرکت درآورید؟ چرا؟
بچه‌ها در دو گروه قرار گرفته‌اند و بازی طناب‌کشی انجام می‌دهند.
به نظر شما کدام گروه برنده می‌شود؟ چرا؟



بچه‌ها سنگ بزرگی را هل می‌دهند تا حرکت کند؛ اما
چرا سنگ حرکت نمی‌کند؟
آنها چگونه می‌توانند سنگ بزرگ را به حرکت
درآورند؟



همان‌طور که در شکل‌ها مشاهده کردید با کشیدن و هل دادن می‌توان اجسام را به حرکت درآورد. هنگامی که جسمی را می‌کشیم یا هل می‌دهیم به آن نیرو وارد می‌کنیم. در همه‌ی کارها و بازی‌ها نیرو به کار می‌رود.

تصویرهای زیر را ببینید.



در کدام شکل، نیرو به صورت کشیدن وارد می شود؟
در کدام شکل، نیرو به صورت هل دادن وارد می شود؟
در کدام شکل برای حرکت دادن جسم، نیرو هم به صورت کشیدن و هم به صورت هل دادن می تواند وارد شود؟



کارهایی را که هر روز انجام می دهید در یک جدول بنویسید و مشخص کنید در کدامها نیرو به صورت کشیدن و در کدامها به صورت هل دادن و در کدامها نیرو به هر دو صورت (کشیدن و هل دادن) می تواند وارد شود؟

کارها	هل دادن	کشیدن	هم کشیدن و هم هل دادن
پوشیدن جوراب			

گفت و گو

به تصویرها نگاه کنید.

در کدام تصویر، نیرو، سبب توقف حرکت جسمی می شود؟

در کدام تصویر، نیرو، سبب تغییر شکل جسمی می شود؟

در کدام تصویر، نیرو، جهت حرکت جسمی را تغییر می دهد؟



نیروها نه تنها اجسام ساکن را به حرکت درمی آورند، بلکه می توانند سبب توقف اجسام، تغییر جهت آنها و تغییر شکل اجسام نیز بشوند. آیا می توانید برای هر مورد مثالی بزنید؟



فعالیت

قایق بسازید:

بچه‌های یک گروه با خمیر بازی و بچه‌های گروه دیگر با ورقه‌های آلومینیم قایق درست می‌کنند به طوری که قایق روی آب شناور بماند. شما هم قایقی درست کنید که روی آب قرار بگیرد.

با نیروی فوت کردن قایق را به حرکت در آورید.

با نیروی فوت کردن قایق در حال حرکت را متوقف کنید.

آیا می‌توانید با فوت کردن، جهت حرکت قایق را تغییر دهید؟



هیاوا! تخصصی ترین سایت مشاوره کشور

ما می توانیم نیرو را در جهت های مختلف به جسم وارد کنیم.




در هر یک از شکل ها نیرو در چه جهتی به جسم وارد می شود؟



هشدار


هنگام کار با ابزار، موارد ایمنی را رعایت کنید.

١٥ نيرو، همه جا (٢)





دو سر آهن رباها را هر بار مانند شکل‌های زیر به هم نزدیک کنید، چه مشاهده می‌کنید؟ آیا برای اینکه این دو آهن ربا به یکدیگر نیرو وارد کنند، باید با هم تماس داشته باشند؟



چه نیرویی توپ را به طرف زمین می‌کشد؟ همان‌طور که آهن رباها بدون تماس به هم نیرو وارد می‌کنند و همدیگر را جذب یا دفع می‌کنند، کره‌ی زمین نیز بدون تماس با اجسام به همه چیز نیرو وارد می‌کند و آنها را به سمت خود می‌کشد. به این نیرو، **نیروی کشش زمین (جاذبه‌ی زمین)** می‌گویند.

نیروی کشش زمین در بسیاری از کارها به ما کمک می کند.



نیروی کشش زمین در چه کارهای دیگری به ما کمک می کند؟



به نظر شما کدام پیکان، جهت نیروی کشش زمین را نشان می دهد؟

آزمایش

زمین چه اجسامی را با نیروی بیشتری به طرف خود می کشد؟
 وسایل لازم: فنر یا کش - ترازو - خط کش (متر) - گیره ی کاغذ - اجسام مختلف (سیب - موز - جامدادی - کتاب و...) - مقداری نخ
 جرم هر کدام از اجسام را با ترازو اندازه گیری و یادداشت کنید. سپس آنها را به فنر یا کش وصل کنید و بعد از کشیده شدن فنر یا کش، طول آن را اندازه بگیرید و در جدول زیر بنویسید.

طول فنر یا کش (سانتی متر)	جرم جسم (گرم)	نام جسم
		سیب
		کتاب
	
	

با توجه به اطلاعاتی که در جدول بالا یادداشت کرده اید، بگویید فنر در کدام جسم بیشتر کشیده شده است؟ چه نتیجه ای می گیرید؟



شگفتی‌های آفرینش

آیا تا به حال فکر کرده‌اید که اگر نیروی کشش زمین نبود در انجام دادن چه کارهایی با مشکل روبه‌رو می‌شدیم؟

اگر نیرو کافی نباشد!

برای انجام دادن بعضی کارها به نیروی کمی نیاز است؛ مثلاً شما به راحتی می‌توانید یک لیوان آب را بلند کنید؛ اما برای بلند کردن یک گلدان سنگین نیروی زیادی لازم است. به نظر شما برای انجام دادن بعضی از کارهایی که نیروی کافی برای آنها نداریم، چه باید کرد؟





تنه‌ی درخت در جوی آب، مانع جاری شدن آب رودخانه به مزرعه شده بود.
پدر علی چگونه توانست تنه‌ی درخت را از آب خارج کند؟

آزمایش

وسایل لازم: یک تخته‌ی یک‌متری – وزنه (سنگ) – تکیه‌گاه (مانند شکل)

۱- مانند شکل، تخته را روی تکیه‌گاه قرار دهید.

۲- وزنه را یک بار با دست بلند کنید و بار دیگر آن را به کمک یک تخته و تکیه‌گاه بلند کنید.

۳- بلند کردن وزنه در کدام حالت آسان‌تر است؟ نیرویی که به کار می‌برید، چه تغییری می‌کند؟



۳- بدون اینکه محلّ تکیه‌گاه و وزنه را تغییر دهید، دست خود را کم‌کم به تکیه‌گاه نزدیک، و

هر بار وزنه را به کمک تخته بلند کنید. نیرویی که به کار می‌برید، چه تغییری می‌کند؟



۴- بدون اینکه محلّ تکیه‌گاه و دست خود را تغییر دهید، وزنه را کم‌کم به تکیه‌گاه نزدیک

کنید و هر بار با کمک تخته وزنه را بلند کنید. نیرویی که به کار می‌برید، چه تغییری می‌کند؟

مشاهدات خود را یادداشت کنید. چه نتیجه‌ای از این آزمایش می‌گیرید؟



هیاوا! تخصصی ترین سایت مشاوره کشور

تخته، میله یا هر وسیله‌ای که با آن و به کمک تکیه‌گاه جسمی را بلند می‌کنید، **اهرم** می‌نامند. به کمک اهرم می‌توان چیزهای سنگین را جابه‌جا یا بلند کرد.

علم و زندگی



اهرم‌ها فقط به شکل میله نیستند. آنها کاربردهای گوناگونی در زندگی روزمره دارند. در شکل‌های زیر وسیله‌هایی را که مثل اهرم کار می‌کنند، مشخص کنید.



بكاريد و بيبينيد

۱۱



فعالیت



مریم و زهرا فعالیت زیر را انجام دادند. شما هم با دنبال کردن مراحل که در تصویر نشان داده شده است، این فعالیت را انجام دهید. برای این آزمایش از ظرف‌های یک‌بار مصرف شفاف و خاک باغچه استفاده کنید. ظرف‌ها را در جای مناسبی که نور کافی وجود دارد، قرار دهید.



هشدار

برای این آزمایش از دستکش استفاده کنید.



در تصویرهای زیر به ریشه‌ی گیاهان نگاه کنید و نام هر گیاه را در جای مناسب بنویسید.



ریشه‌ی افشان	ریشه‌ی راست

ریشه‌ها، گیاهان را در خاک نگه می‌دارند. بعضی ریشه‌ها خوراکی‌اند؛ مانند هویج، چغندر و تربچه.



همراه با معلم خود در یک بازدید علمی، ریشه‌ی گیاهان در دسترس را مشاهده و مقایسه کنید.



هنگام بازدید علمی مراقب محیط زیست باشید.

فعالیت



برگ های گیاهانی را که کاشته اید با دقت مشاهده کنید و مشاهدات خود را به کلاس گزارش دهید.

شکل برگ ها گوناگون است.

– بعضی از برگ ها دراز و باریک اند.

– برخی پهن اند.

– بعضی ها هم سوزنی شکل اند.



جمع آوری اطلاعات



از برگ چه گیاهانی به عنوان غذا استفاده می کنیم؟

مقایسه



ساقه ی دو گیاه سیب و لوبیا را با دقت مشاهده، و آنها را با هم مقایسه کنید.



بعضی از ساقه ها مانند ساقه ی درختان، کلفت و چوبی اند و بعضی از ساقه ها مانند ساقه ی گیاه لوبیا نازک اند.

مشاهده و طبقه بندی



با معلم خود به باغ یا بوستان بروید، ساقه‌ی گیاهان آنجا را مشاهده کنید و نام آنها را در جدول روبه‌رو بنویسید. مراقب باشید به ساقه‌ی گیاهان آسیب نرسانید.

ساقه‌ی کلفت	ساقه‌ی نازک
سیب	لوییا

مقایسه



به تصویر گل‌های زیر نگاه کنید.



نرگس

بنفشه

گلبرگ‌های آنها را بشمارید و جدول زیر را کامل کنید.

تعداد گلبرگ‌ها	نام گل
	بنفشه
	نرگس

طبقه بندی



تعدادی گل از محیط زندگی خود جمع آوری و آنها را طبقه بندی کنید.

مشاهده و طبقه بندی

با توجه به تصویرها، جدول های زیر را کامل کنید. چه نتیجه ای می گیرید؟

دانه ی لوبیا دو قسمت شده



دانه ی ذرت



دانه ی دو قسمتی

دانه ی یک قسمتی

دانه ی گندم



دانه ی آفتابگردان دو قسمت شده



برگ گیاه لوبیا



برگ گیاه ذرت



برگ باریک

برگ پهن

برگ گیاه آفتابگردان



برگ گیاه گندم



هیاوا! تخصصی ترین سایت مشاوره کشور

ریشه‌ی لوبیا



ریشه‌ی ذرت



ریشه‌ی گندم



ریشه‌ی آفتابگردان



ریشه‌ی راست

ریشه‌ی افشان

گل یاس سفید



گل بنفشه



تعداد گلبرگ‌ها

۵ یا ۴

تعداد گلبرگ‌ها

۶ یا ۳

گل سوسن



گل نرگس



هیاوا! تخصصی ترین سایت مشاوره کشور

همه ی گیاهان گلدار نیستند.
بعضی از گیاهان مانند درخت کاج به جای گل و میوه، قسمت‌هایی به نام **مخروط** دارند.



به این گیاهان، **مخروط دار** می‌گویند.

هر کدام جای خود (۱)

۱۲



جانوران در جاهای مختلف زندگی می کنند.



دانش آموزان تصویر انواع جانوران را با خود به کلاس آورده اند. آنها می خواهند جانوران را با توجه به محل زندگی شان طبقه بندی کنند.



چرا جانوران در محل های مختلف زندگی می کنند؟

معمولاً جانوران در جایی زندگی می کنند که در آنجا می توانند نیازهایشان را به خوبی برطرف کنند.

به فرزند خود کمک کنید تصویر تعدادی جانور را تهیه کند و به کلاس ببرد.

غواصی در آب

ما به کمک شش هایمان نفس می کشیم.
غواص ها برای رفتن به زیر آب لباس مخصوصی می پوشند و کپسول هوا را به خود وصل می کنند.



چرا غواص در زیر آب به کپسول هوا نیاز دارد؟

آزمایش

- وسایل لازم: بطری شیشه‌ای باریک و دردار، شیلنگ باریک، سرنگ بدون سوزن
- ۱- به کمک معلم در بطری را مثل تصویر سوراخ کنید.
 - ۲- تگه‌ی کوچکی از شیلنگ را ببرید و از سوراخ در بطری عبور دهید.
 - ۳- مثل تصویر انتهای سرنگ را به درون شیلنگ فرو کنید.
 - ۴- مثل تصویر ۴ درون بطری و سرنگ آب بریزید. بطری باید از آب پر باشد.
 - ۵- در بطری را محکم ببندید و آن را مثل تصویر ۵ نگه دارید.
 - ۶- اکنون دسته‌ی سرنگ را بکشید؛ چه اتفاقی می‌افتد؟



آیا در آب، هوا وجود دارد؟

هیوا! تخصصی ترین سایت مشاوره کشور

ماهی‌ها به جای شش، آبشش دارند و از هوای درون آب تنفس می‌کنند.

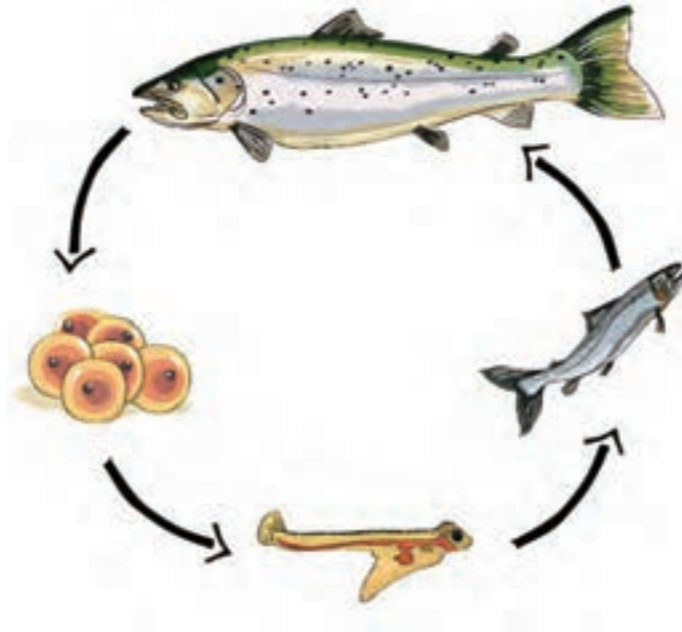


ماهی‌ها می‌توانند در رودخانه‌ها، دریاها، اقیانوس‌ها و حتی یک تَنگ کوچک آب زندگی کنند.



بدن اغلب ماهی‌ها را **پولک** پوشانده است. پولک از بدن ماهی محافظت می‌کند. ماهی با **باله‌هایش** در آب شنا می‌کند. ماهی با حرکت دادن دم، خود را به جلو می‌راند. لغزنده بودن روی بدن ماهی به حرکت آن کمک می‌کند.

بچه ماهی ها درون آب از تخم خارج می شوند. آنها در آب رشد می کنند و بزرگ می شوند.



جمع آوری اطلاعات



ماهی ها چه غذاهایی می خورند؟

شگفتی های آفرینش

در سواحل جنوبی کشورمان ماهی هایی زندگی می کنند که می توانند با باله های بزرگ خود از آب بیرون بیایند و مدتی در هوا بپرنند. در جنوب کشور به این نوع ماهی، «ماهی بالی» هم می گویند.




مهد کودک آبی

تخم قورباغه در آب رشد می کند و به بچه قورباغه تبدیل می شود. بچه قورباغه ها در آب رشد می کنند.



احمد و خانواده اش به گردش در طبیعت رفته بودند. احمد تعدادی بچه قورباغه از آب گرفت و با احتیاط درون ظرفی قرار داد. او امروز آنها را به کلاس آورده است تا دانش آموزان بچه قورباغه ها را مشاهده کنند.





گفت و گو

بچه قورباغه‌ها چه شباهت‌ها و چه تفاوت‌هایی با ماهی‌ها دارند؟

وقتی بچه قورباغه‌ها بزرگ می‌شوند، تغییر می‌کنند؛ یعنی باله‌ها و آبشش‌ها و دمشان از بین می‌رود و به جای آنها در بدنشان شش و دست و پا ساخته می‌شود. پس از اینکه این تغییرات در بدن آنها صورت گرفت، قورباغه‌ها می‌توانند روی خشکی کنار برکه‌ی آب زندگی کنند. دانشمندان قورباغه‌ها و جانورانی مثل آنها را گروه **دوزیستان** می‌نامند.

به کمک پدر و مادر بچه‌ها، تعدادی بچه قورباغه تهیه کنید و حتماً پس از مشاهده، آنها را به محل زندگی‌شان برگردانید.

هیاوا! تخصصی ترین سایت مشاوره کشور

معمولاً دوزیستان در جاهایی که آب باشد زندگی می کنند تا پوست بدنشان همیشه مرطوب باشد. در شکل های زیر انواعی از آنها را که در کشور ما زندگی می کنند، می بینید.



سمندر



قورباغه



وزغ

جمع آوری اطلاعات



درباره ی زندگی یک جانور دوزیست که در کشور ما زندگی می کند، گزارش تهیه کنید.

به فرزند خود کمک کنید تا درباره ی یک دوزیست اطلاعات جمع آوری کند.

شگفتی های آفرینش

در برخی از جاهای کشور ما نوعی وزغ زندگی می کند که پاهایش برآمدگی شبیه بیل کوچک دارد. جانور با پاهایش حفره ای را در خاک درست می کند و می تواند ماه ها زیر خاک مرطوب بیابان زنده بماند. وقتی باران ببارد، جانور از خاک بیرون می آید.



هر کدام جای خود (۲)

۱۳



از فراز آسمان تا روی زمین

عقاب از بالای صخره مار را می بیند و برای گرفتن آن شیرجه می رود تا با چنگال های خود آن را بگیرد اما مار خود را در سوراخ پنهان می کند.



گفت و گو

عقاب چگونه حرکت می کند؟
مار چگونه خود را به سوراخ می رساند؟

مار، دست و پا ندارد و روی زمین می خزد. مار از گروه **خزندگان** است. برخی از خزندگان مثل مارمولک دست و پای کوتاهی دارند و هنگام حرکت شکمشان را روی زمین می کشند.



روی بدن مارها و خزندگان دیگر را **پولک های سختی** پوشانده است.

هیاوا! تخصصی ترین سایت مشاوره کشور

عقاب با بال‌هایش پرواز می‌کند. بدن عقاب را پر پوشانده است. دانشمندان عقاب را در گروه **پرنده‌گان** طبقه‌بندی می‌کنند. خزندگان و پرنده‌گان با شش تنفس می‌کنند. آنها بیشتر عمر خود را در خشکی می‌گذرانند. مار و عقاب هر دو تخم می‌گذارند. پرنده‌گان معمولاً روی تخم‌هایشان می‌خوابند. برخی مارها دور تخم‌هایشان حلقه می‌زنند.



ایستگاه فکر



در سال گذشته با لاک پشت دریایی آشنا شدید. این جانور چگونه از تخم‌هایش مراقبت می‌کند؟

جمع‌آوری اطلاعات



بیشتر مردم مارها را جانوران خطرناکی می‌دانند. اما این جانوران برای انسان فایده‌هایی هم دارند. این جانوران چه کمک‌هایی به ما می‌کنند؟



تصویرهای زیر را ببینید. در هر گروه فهرستی از خزندگان و پرندگانی را که می شناسید، تهیه کنید.



تمساح



شتر مرغ



اردک



لاک پشت



پلیکان



پنگوئن



یک پرنده را که در محل زندگی خود می شناسید، مشاهده کنید و به این پرسش ها پاسخ دهید.
این پرنده چه غذایی می خورد؟
این پرنده چگونه غذا می خورد؟
آیا پرهای قسمت های مختلف بدن پرنده مثل هم اند؟



رسول خدا (ص) فرمودند: «کسی که گنجشک یا پرنده ای دیگر را به ناحق بکشد در روز قیامت مورد بازخواست قرار می گیرد».

شیر، پشم یا مو

شیر برای ما غذای مفیدی است. شیر را از کدام جانوران به دست می آوریم؟
از این جانوران چه استفاده های دیگری می کنیم؟



هیاوا! تخصصی ترین سایت مشاوره کشور

دانشمندان جانورانی مانند گوسفند، بز، گاو و شتر را در گروه **پستانداران** طبقه بندی می کنند. بدن پستانداران از مو یا پشم پوشیده شده است. پستانداران بچه می زایند و به آنها شیر می دهند. هر یک از پستاندارانی که در تصویرهای زیر می بینید، چه غذایی می خورند؟



شیر



سنجاب



روباه



خرگوش



گربه



خرس

جمع آوری اطلاعات

در محلّ زندگی شما کدام پستانداران زندگی می کنند؟ هر گروه درباره ی زندگی یکی از آنها گزارشی تهیه کند و به کلاس گزارش دهد.

در معرفی و تهیه ی منبع مناسب برای آماده کردن گزارش این صفحه به فرزند خود کمک کنید.

هیاوا! تخصصی ترین سایت مشاوره کشور

تصویرهای زیر را ببینید. هر یک از پستانداران تصویرهای زیر چگونه حرکت می کنند؟



پلنگ



وال



اسب



فک



کانگورو



خفاش

حرکت این جانوران با ماهی ها، پرنده گان و خزندگان چه شباهت ها و چه تفاوت هایی دارد؟

ستونی از مهره‌ها

استخوان‌های یک ماهی را مشاهده کنید.



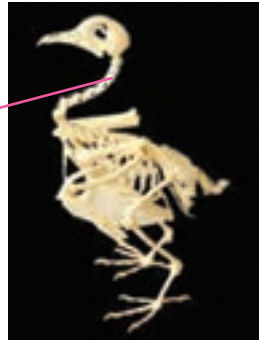
ماهی‌ها در پشت خود تعدادی مهره دارند که پشت سر هم قرار گرفته‌اند و ستون مهره‌ها را تشکیل داده‌اند. به همین علت ماهی‌ها را **مهره‌دار** می‌نامند.



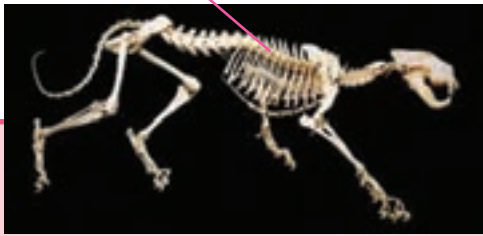
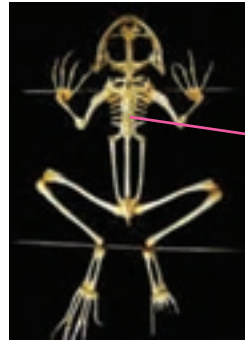
هیاوا! تخصصی ترین سایت مشاوره کشور

دوزیستان، خزندگان، پرندگان و پستانداران نیز مهره دارند.

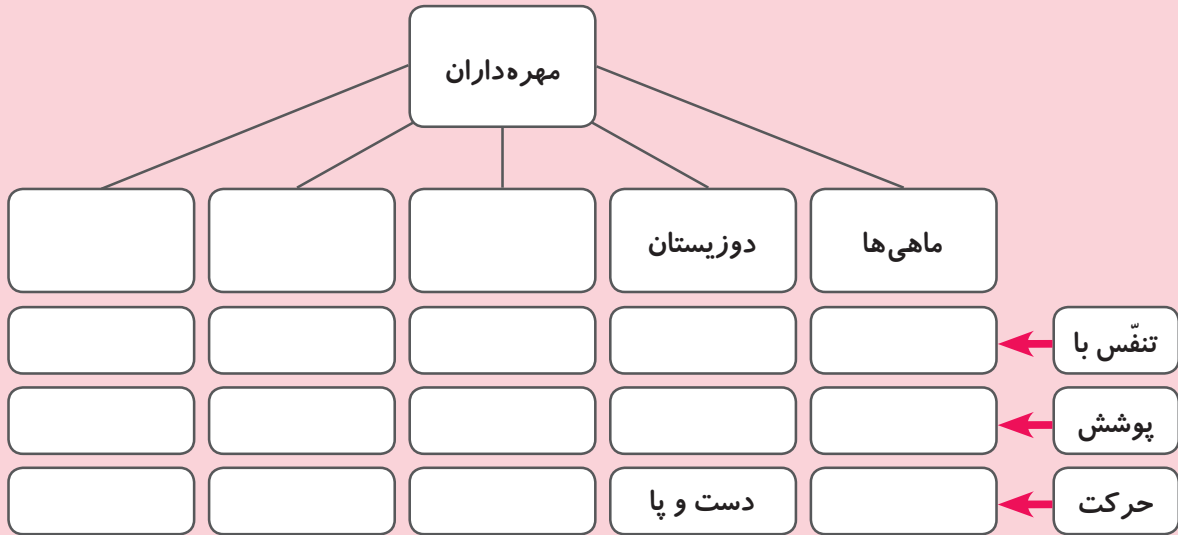
ستون مهره



ستون مهره



با کمک دوستانتان نمودار زیر را کامل کنید.



جمع آوری اطلاعات



آیا همه‌ی جانوران مهره دارند؟

۱۴ از گذشته تا آینده (نگهداری مواد غذایی)

مهران: پدربزرگم می گفت، از زمان های گذشته تا کنون بعضی از مواد غذایی را داخل نمک یا آب نمک قرار می دهند یا آنها را خشک می کنند تا فاسد نشوند.
محمد: مادربزرگ من هم می گفت، گوشت را در سبدهای توری در جاهای سایه آویزان می کردند تا خنک بماند و فاسد نشود.



تصویرهای زیر برخی از روش های نگهداری مواد غذایی را نشان می دهد.



در محل زندگی شما برای نگهداری مواد غذایی، کدام یک از روش ها به کار می رود؟

جمع آوری اطلاعات

از بزرگ ترها پرسید در دوره ی کودکی آنها از چه روش های دیگری برای نگهداری مواد غذایی استفاده می کردند؟

روش های خشک کردن مواد غذایی

تصاویر زیر برخی روش های خشک کردن مواد غذایی را به طور سنتی و صنعتی نشان می دهند.

صنعتی	سنتی
	
	
	

گفت و گو

درباره ی روش های سنتی و صنعتی خشک کردن مواد غذایی گفت و گو کنید.

استفاده از نمک برای نگهداری مواد غذایی

تصویرهای زیر برخی از روش‌های نگهداری مواد غذایی در نمک را نشان می‌دهند.



گفت و گو

در شهر یا روستای شما چه مواد غذایی دیگری را برای مدت طولانی در آب نمک نگهداری می‌کنند؟
ضرب‌المثل معروفی درباره‌ی اهمیت نمک در نگهداری مواد غذایی وجود دارد. آن را از معلم خود پرسید.

روش‌های خنک کردن برای نگهداری مواد غذایی


یکی از راه‌های نگهداری مواد غذایی، گذاشتن آنها در جاهای سرد یا کنار یخ است. این روش با گذشت زمان تغییر کرده است. تصویرهای زیر برخی از راه‌ها یا وسایل خنک کردن مواد غذایی را نشان می‌دهند.



یخدان



سرداب



کارخانه‌ی یخ سازی

جمع‌آوری اطلاعات

درباره‌ی یخدان‌ها و یخچال‌های قدیمی از بزرگ‌ترها سؤال کنید و به کلاس گزارش دهید.

ایستگاه فکر

با گذشت زمان، یخچال‌ها چه تغییراتی کرده‌اند؟

علم و زندگی

پیش‌بینی کنید در آینده چه تغییراتی در روش‌های نگهداری مواد غذایی به وجود خواهد آمد؟

